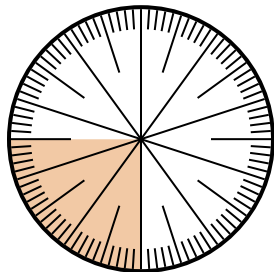


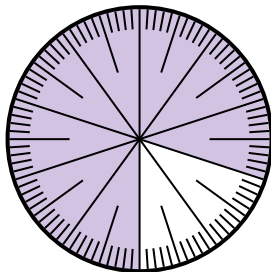


Решите каждую задачу.

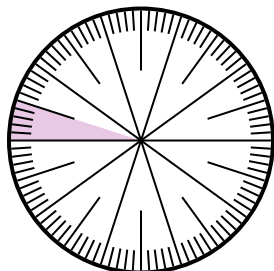
- 1) Выразите часть незатененный как долю от целого с 100 в качестве знаменателя.



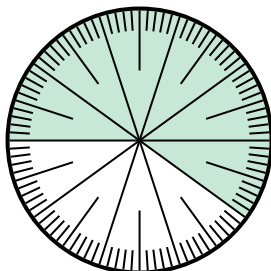
- 2) Выразите часть незатененный как десятичную дробь от целого.



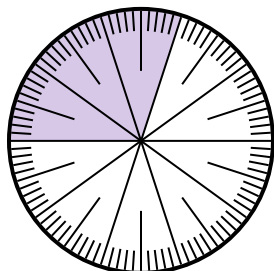
- 3) Выразите часть затененный как долю от целого с 100 в качестве знаменателя.



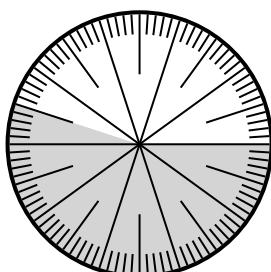
- 4) Выразите часть затененный как долю от целого с 100 в качестве знаменателя.



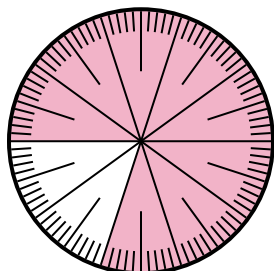
- 5) Выразите часть незатененный как долю от целого с 100 в качестве знаменателя.



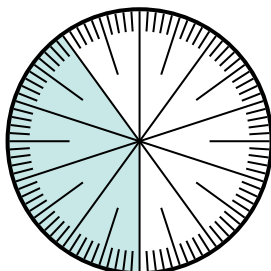
- 6) Выразите часть незатененный как долю от целого с 100 в качестве знаменателя.



- 7) Выразите часть незатененный как долю от целого с 100 в качестве знаменателя.



- 8) Выразите часть незатененный как десятичную дробь от целого.



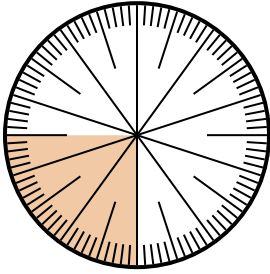
**Отвeты**

1. \_\_\_\_\_
2. \_\_\_\_\_
3. \_\_\_\_\_
4. \_\_\_\_\_
5. \_\_\_\_\_
6. \_\_\_\_\_
7. \_\_\_\_\_
8. \_\_\_\_\_

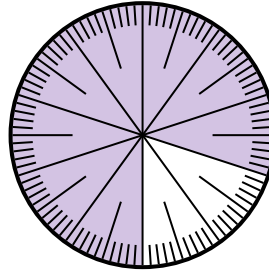


Решите каждую задачу.

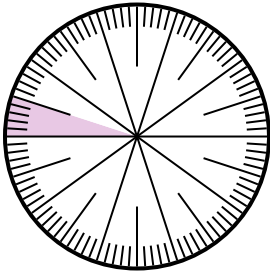
- 1) Выразите часть незатененный как долю от целого с 100 в качестве знаменателя.



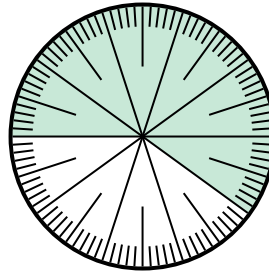
- 2) Выразите часть незатененный как десятичную дробь от целого.



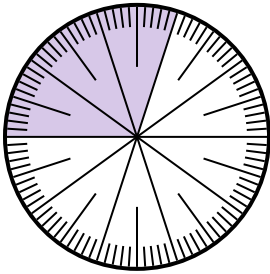
- 3) Выразите часть затененный как долю от целого с 100 в качестве знаменателя.



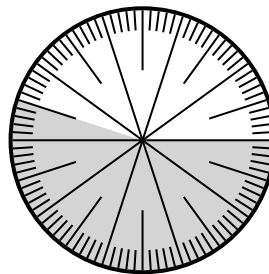
- 4) Выразите часть затененный как долю от целого с 100 в качестве знаменателя.



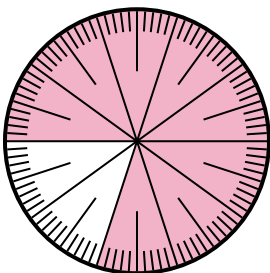
- 5) Выразите часть незатененный как долю от целого с 100 в качестве знаменателя.



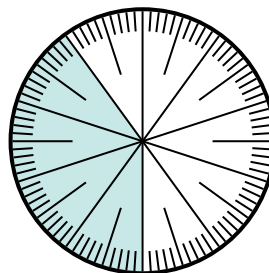
- 6) Выразите часть незатененный как долю от целого с 100 в качестве знаменателя.



- 7) Выразите часть незатененный как долю от целого с 100 в качестве знаменателя.



- 8) Выразите часть незатененный как десятичную дробь от целого.

**Ответы**1.  $\frac{75}{100}$ 2.  $0,2$ 3.  $\frac{5}{100}$ 4.  $\frac{60}{100}$ 5.  $\frac{70}{100}$ 6.  $\frac{45}{100}$ 7.  $\frac{20}{100}$ 8.  $0,6$