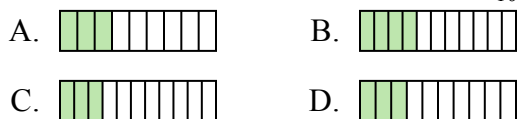




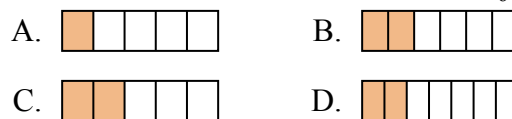
Определите под какой буквой находится правильный ответ.

**ОТВЕТЫ**

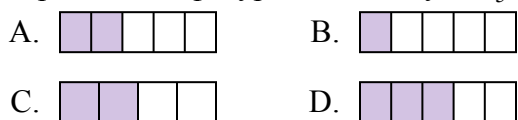
1) Какая из представленных ниже закрашенных фигур соответствует  $\frac{3}{10}$ ?



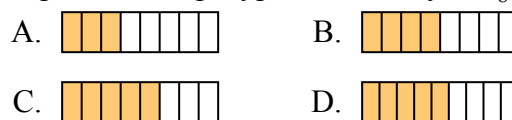
2) Какая из представленных ниже закрашенных фигур соответствует  $\frac{2}{6}$ ?



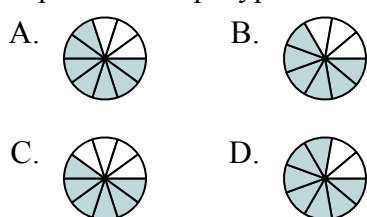
3) Какая из представленных ниже закрашенных фигур соответствует  $\frac{2}{5}$ ?



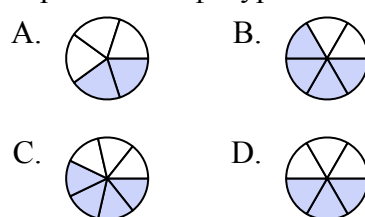
4) Какая из представленных ниже закрашенных фигур соответствует  $\frac{4}{8}$ ?



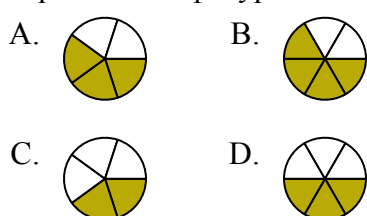
5) Какая из представленных ниже закрашенных фигур соответствует  $\frac{7}{10}$ ?



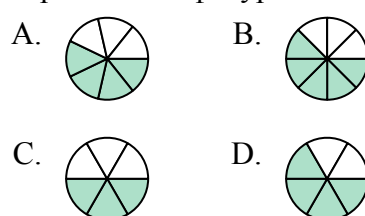
6) Какая из представленных ниже закрашенных фигур соответствует  $\frac{3}{6}$ ?



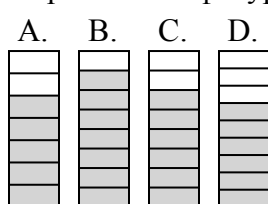
7) Какая из представленных ниже закрашенных фигур соответствует  $\frac{3}{5}$ ?



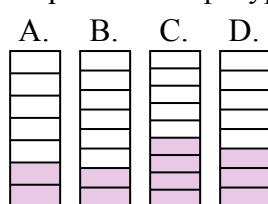
8) Какая из представленных ниже закрашенных фигур соответствует  $\frac{4}{7}$ ?



9) Какая из представленных ниже закрашенных фигур соответствует  $\frac{6}{8}$ ?



10) Какая из представленных ниже закрашенных фигур соответствует  $\frac{3}{8}$ ?



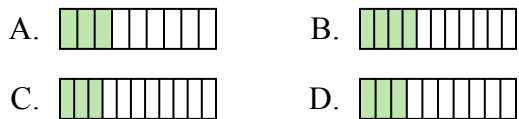
1. \_\_\_\_\_
2. \_\_\_\_\_
3. \_\_\_\_\_
4. \_\_\_\_\_
5. \_\_\_\_\_
6. \_\_\_\_\_
7. \_\_\_\_\_
8. \_\_\_\_\_
9. \_\_\_\_\_
10. \_\_\_\_\_



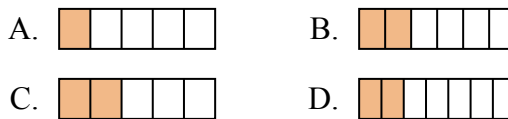
Определите под какой буквой находится правильный ответ.

**ОТВЕТЫ**

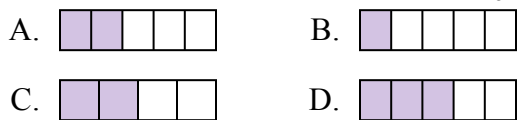
1) Какая из представленных ниже закрашенных фигур соответствует  $\frac{3}{10}$ ?



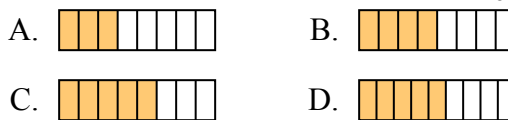
2) Какая из представленных ниже закрашенных фигур соответствует  $\frac{2}{6}$ ?



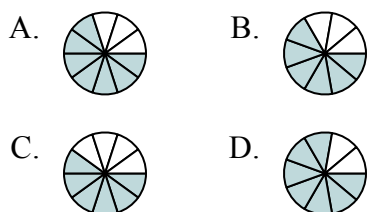
3) Какая из представленных ниже закрашенных фигур соответствует  $\frac{2}{5}$ ?



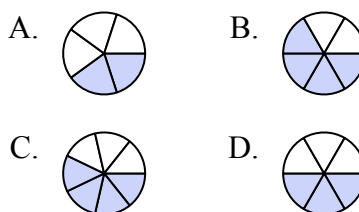
4) Какая из представленных ниже закрашенных фигур соответствует  $\frac{4}{8}$ ?



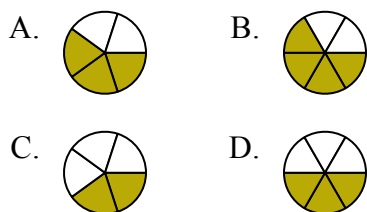
5) Какая из представленных ниже закрашенных фигур соответствует  $\frac{7}{10}$ ?



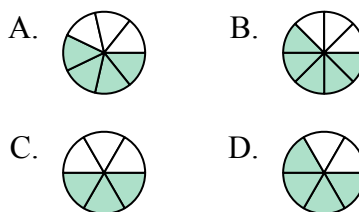
6) Какая из представленных ниже закрашенных фигур соответствует  $\frac{3}{6}$ ?



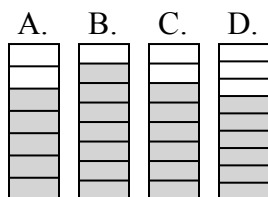
7) Какая из представленных ниже закрашенных фигур соответствует  $\frac{3}{5}$ ?



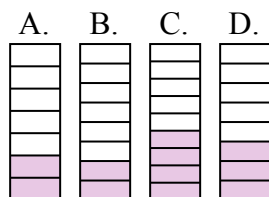
8) Какая из представленных ниже закрашенных фигур соответствует  $\frac{4}{7}$ ?



9) Какая из представленных ниже закрашенных фигур соответствует  $\frac{6}{8}$ ?



10) Какая из представленных ниже закрашенных фигур соответствует  $\frac{3}{8}$ ?



1.   **D**  

2.   **B**  

3.   **A**  

4.   **B**  

5.   **A**  

6.   **D**  

7.   **A**  

8.   **A**  

9.   **C**  

10.   **D**