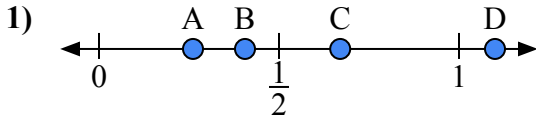
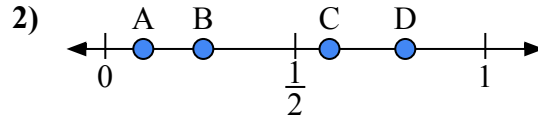




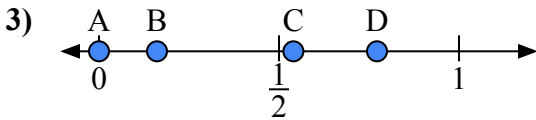
Используйте числовую прямую для ответа на вопрос.

ОТВЕТЫ

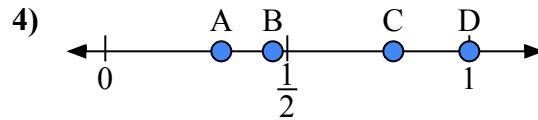
- a) Какая буква наилучшим образом отражает значение 1,10?
b) Какая буква наилучшим образом отражает значение 0,67?



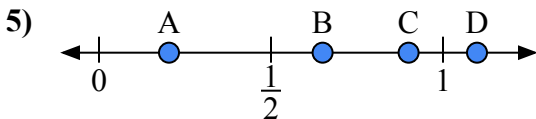
- a) Какая буква наилучшим образом отражает значение 0,1?
b) Какая буква наилучшим образом отражает значение 0,59?



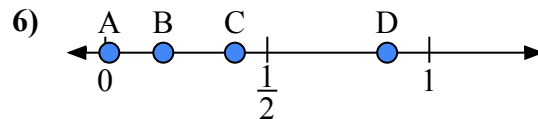
- a) Какая буква наилучшим образом отражает значение 0,0?
b) Какая буква наилучшим образом отражает значение 0,54?



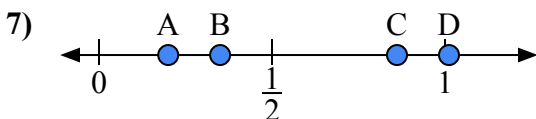
- a) Какая буква наилучшим образом отражает значение 1,00?
b) Какая буква наилучшим образом отражает значение 0,46?



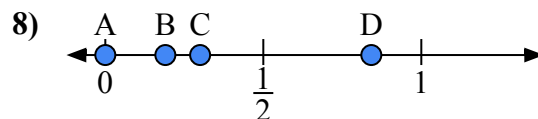
- a) Какая буква наилучшим образом отражает значение 0,90?
b) Какая буква наилучшим образом отражает значение 0,65?



- a) Какая буква наилучшим образом отражает значение 0,4?
b) Какая буква наилучшим образом отражает значение 0,87?



- a) Какая буква наилучшим образом отражает значение 0,20?
b) Какая буква наилучшим образом отражает значение 0,35?

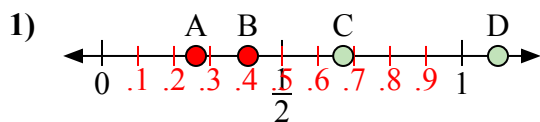


- a) Какая буква наилучшим образом отражает значение 0,3?
b) Какая буква наилучшим образом отражает значение 0,19?

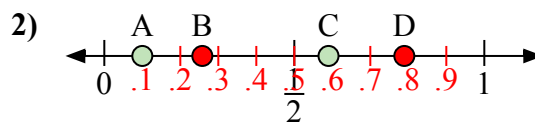
1. _____
2. _____
3. _____
4. _____
5. _____
6. _____
7. _____
8. _____



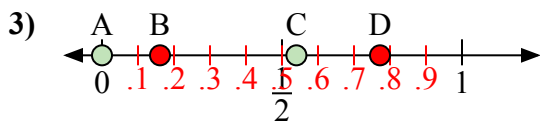
Используйте числовую прямую для ответа на вопрос.

ОТВЕТЫ

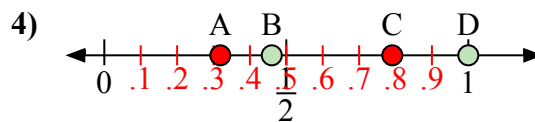
- a) Какая буква наилучшим образом отражает значение 1,10?
b) Какая буква наилучшим образом отражает значение 0,67?



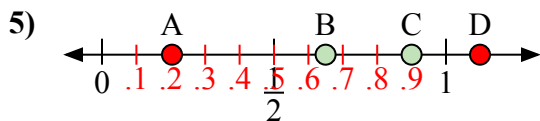
- a) Какая буква наилучшим образом отражает значение 0,1?
b) Какая буква наилучшим образом отражает значение 0,59?



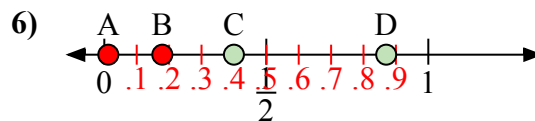
- a) Какая буква наилучшим образом отражает значение 0,0?
b) Какая буква наилучшим образом отражает значение 0,54?



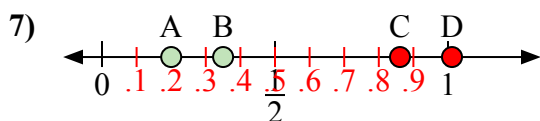
- a) Какая буква наилучшим образом отражает значение 1,00?
b) Какая буква наилучшим образом отражает значение 0,46?



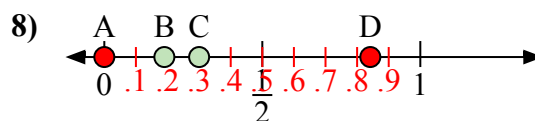
- a) Какая буква наилучшим образом отражает значение 0,90?
b) Какая буква наилучшим образом отражает значение 0,65?



- a) Какая буква наилучшим образом отражает значение 0,4?
b) Какая буква наилучшим образом отражает значение 0,87?



- a) Какая буква наилучшим образом отражает значение 0,20?
b) Какая буква наилучшим образом отражает значение 0,35?



- a) Какая буква наилучшим образом отражает значение 0,3?
b) Какая буква наилучшим образом отражает значение 0,19?

1. D C2. A C3. A C4. D B5. C B6. C D7. A B8. C B