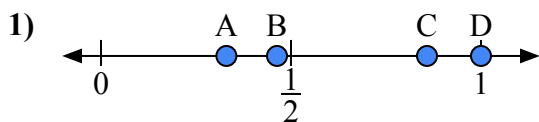
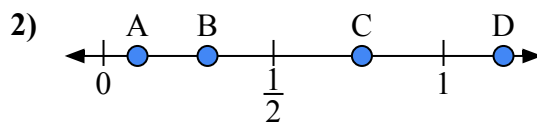




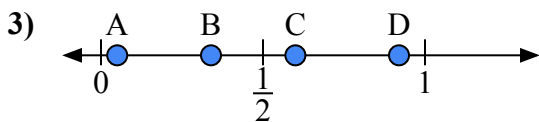
Используйте числовую прямую для ответа на вопрос.

**ОТВЕТЫ**

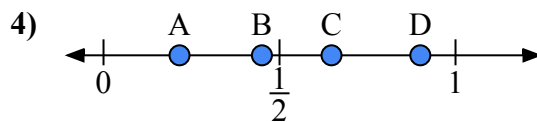
- a) Какая буква наилучшим образом отражает значение 1,0?  
 b) Какая буква наилучшим образом отражает значение 0,33?



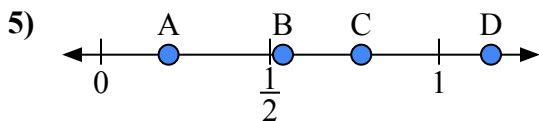
- a) Какая буква наилучшим образом отражает значение 0,10?  
 b) Какая буква наилучшим образом отражает значение 0,76?



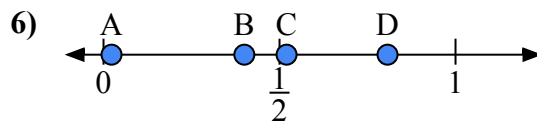
- a) Какая буква наилучшим образом отражает значение 0,60?  
 b) Какая буква наилучшим образом отражает значение 0,05?



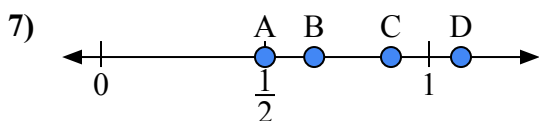
- a) Какая буква наилучшим образом отражает значение 0,90?  
 b) Какая буква наилучшим образом отражает значение 0,45?



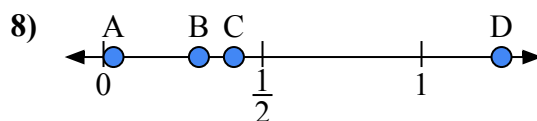
- a) Какая буква наилучшим образом отражает значение 0,2?  
 b) Какая буква наилучшим образом отражает значение 0,77?



- a) Какая буква наилучшим образом отражает значение 0,40?  
 b) Какая буква наилучшим образом отражает значение 0,52?



- a) Какая буква наилучшим образом отражает значение 0,5?  
 b) Какая буква наилучшим образом отражает значение 0,65?

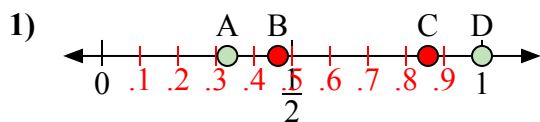


- a) Какая буква наилучшим образом отражает значение 0,30?  
 b) Какая буква наилучшим образом отражает значение 0,41?

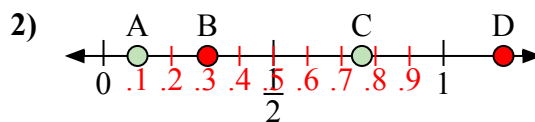
1. \_\_\_\_\_  
 2. \_\_\_\_\_  
 3. \_\_\_\_\_  
 4. \_\_\_\_\_  
 5. \_\_\_\_\_  
 6. \_\_\_\_\_  
 7. \_\_\_\_\_  
 8. \_\_\_\_\_



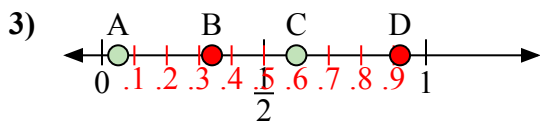
Используйте числовую прямую для ответа на вопрос.



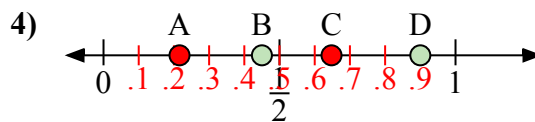
- a) Какая буква наилучшим образом отражает значение 1,0?  
b) Какая буква наилучшим образом отражает значение 0,33?



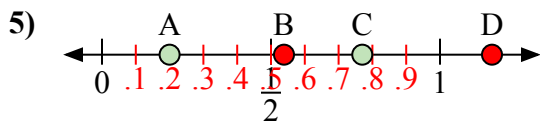
- a) Какая буква наилучшим образом отражает значение 0,10?  
b) Какая буква наилучшим образом отражает значение 0,76?



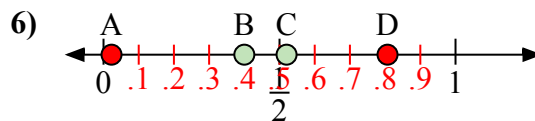
- a) Какая буква наилучшим образом отражает значение 0,60?  
b) Какая буква наилучшим образом отражает значение 0,05?



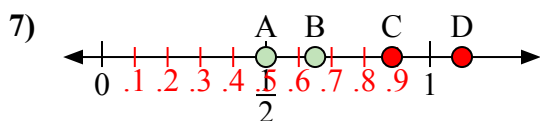
- a) Какая буква наилучшим образом отражает значение 0,90?  
b) Какая буква наилучшим образом отражает значение 0,45?



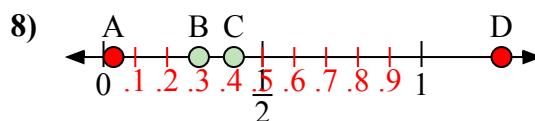
- a) Какая буква наилучшим образом отражает значение 0,2?  
b) Какая буква наилучшим образом отражает значение 0,77?



- a) Какая буква наилучшим образом отражает значение 0,40?  
b) Какая буква наилучшим образом отражает значение 0,52?



- a) Какая буква наилучшим образом отражает значение 0,5?  
b) Какая буква наилучшим образом отражает значение 0,65?



- a) Какая буква наилучшим образом отражает значение 0,30?  
b) Какая буква наилучшим образом отражает значение 0,41?

**ОТВЕТЫ**1. D A2. A C3. C A4. D B5. A C6. B C7. A B8. B C