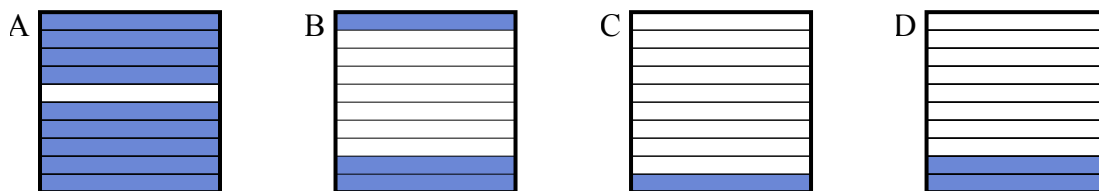




Определите, под какой буквой находится правильный ответ.

Ответы

- 1) Что нужно прибавить в решетке  $10 \times 1$ , которая представляет десятичную дробь, чтобы после прибавления  $0,7$ , ответ получился  $1,00$ ?

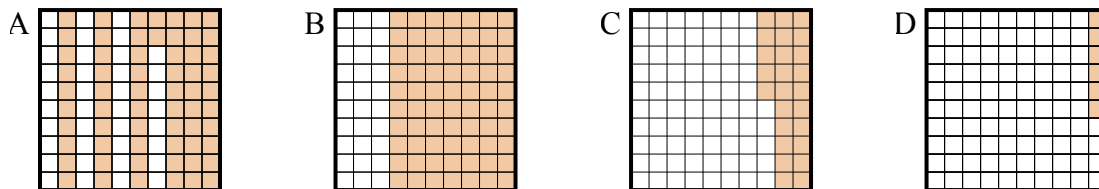


1. \_\_\_\_\_

2. \_\_\_\_\_

3. \_\_\_\_\_

- 2) Что нужно прибавить в решетке  $10 \times 10$ , которая представляет десятичную дробь, чтобы после прибавления  $0,75$ , ответ получился  $1,00$ ?

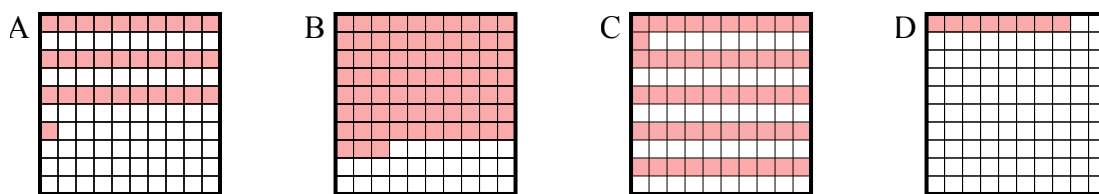


4. \_\_\_\_\_

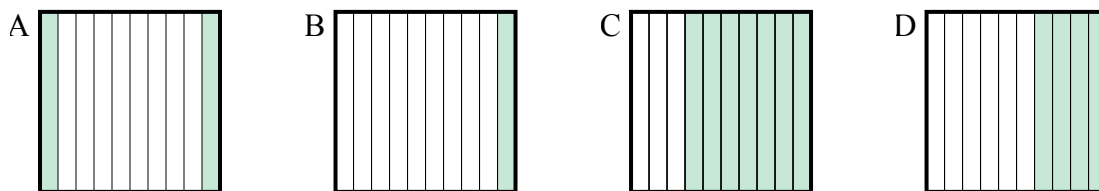
5. \_\_\_\_\_

6. \_\_\_\_\_

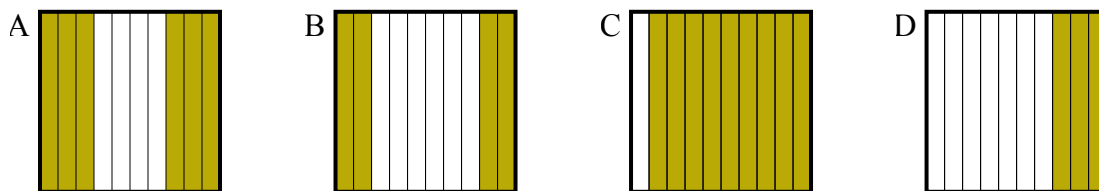
- 3) Что нужно прибавить в решетке  $10 \times 10$ , которая представляет десятичную дробь, чтобы после прибавления  $0,49$ , ответ получился  $1,00$ ?



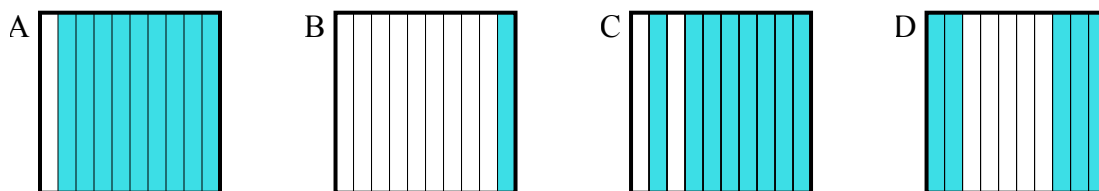
- 4) Что нужно прибавить в решетке  $10 \times 1$ , которая представляет десятичную дробь, чтобы после прибавления  $0,8$ , ответ получился  $1,00$ ?



- 5) Что нужно прибавить в решетке  $10 \times 1$ , которая представляет десятичную дробь, чтобы после прибавления  $0,4$ , ответ получился  $1,00$ ?



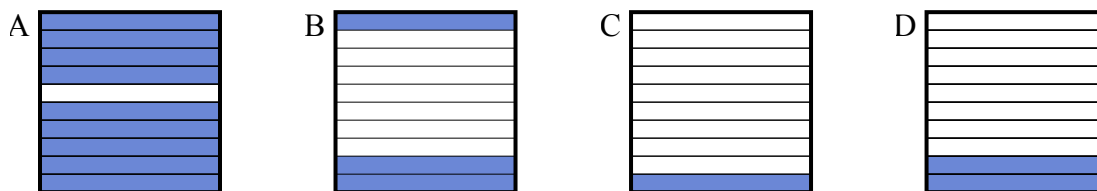
- 6) Что нужно прибавить в решетке  $10 \times 1$ , которая представляет десятичную дробь, чтобы после прибавления  $0,1$ , ответ получился  $1,00$ ?



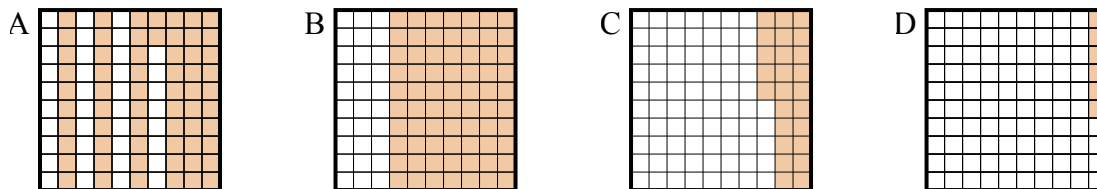


Определите, под какой буквой находится правильный ответ.

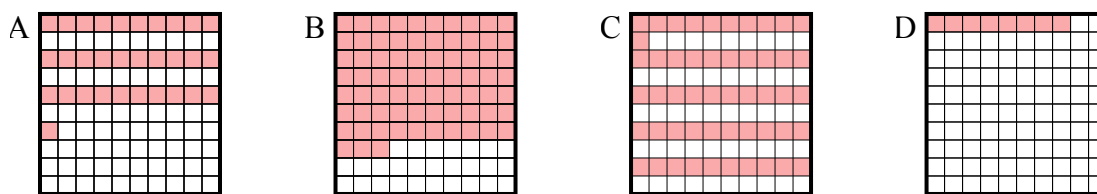
- 1) Что нужно прибавить в решетке  $10 \times 1$ , которая представляет десятичную дробь, чтобы после прибавления  $0,7$ , ответ получился  $1,00$ ?



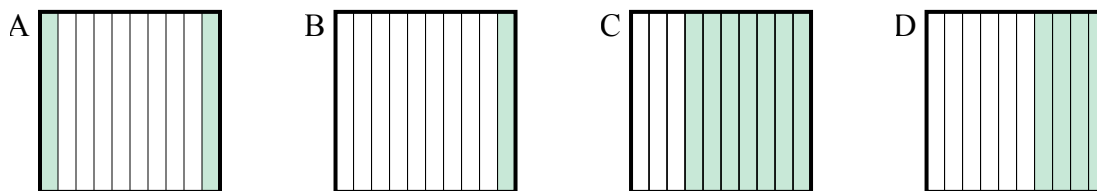
- 2) Что нужно прибавить в решетке  $10 \times 10$ , которая представляет десятичную дробь, чтобы после прибавления  $0,75$ , ответ получился  $1,00$ ?



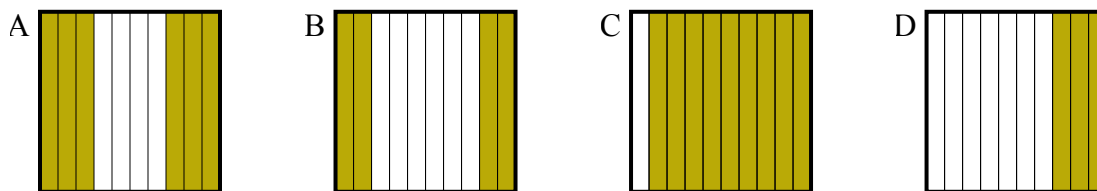
- 3) Что нужно прибавить в решетке  $10 \times 10$ , которая представляет десятичную дробь, чтобы после прибавления  $0,49$ , ответ получился  $1,00$ ?



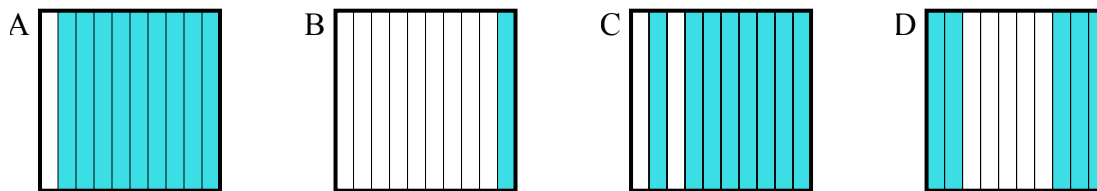
- 4) Что нужно прибавить в решетке  $10 \times 1$ , которая представляет десятичную дробь, чтобы после прибавления  $0,8$ , ответ получился  $1,00$ ?



- 5) Что нужно прибавить в решетке  $10 \times 1$ , которая представляет десятичную дробь, чтобы после прибавления  $0,4$ , ответ получился  $1,00$ ?



- 6) Что нужно прибавить в решетке  $10 \times 1$ , которая представляет десятичную дробь, чтобы после прибавления  $0,1$ , ответ получился  $1,00$ ?

Ответы1. В2. С3. С4. А5. А6. А