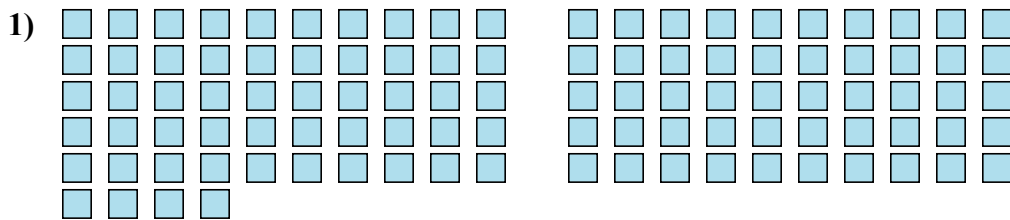




Подсчитайте количество данных фигур

ОТВЕТЫ



1. _____

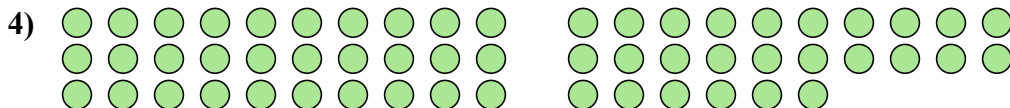
2. _____

3. _____



4. _____

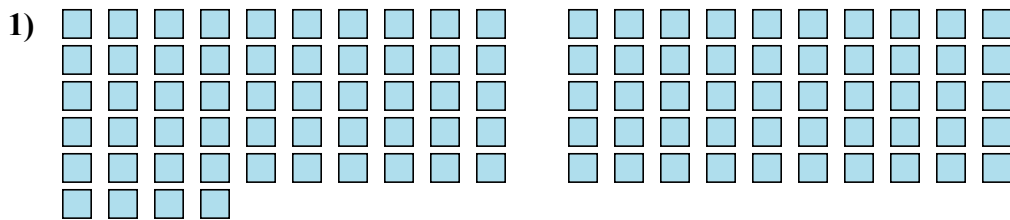
5. _____





Подсчитайте количество данных фигур

Ответы



1. 104



2. 69

3. 17

4. 56

5. 25

