



Определите под какой буквой объем представлен наиболее верно.

ОТВЕТЫ

Xícara

Una taza se refiere a la cantidad de leche que se obtiene de la cafetería.



Pinta

Uma pinta é aproximadamente a quantidade que você recebe em um copo grande.
1 pinta = 2 xícaras



Quarto

Um quarto é mais ou menos a quantidade que você consegue em um recipiente grande de leite.
1 cuarto = 2 pintas



Galón

Un galón es la cantidad que viene en un recipiente de plástico grande.
1 galón = 4 cuartos



1. _____
2. _____
3. _____
4. _____
5. _____
6. _____
7. _____
8. _____
9. _____

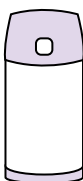
1)



Измерительная чашка

- A. 1 чаши
- B. 1 пинты
- C. 1 кварты
- D. 1 галлоны


2)



Жидкость в термосе

- A. 4 кварты
- B. 2 фунтов(та)
- C. 1 чаши
- D. 1 галлоны

3)



Ледяной сундук

- A. 2 кварты
- B. 16 чаши
- C. 5 галлоны
- D. 100 кварты


4)



Жидкость в чайной чашке

- A. 1 пинты
- B. 1 чаши
- C. 1 кварты
- D. 1 галлоны

5)



Бензобак в машине

- A. 4 пинты
- B. 15 галлоны
- C. 3 кварты
- D. 16 чаши

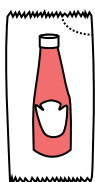
6)



Мука на сковороде с пирожными

- A. 8 галлоны
- B. 3 галлоны
- C. 2 чаши
- D. 16 кварты

7)



Кетчуп в пачке

- A. 2 кварты
- B. 1.5 пинты
- C. меньше, чем 1 чаши
- D. 0.5 галлоны

8)



Шампунь во флаконе

- A. 0.5 галлоны
- B. 100 чаши
- C. 2 пинты
- D. 1 чаши

9)



Жидкость в ложке

- A. Less than a cup
- B. 1 пинты
- C. 1 кварты
- D. 1 чаши



Определите под какой буквой объем представлен наиболее верно.

ОТВЕТЫ

Xícara

Una taza se refiere a la cantidad de leche que se obtiene de la cafetería.



Pinta

Uma pinta é aproximadamente a quantidade que você recebe em um copo grande.
1 pinta = 2 xícaras



Quarto

Um quarto é mais ou menos a quantidade que você consegue em um recipiente grande de leite.
1 cuarto = 2 pintas



Galón

Un galón es la cantidad que viene en un recipiente de plástico grande.
1 galón = 4 cuartos



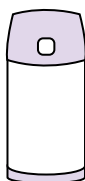
1)



Измерительная чашка

- A. 1 чаши
- B. 1 пинты
- C. 1 кварты
- D. 1 галлоны


2)



Жидкость в термосе

- A. 4 кварты
- B. 2 фунтов(та)
- C. 1 чаши
- D. 1 галлоны

3)



Ледяной сундук

- A. 2 кварты
- B. 16 чаши
- C. 5 галлоны
- D. 100 кварты


4)



Жидкость в чайной чашке

- A. 1 пинты
- B. 1 чаши
- C. 1 кварты
- D. 1 галлоны

5)



Бензобак в машине

- A. 4 пинты
- B. 15 галлоны
- C. 3 кварты
- D. 16 чаши

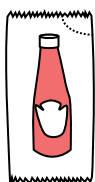
6)



Мука на сковороде с пирожными

- A. 8 галлоны
- B. 3 галлоны
- C. 2 чаши
- D. 16 кварты

7)



Кетчуп в пачке

- A. 2 кварты
- B. 1.5 пинты
- C. меньше, чем 1 чаши
- D. 0.5 галлоны

8)



Шампунь во флаконе

- A. 0.5 галлоны
- B. 100 чаши
- C. 2 пинты
- D. 1 чаши

9)



Жидкость в ложке

- A. Less than a cup
- B. 1 пинты
- C. 1 кварты
- D. 1 чаши

- 1. A
- 2. C
- 3. D
- 4. B
- 5. B
- 6. C
- 7. C
- 8. C
- 9. A