



Определите под какой буквой объем представлен наиболее верно.

ОТВЕТЫ

Xícara

Una taza se refiere a la cantidad de leche que se obtiene de la cafetería.



Pinta

Uma pinta é aproximadamente a quantidade que você recebe em um copo grande.
1 pinta = 2 xícaras



Quarto

Um quarto é mais ou menos a quantidade que você consegue em um recipiente grande de leite.
1 cuarto = 2 pintas




Galón


Un galón es la cantidad que viene en un recipiente de plástico grande.
1 galón = 4 cuartos



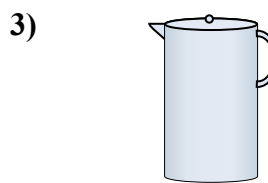
1. _____
2. _____
3. _____
4. _____
5. _____
6. _____
7. _____
8. _____
9. _____



Ванна
A. 40 чаши
B. 8 кварталы
C. 20 пинты
D. 45 галлоны



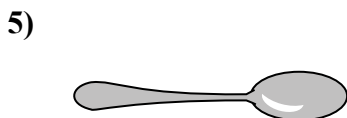
Пипетка держит
A. 1 пинты
B. 3 галлоны
C. меньше, чем 1 чаши
D. 1 чаши



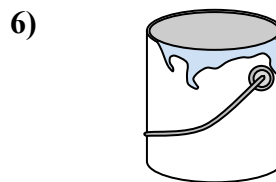
Жидкость в кувшине
A. 2 чаши
B. 1 пинты
C. 2 кварталы
D. 8 галлоны



Чаша для хлопьев
A. 0.5 галлоны
B. 4 пинты
C. 2 галлоны
D. 1 пинты



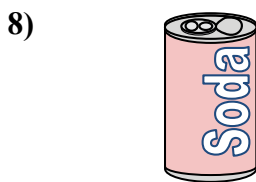
Жидкость в ложке
A. Less than a cup
B. 1 чаши
C. 1 пинты
D. 1 кварталы



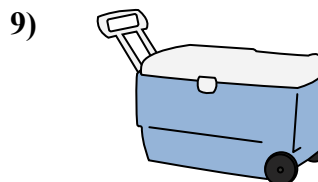
Краска в банке
A. 3 жидкие унции
B. 1 галлоны
C. 1 чаши
D. 0.5 пинты



2 литра газировки
A. 0.5 галлоны
B. 5 галлоны
C. 1 пинты
D. 2 чаши



газировка в банке
A. 4 чаши
B. 1.5 чаши
C. 4 пинты
D. 1 галлоны



Ледяной сундук
A. 100 кварталы
B. 16 чаши
C. 5 галлоны
D. 2 кварталы



Определите под какой буквой объем представлен наиболее верно.

ОТВЕТЫ

Xicara

Una taza se refiere a la cantidad de leche que se obtiene de la cafetería.



Pinta

Uma pinta é aproximadamente a quantidade que você recebe em um copo grande.
1 pinta = 2 xícaras



Quarto

Um quarto é mais ou menos a quantidade que você consegue em um recipiente grande de leite.
1 cuarto = 2 pintas



Galón

Un galón es la cantidad que viene en un recipiente de plástico grande.
1 galón = 4 cuartos



1. D

2. C

3. C

4. D

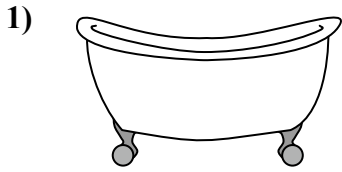
5. A

6. B

7. A


8. B

9. A



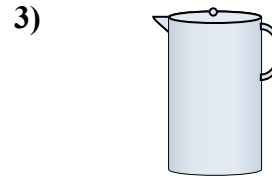
Ванна

- A. 40 чаши
- B. 8 кварталы
- C. 20 пинты
- D. 45 галлоны




Пипетка держит

- A. 1 пинты
- B. 3 галлоны
- C. меньше, чем 1 чаши
- D. 1 чаши



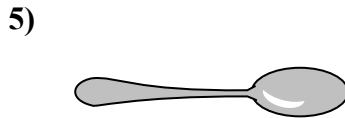
Жидкость в кувшине

- A. 2 чаши
- B. 1 пинты
- C. 2 кварталы
- D. 8 галлоны



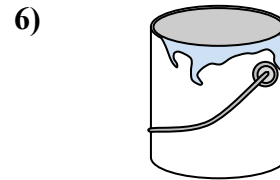
Чаша для хлопьев

- A. 0.5 галлоны
- B. 4 пинты
- C. 2 галлоны
- D. 1 пинты



Жидкость в ложке

- A. Less than a cup
- B. 1 чаши
- C. 1 пинты
- D. 1 кварталы



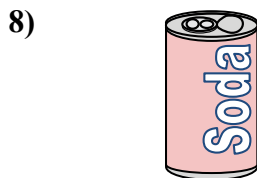
Краска в банке

- A. 3 жидкие унции
- B. 1 галлоны
- C. 1 чаши
- D. 0.5 пинты



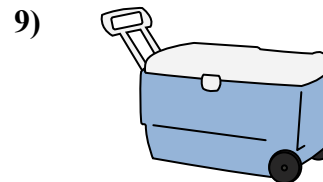
2 литра газировки

- A. 0.5 галлоны
- B. 5 галлоны
- C. 1 пинты
- D. 2 чаши



газировка в банке

- A. 4 чаши
- B. 1.5 чаши
- C. 4 пинты
- D. 1 галлоны



Ледяной сундук

- A. 100 кварталы
- B. 16 чаши
- C. 5 галлоны
- D. 2 кварталы