



Определите число, которое нужно вставить в данную фигуру.

об)

10	
4	6

1)

3	
2	1

2)

8	
6	2

3)

6	
3	3

4)

10	
6	4

5)

10	
8	2

6)

9	
3	6

7)

8	
4	4

8)

7	
3	4

9)

4	
3	1

10)

9	
7	2

11)

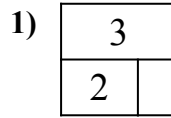
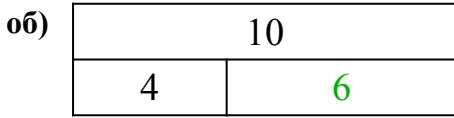
9	
1	8

Ответыоб. 61. 12. 63. 64. 65. 106. 67. 88. 39. 310. 711. 9

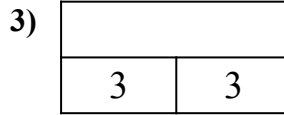


Определите число, которое нужно вставить в данную фигуру.

Отвeты

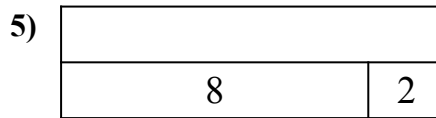
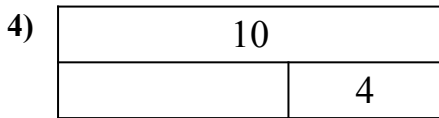


об. 6



1. _____

2. _____


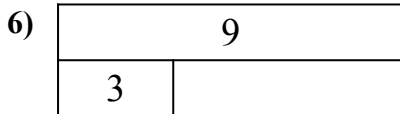


3. _____

4. _____

5. _____

6. _____



7. _____

8. _____

9. _____

10. _____

11. _____

