



Решите каждую проблему с помощью ленточной диаграммы.

Ответы

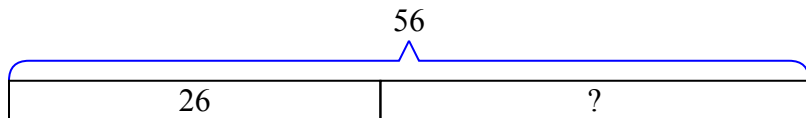
- 1) У ? было 56 вишни. Он съел из них НУМА. Сколько вишен осталось у ??
- 2) У официанта 74 клиентов. Если 26 уйдет, сколько клиентов останется у официанта?
- 3) Волосы ? были длиной 39 сантиметров. Если она отрезала 22 сантиметра, какой длины теперь у нее волосы?
- 4) В зоопарке в клетке было несколько змей. Если 29 пряталась, сколько змей не прятались?
- 5) У клоуна были воздушные шары 91. Он отдал 41 на вечеринке. Сколько воздушных шаров он оставил бы?
- 6) В зоомагазине было несколько песчанок. Если бы они продали 35 из них, сколько бы у них осталось?
- 7) У ? в папке было ЧИСЛО листов бумаги. Она использовала кусочки 43. Сколько у нее сейчас штук?

1. \_\_\_\_\_
2. \_\_\_\_\_
3. \_\_\_\_\_
4. \_\_\_\_\_
5. \_\_\_\_\_
6. \_\_\_\_\_
7. \_\_\_\_\_

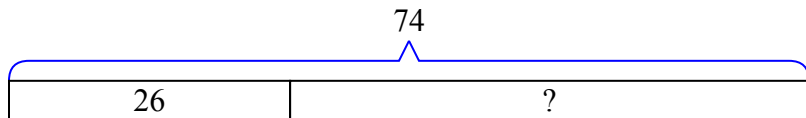


Решите каждую проблему с помощью ленточной диаграммы.

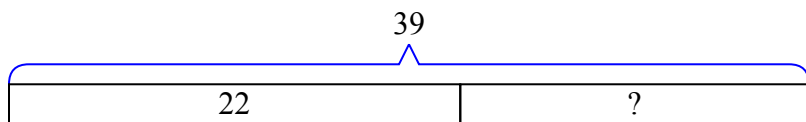
- 1) У ? было 56 вишни. Он съел из них НУМА. Сколько вишен осталось у ??



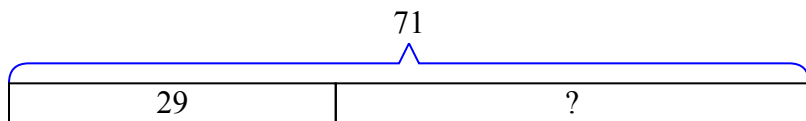
- 2) У официанта 74 клиентов. Если 26 уйдет, сколько клиентов останется у официанта?



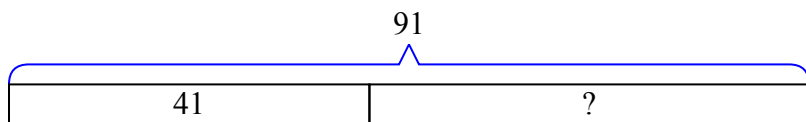
- 3) Волосы ? были длиной 39 сантиметров. Если она отрезала 22 сантиметра, какой длины теперь у нее волосы?



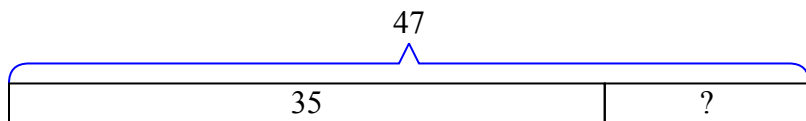
- 4) В зоопарке в клетке было несколько змей. Если 29 пряталась, сколько змей не пряталась?



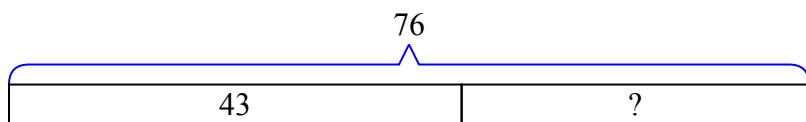
- 5) У клоуна были воздушные шары 91. Он отдал 41 на вечеринке. Сколько воздушных шаров он оставил бы?



- 6) В зоомагазине было несколько песчанок. Если бы они продали 35 из них, сколько бы у них осталось?



- 7) У ? в папке было ЧИСЛО листов бумаги. Она использовала кусочки 43. Сколько у нее сейчас штук?

**Ответы**1. 302. 483. 174. 425. 506. 127. 33