



Решите каждую проблему с помощью ленточной диаграммы.

Ответы

об) У кабельной компании было 756 абонентов. Отношение постоянных подписчиков к подписчикам премиум-класса составило 8:4. Сколько у них было постоянных подписчиков?

об. 504

1) В кафе ? Ice Cream Hut были шоколадные или ванильные коктейли. 4 июля было продано всего 1 386 коктейлей с соотношением шоколада и ванили 5:9. Сколько шоколадных коктейлей они продали?

1. _____

2. _____

3. _____

4. _____

5. _____

2) В магазине было 880 газированных напитков, как диетических, так и обычных. Отношение диетических газированных напитков к обычным газированным напиткам составляло 9:2. Сколько было диетических газированных напитков?

3) ? смотрел статистику своей потоковой музыки. Соотношение песен, которые ему не нравятся, было 4:2. Если он послушал всего 228 песен, сколько ему понравилось?

4) Во время местных выборов соотношение проголосовавших подростков и взрослых составляло 5:8. Если проголосовало 741 человек, сколько из них были подростками?

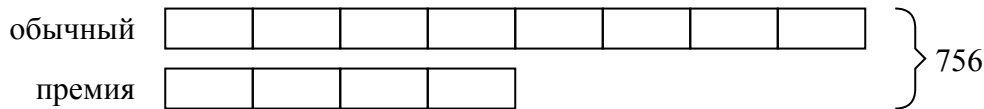
5) На ярмарке соотношение самцов и самок было 7:8. Если на ярмарке присутствует 930 человек, сколько мужчин?



Решите каждую проблему с помощью ленточной диаграммы.

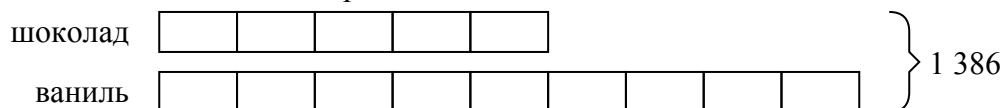
Ответы

об) У кабельной компании было 756 абонентов. Отношение постоянных подписчиков к подписчикам премиум-класса составило 8:4. Сколько у них было постоянных подписчиков?



об. 504

1) В кафе ? Ice Cream Hut были шоколадные или ванильные коктейли. 4 июля было продано всего 1 386 коктейлей с соотношением шоколада и ванили 5:9. Сколько шоколадных коктейлей они продали?



1. 495

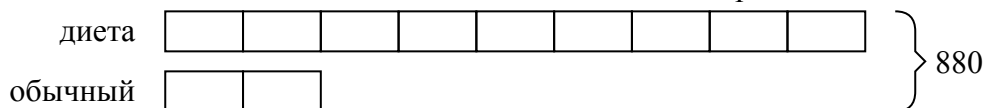
2. 720

3. 152

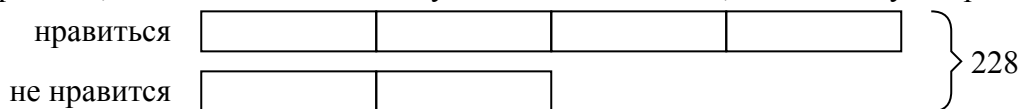
4. 285

5. 434

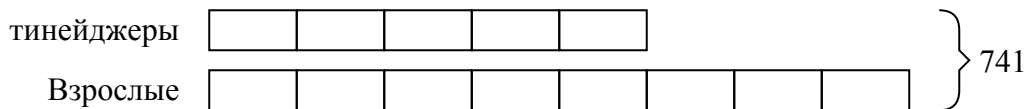
2) В магазине было 880 газированных напитков, как диетических, так и обычных. Отношение диетических газированных напитков к обычным газированным напиткам составляло 9:2. Сколько было диетических газированных напитков?



3) ? смотрел статистику своей потоковой музыки. Соотношение песен, которые ему не нравятся, было 4:2. Если он послушал всего 228 песен, сколько ему понравилось?



4) Во время местных выборов соотношение проголосовавших подростков и взрослых составляло 5:8. Если проголосовало 741 человек, сколько из них были подростками?



5) На ярмарке соотношение самцов и самок было 7:8. Если на ярмарке присутствует 930 человек, сколько мужчин?

