

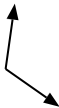


Определите отношение угла, больше, меньше или равно 90.

об)



1)



2)



3)



4)



5)



6)



7)



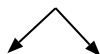
8)



9)



10)



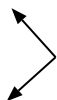
11)



12)



13)



14)



15)



16)



17)



18)



19)



20)



ОТВЕТЫ

об. **меньше**

1. _____

2. _____

3. _____

4. _____

5. _____

6. _____

7. _____

8. _____

9. _____

10. _____

11. _____

12. _____

13. _____

14. _____

15. _____

16. _____

17. _____

18. _____

19. _____

20. _____

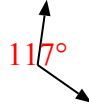


Определите отношение угла, больше, меньше или равно 90.

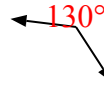
об)



1)



2)



3)



4)



5)



6)



7)



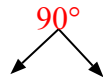
8)



9)



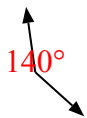
10)



11)



12)



13)



14)



15)



16)



17)



18)



19)



20)



ОТВЕТЫ

об. меньше

1. больше

2. больше

3. равно

4. меньше

5. больше

6. меньше

7. меньше

8. больше

9. меньше

10. равно

11. равно

12. больше

13. равно

14. меньше

15. меньше

16. равно

17. равно

18. больше

19. равно

20. равно