

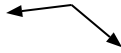


Определите отношение угла, больше, меньше или равно 90.

об)



1)



2)



об. **равно**

3)



4)



5)



6)



7)



8)



9)



10)



11)



12)



13)



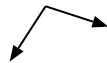
14)



15)



16)



17)



18)



19)



20)



Answers section with 20 numbered lines for writing responses.

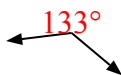


Определите отношение угла, больше, меньше или равно 90.

об)



1)



2)



об. равно

3)



4)



5)



1. больше

2. равно

3. меньше

4. равно

6)



7)



8)



5. меньше

6. меньше

7. больше

9)



10)



11)



8. меньше

9. меньше

10. меньше

12)



13)



14)



11. равно

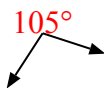
12. больше

13. равно

15)



16)



17)



14. больше

15. равно

16. больше

18)



19)



20)



17. равно

18. меньше

19. равно

20. меньше