



Используйте весы, показывающие ответ на вопрос.


Ответы

1)




Если данный блок на 2 фунтов(та) легче, то какой вес получится?

2)



Если у Вас имеется 2 блоков одинакового веса, сколько общий вес в унций(ии) данных блоков?

3)



Каков вес блоков в единицах (в фунтов(та))?

1. _____

2. _____


3. _____

4. _____

5. _____


6. _____

4)




Если данный блок на 8 унций(ии) легче, то какой вес получится?

5)



Если данный блок на 2 фунтов(та) тяжелее, то каков вес получится?

6)




Если данный блок на 7 унций(ии) тяжелее, то каков вес получится?

7. _____

8. _____


9. _____

7)




Каков вес блоков в единицах (в фунтов(та))?

8)



Если у Вас имеется 7 блоков одинакового веса, сколько общий вес в унций(ии) данных блоков?

9)

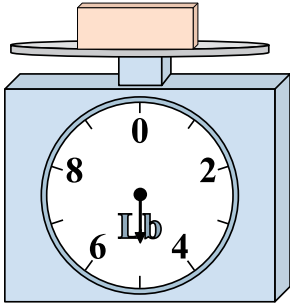


Если у Вас имеется 2 блоков одинакового веса, сколько общий вес в фунтов(та) данных блоков?




Используйте весы, показывающие ответ на вопрос.

1)




Если данный блок на 2 фунтов(та) легче, то какой вес получится?

2)




Если у Вас имеется 2 блоков одинакового веса, сколько общий вес в унций(ии) данных блоков?

3)




Каков вес блоков в единицах (в фунтов(та))?

4)




Если данный блок на 8 унций(ии) легче, то какой вес получится?

5)




Если данный блок на 2 фунтов(та) тяжелее, то каков вес получится?

6)




Если данный блок на 7 унций(ии) тяжелее, то каков вес получится?

7)




Каков вес блоков в единицах (в фунтов(та))?

8)



Если у Вас имеется 7 блоков одинакового веса, сколько общий вес в унций(ии) данных блоков?

9)



Если у Вас имеется 2 блоков одинакового веса, сколько общий вес в фунтов(та) данных блоков?

Ответы

1. 3

2. 16

3. 6

4. 3

5. 4

6. 22

7. 6

8. 70

9. 2