




Используйте весы, показывающие ответ на вопрос.


Ответы

1)




Каков вес блоков в единицах (в фунтов(та))?

2)



Каков вес блоков в единицах (в унций(ии))?

3)



Если данный блок на 3 фунтов(та) легче, то какой вес получится?

1. _____

2. _____

3. _____

4. _____

5. _____


6. _____

7. _____

8. _____

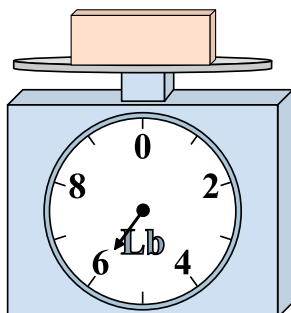
9. _____

4)




Если данный блок на 7 унций(ии) тяжелее, то каков вес получится?

5)



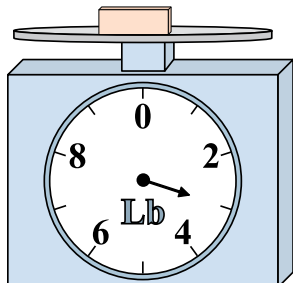
Если данный блок на 4 фунтов(та) тяжелее, то каков вес получится?

6)




Если у Вас имеется 9 блоков одинакового веса, сколько общий вес в унций(ии) данных блоков?

7)



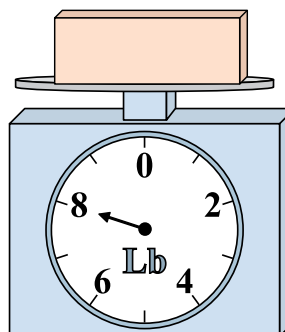
Если у Вас имеется 10 блоков одинакового веса, сколько общий вес в фунтов(та) данных блоков?

8)



Если данный блок на 5 унций(ии) легче, то какой вес получится?

9)




Если данный блок на 6 фунтов(та) легче, то какой вес получится?




Используйте весы, показывающие ответ на вопрос.

1)




Каков вес блоков в единицах (в фунтов(та))?

2)




Каков вес блоков в единицах (в унций(ии))?

3)



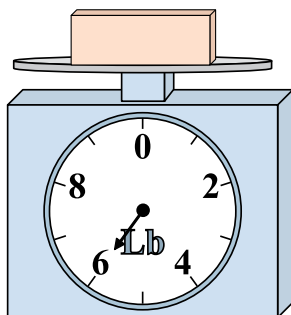
Если данный блок на 3 фунтов(та) легче, то какой вес получится?

4)




Если данный блок на 7 унций(ии) тяжелее, то каков вес получится?

5)



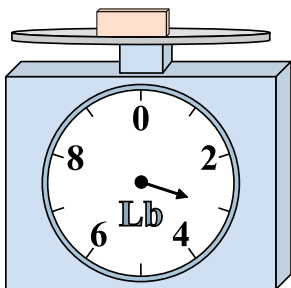
Если данный блок на 4 фунтов(та) тяжелее, то каков вес получится?

6)




Если у Вас имеется 9 блоков одинакового веса, сколько общий вес в унций(ии) данных блоков?

7)




Если у Вас имеется 10 блоков одинакового веса, сколько общий вес в фунтов(та) данных блоков?

8)



Если данный блок на 5 унций(ии) легче, то какой вес получится?

9)



Если данный блок на 6 фунтов(та) легче, то какой вес получится?

ОТВЕТЫ

- 1. 6
- 2. 8
- 3. 1
- 4. 21
- 5. 10
- 6. 108
- 7. 30
- 8. 9
- 9. 2