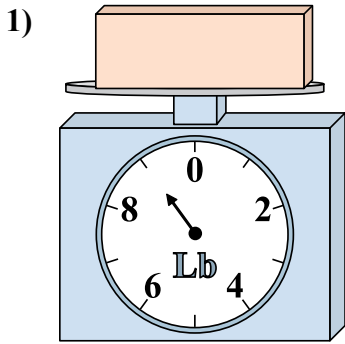


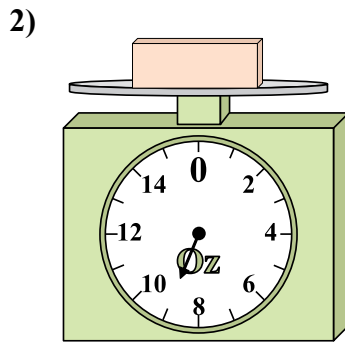


Используйте весы, показывающие ответ на вопрос.

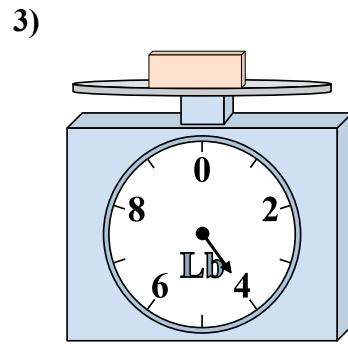
Ответы



Если данный блок на 4 фунтов(та) легче, то какой вес получится?

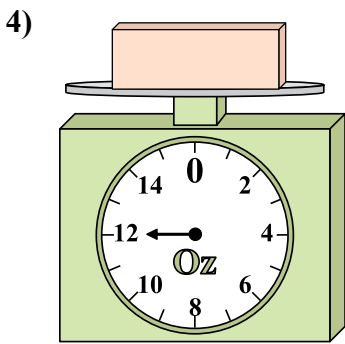


Каков вес блоков в единицах (в унций(ии))?

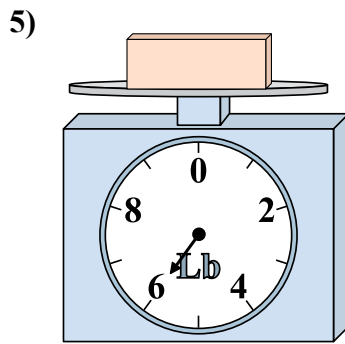


Каков вес блоков в единицах (в фунтов(та))?

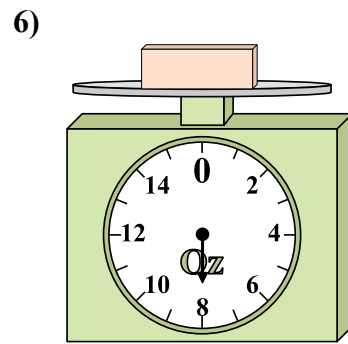
1. _____
2. _____
3. _____
4. _____
5. _____
6. _____
7. _____
8. _____
9. _____



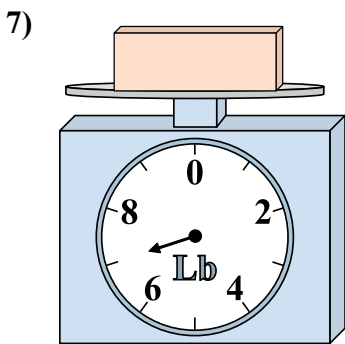
Если у Вас имеется 2 блоков одинакового веса, сколько общий вес в унций(ии) данных блоков?



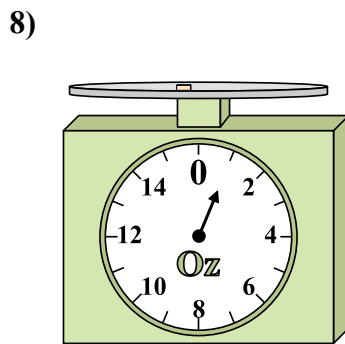
Если данный блок на 2 фунтов(та) легче, то какой вес получится?



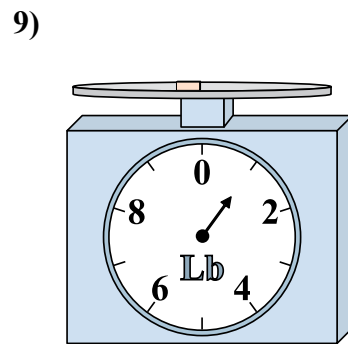
Если у Вас имеется 5 блоков одинакового веса, сколько общий вес в унций(ии) данных блоков?



Если данный блок на 2 фунтов(та) тяжелее, то каков вес получится?



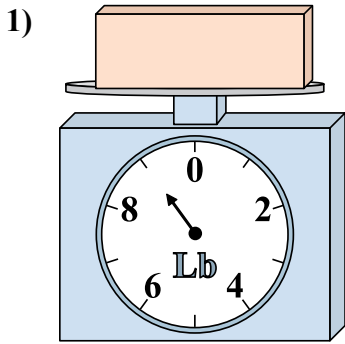
Если у Вас имеется 6 блоков одинакового веса, сколько общий вес в унций(ии) данных блоков?



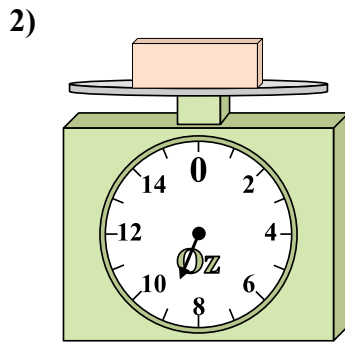
Если данный блок на 4 фунтов(та) тяжелее, то каков вес получится?



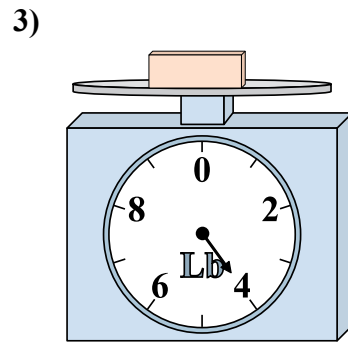
Используйте весы, показывающие ответ на вопрос.



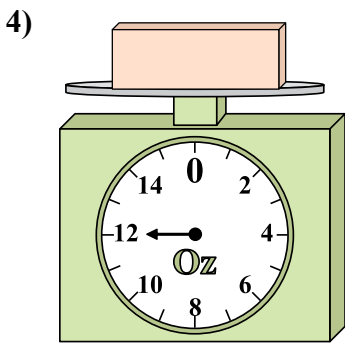
1) Если данный блок на 4 фунтов(та) легче, то какой вес получится?



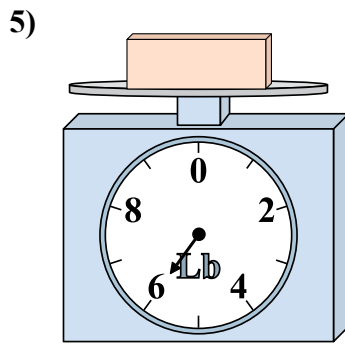
2) Каков вес блоков в единицах (в унций(ии))?



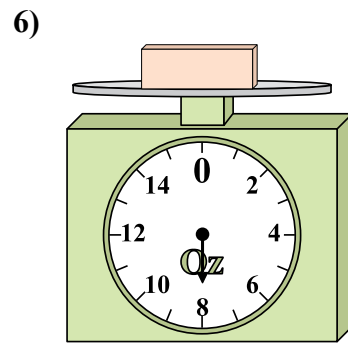
3) Каков вес блоков в единицах (в фунтов(та))?



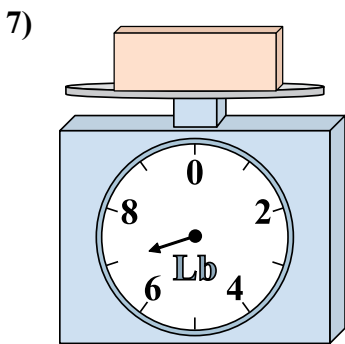
4) Если у Вас имеется 2 блоков одинакового веса, сколько общий вес в унций(ии) данных блоков?



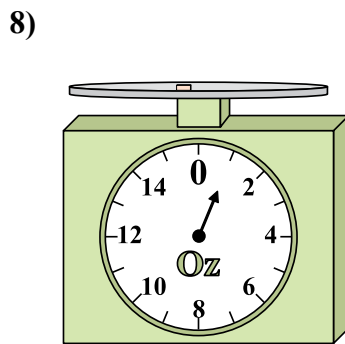
5) Если данный блок на 2 фунтов(та) легче, то какой вес получится?



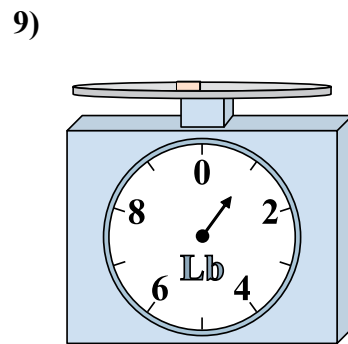
6) Если у Вас имеется 5 блоков одинакового веса, сколько общий вес в унций(ии) данных блоков?



7) Если данный блок на 2 фунтов(та) тяжелее, то каков вес получится?



8) Если у Вас имеется 6 блоков одинакового веса, сколько общий вес в унций(ии) данных блоков?



9) Если данный блок на 4 фунтов(та) тяжелее, то каков вес получится?

ОТВЕТЫ

1. 5

2. 9

3. 4

4. 24

5. 4

6. 40

7. 9

8. 6

9. 5