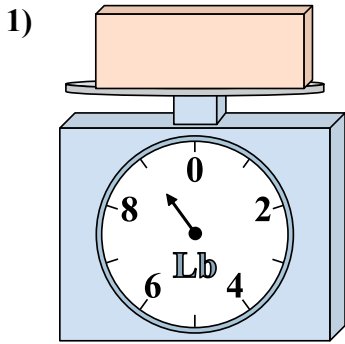


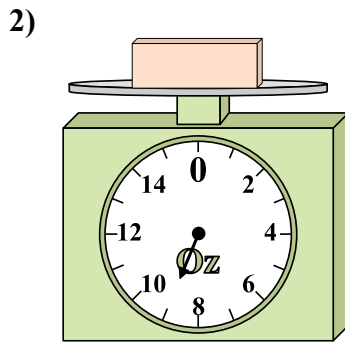


Используйте весы, показывающие ответ на вопрос.

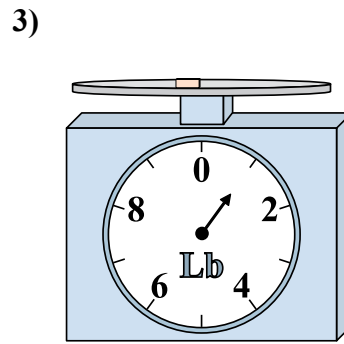
Ответы



Если у Вас имеется 5 блоков одинакового веса, сколько общий вес в фунтов(та) данных блоков?

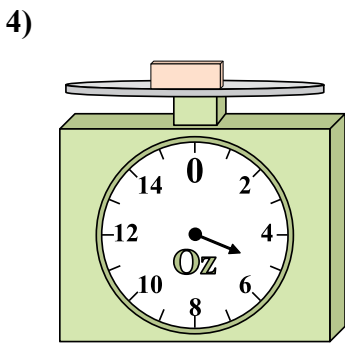


Каков вес блоков в единицах (в унций(ии))?

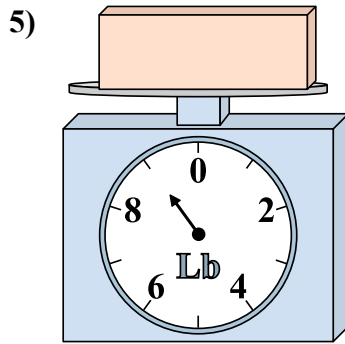


Если данный блок на 8 фунтов(та) тяжелее, то каков вес получится?

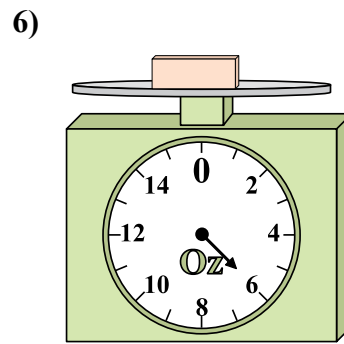
1. _____
2. _____
3. _____
4. _____
5. _____
6. _____
7. _____
8. _____
9. _____



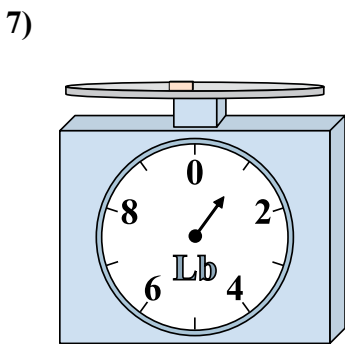
Если данный блок на 9 унций(ии) тяжелее, то каков вес получится?



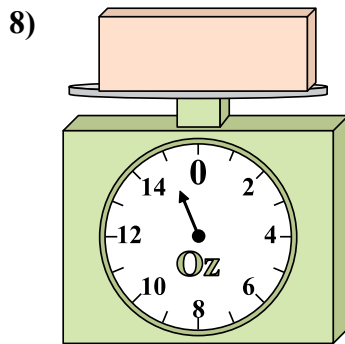
Если данный блок на 6 фунтов(та) легче, то какой вес получится?



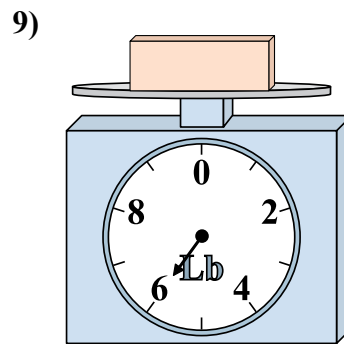
Каков вес блоков в единицах (в унций(ии))?



Каков вес блоков в единицах (в фунтов(та))?



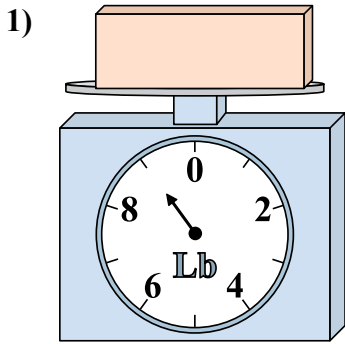
Если данный блок на 13 унций(ии) легче, то какой вес получится?



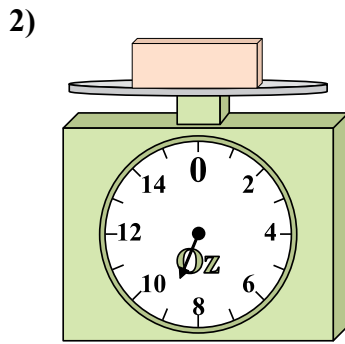
Если у Вас имеется 3 блоков одинакового веса, сколько общий вес в фунтов(та) данных блоков?



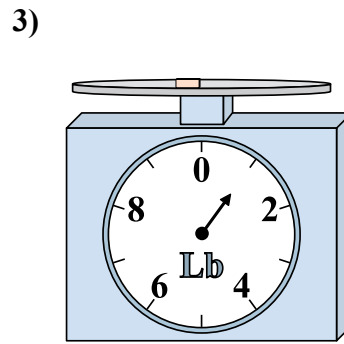
Используйте весы, показывающие ответ на вопрос.



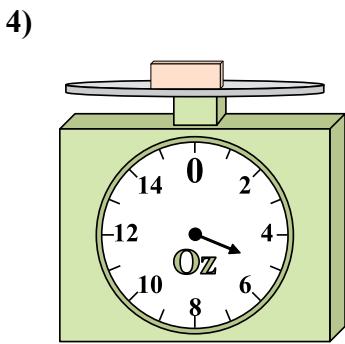
1) Если у Вас имеется 5 блоков одинакового веса, сколько общий вес в фунтов(та) данных блоков?



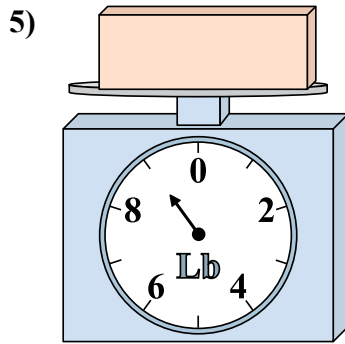
2) Каков вес блоков в единицах (в унций(ии))?



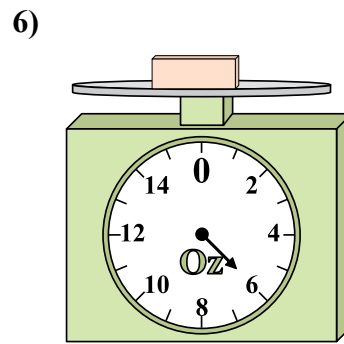
3) Если данный блок на 8 фунтов(та) тяжелее, то каков вес получится?



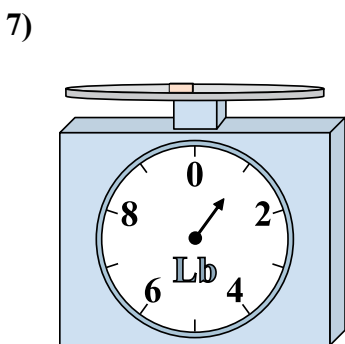
4) Если данный блок на 9 унций(ии) тяжелее, то каков вес получится?



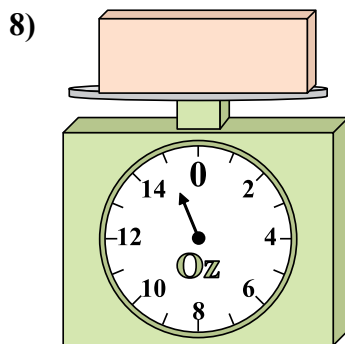
5) Если данный блок на 6 фунтов(та) легче, то какой вес получится?




6) Каков вес блоков в единицах (в унций(ии))?



7) Каков вес блоков в единицах (в фунтов(та))?



8) Если данный блок на 13 унций(ии) легче, то какой вес получится?



9) Если у Вас имеется 3 блоков одинакового веса, сколько общий вес в фунтов(та) данных блоков?

ОТВЕТЫ

- 1. 45
- 2. 9
- 3. 9
- 4. 14
- 5. 3
- 6. 6
- 7. 1
- 8. 2
- 9. 18