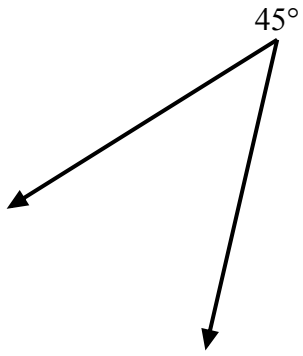


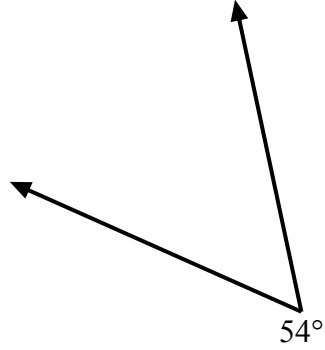


Используйте транспортир для создания треугольника из данной фигуры.  
Отсутствующие углы будут являться ответами. Ответы будут отличаться.

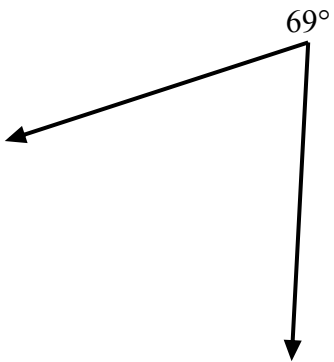
1)



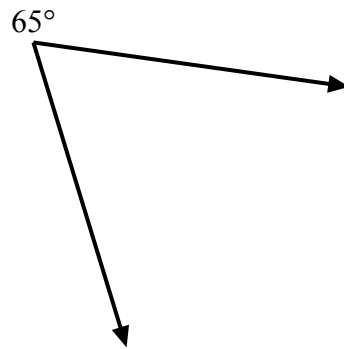
2)



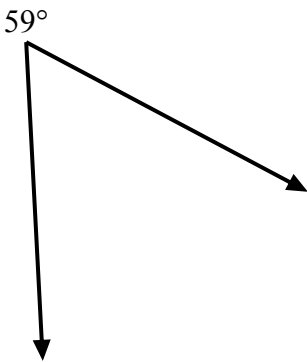
3)



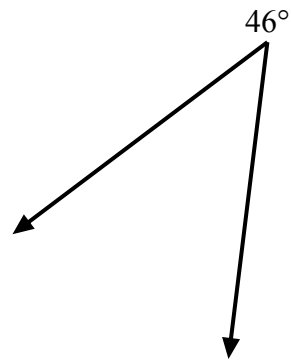
4)



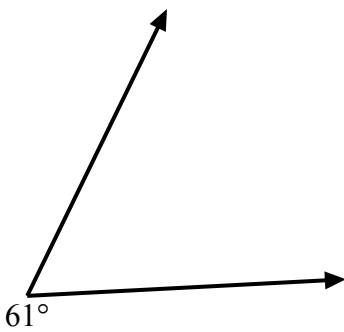
5)



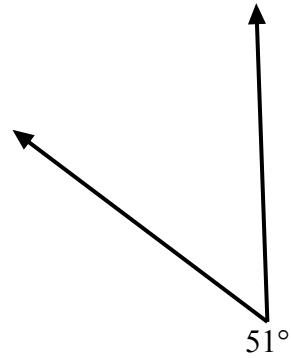
6)



7)



8)



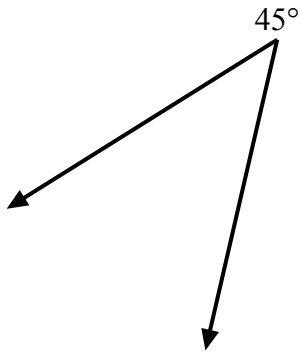
ОТВЕТЫ

- 1. \_\_\_\_\_
- 2. \_\_\_\_\_
- 3. \_\_\_\_\_
- 4. \_\_\_\_\_
- 5. \_\_\_\_\_
- 6. \_\_\_\_\_
- 7. \_\_\_\_\_
- 8. \_\_\_\_\_

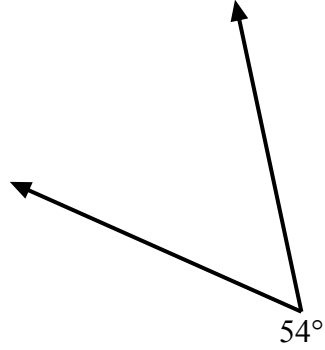


Используйте транспортир для создания треугольника из данной фигуры.  
Отсутствующие углы будут являться ответами. Ответы будут отличаться.

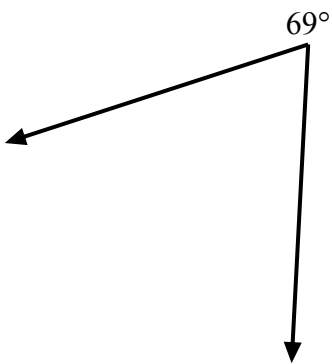
1)



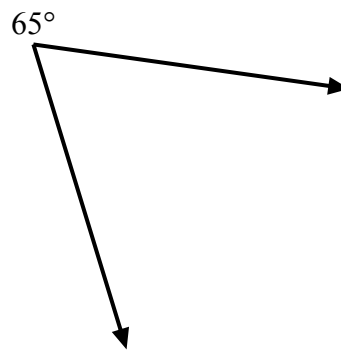
2)



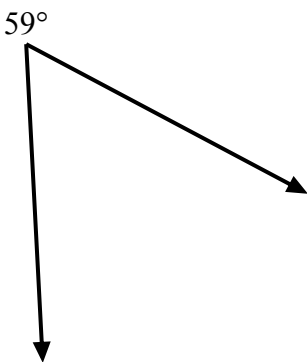
3)



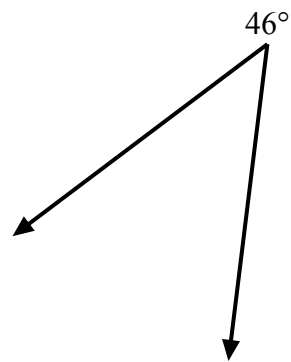
4)



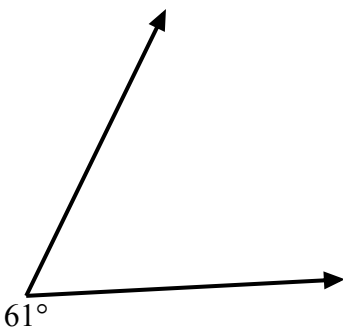
5)



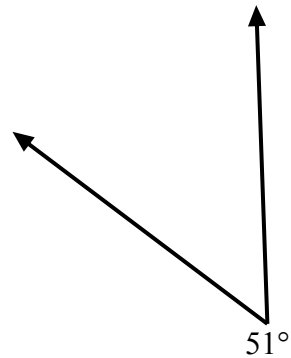
6)



7)



8)

ОТВЕТЫ

1.       =135
2.       =126
3.       =111
4.       =115
5.       =121
6.       =134
7.       =119
8.       =129