




Определите под какой буквой находится правильный ответ.

Onza (oz)

Una onza es aproximadamente el peso de una rebanada de pan.



Libra (lb)

Uma libra é mais ou menos o peso de uma lata de vegetais.



Recordar:
Hay 16 onzas en 1 libra.

ОТВЕТЫ

1. _____
2. _____
3. _____
4. _____
5. _____
6. _____
7. _____
8. _____
9. _____

1)



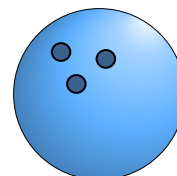
Коробка хлопьев
A. 15 унций(ии)
B. 90 фунтов(та)
C. 15 фунтов(та)
D. 1.1 унций(ии)

2)



Мяч для регби
A. 65 фунтов(та)
B. 13 фунтов(та)
C. 1 Фунты
D. 0.9 унций(ии)

3)




Шар для боулинга
A. 13 фунтов(та)
B. 110 фунтов(та)
C. 198 фунтов(та)
D. 7 унций(ии)

4)



Метла
A. 2 фунтов(та)
B. 20 фунтов(та)
C. 4 унций(ии)
D. 440 фунтов(та)

5)




2-х литровая газировка
A. 4 фунтов(та)
B. 4 унций(ии)
C. 0.11 унций(ии)
D. 2 унций(ии)

6)




Клубника
A. 0.5 фунтов(та)
B. 1 Фунты
C. 11 унций(ии)
D. 0.5 унций(ии)

7)



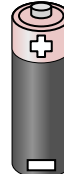
Банка газировки
A. 9 унций(ии)
B. 100 фунтов(та)
C. 0.04 унций(ии)
D. 4 фунтов(та)

8)



Лист блокнота
A. 3 унций(ии)
B. 2 фунтов(та)
C. 0.1 унций(ии)
D. 10 унций(ии)

9)




Батарейка
A. 0.5 унций(ии)
B. 10 унций(ии)
C. 20 фунтов(та)
D. 100 фунтов(та)



Определите под какой буквой находится правильный ответ.

Onza (oz)

Una onza es aproximadamente el peso de una rebanada de pan.



Libra (lb)

Uma libra é mais ou menos o peso de uma lata de vegetais.



Recordar:
Hay 16 onzas en 1 libra.

ОТВЕТЫ

1)



Коробка хлопьев

- A. 15 унций(ии)
- B. 90 фунтов(та)
- C. 15 фунтов(та)
- D. 1.1 унций(ии)


2)



Мяч для регби

- A. 65 фунтов(та)
- B. 13 фунтов(та)
- C. 1 Фунты
- D. 0.9 унций(ии)

3)



Шар для боулинга

- A. 13 фунтов(та)
- B. 110 фунтов(та)
- C. 198 фунтов(та)
- D. 7 унций(ии)


4)



Метла

- A. 2 фунтов(та)
- B. 20 фунтов(та)
- C. 4 унций(ии)
- D. 440 фунтов(та)

5)



2-х литровая газировка

- A. 4 фунтов(та)
- B. 4 унций(ии)
- C. 0.11 унций(ии)
- D. 2 унций(ии)


6)



Клубника

- A. 0.5 фунтов(та)
- B. 1 Фунты
- C. 11 унций(ии)
- D. 0.5 унций(ии)


7)



Банка газировки

- A. 9 унций(ии)
- B. 100 фунтов(та)
- C. 0.04 унций(ии)
- D. 4 фунтов(та)


8)



Лист блокнота

- A. 3 унций(ии)
- B. 2 фунтов(та)
- C. 0.1 унций(ии)
- D. 10 унций(ии)

9)



Батарейка

- A. 0.5 унций(ии)
- B. 10 унций(ии)
- C. 20 фунтов(та)
- D. 100 фунтов(та)

- 1. A
- 2. C
- 3. A
- 4. A
- 5. A
- 6. D
- 7. A
- 8. C
- 9. A