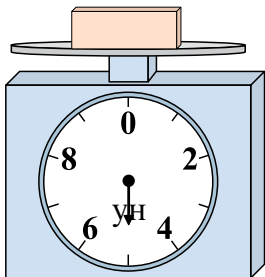




Используйте весы, показывающие ответ на вопрос.

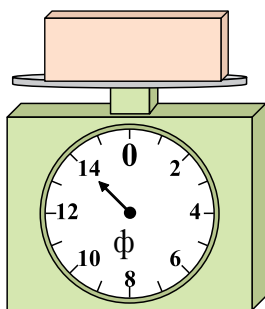
Ответы

1)



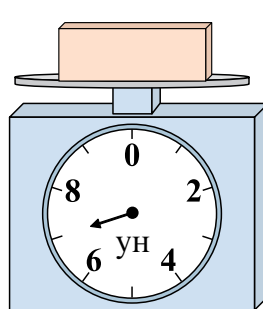
Если у Вас имеется 3 блоков одинакового веса, сколько общий вес в фунтов(та) данных блоков?

2)



Если у Вас имеется 9 блоков одинакового веса, сколько общий вес в унций(ии) данных блоков?

3)



Если данный блок на 8 фунтов(та) тяжелее, то каков вес получится?

1. _____

2. _____


3. _____

4. _____

5. _____

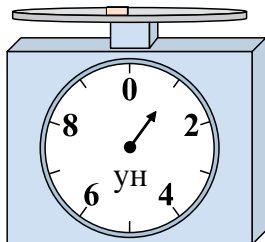
6. _____

4)




Каков вес блоков в единицах (в унций(ии))?

5)



Если у Вас имеется 5 блоков одинакового веса, сколько общий вес в фунтов(та) данных блоков?

6)




Каков вес блоков в единицах (в унций(ии))?

7. _____

8. _____

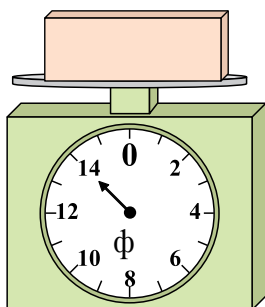
9. _____

7)



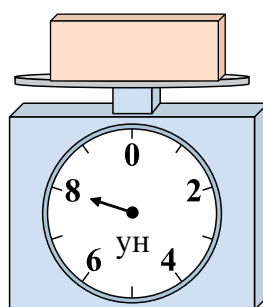
Если данный блок на 9 фунтов(та) тяжелее, то каков вес получится?

8)



Если данный блок на 2 унций(ии) легче, то какой вес получится?

9)




Если данный блок на 2 фунтов(та) легче, то какой вес получится?



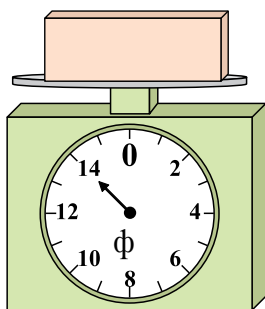
Используйте весы, показывающие ответ на вопрос.

1)



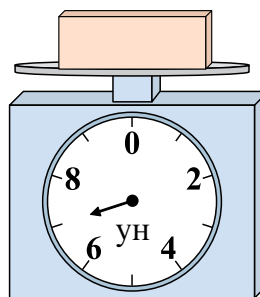
Если у Вас имеется 3
блоков одинакового веса,
сколько общий вес в
фунтов(та) данных блоков?

2)




Если у Вас имеется 9
блоков одинакового веса,
сколько общий вес в
унций(ии) данных блоков?

3)



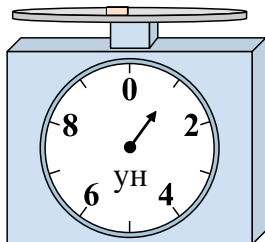
Если данный блок на 8
фунтов(та) тяжелее, то
каков вес получится?

4)




Каков вес блоков в
единицах (в унций(ии))?

5)



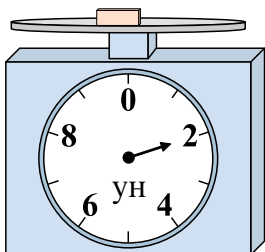
Если у Вас имеется 5
блоков одинакового веса,
сколько общий вес в
фунтов(та) данных блоков?

6)



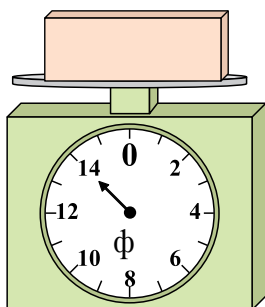
Каков вес блоков в
единицах (в унций(ии))?

7)



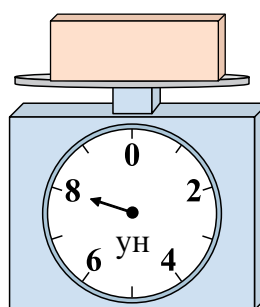
Если данный блок на 9
фунтов(та) тяжелее, то
каков вес получится?

8)



Если данный блок на 2
унций(ии) легче, то какой
вес получится?

9)



Если данный блок на 2
фунтов(та) легче, то какой
вес получится?

Ответы

1. 15 ун.

2. 126 ф.

3. 15 ун.

4. 10 ф.

5. 5 ун.

6. 13 ф.

7. 11 ун.

8. 12 ф.

9. 6 ун.