





Используйте блоки для определения общего количества.

ОТВЕТЫ

обр) 
 _____ Сотни _____ Десятки _____ Единицы


обр 5 50 500

1) 
 _____ Сотни _____ Десятки _____ Единицы

1. _____

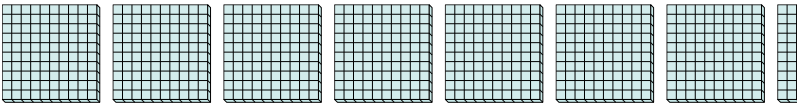
2. _____

3. _____

2) 
 _____ Сотни _____ Десятки _____ Единицы

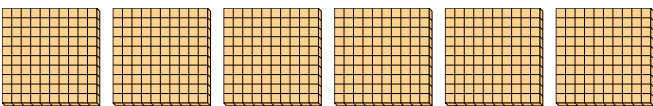
4. _____

5. _____

3) 
 _____ Сотни _____ Десятки _____ Единицы


6. _____

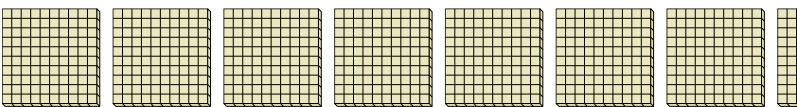
7. _____

4) 
 _____ Сотни _____ Десятки _____ Единицы

8. _____

5) 
 _____ Сотни _____ Десятки _____ Единицы


6) 
 _____ Сотни _____ Десятки _____ Единицы


7) 
 _____ Сотни _____ Десятки _____ Единицы


8) 
 _____ Сотни _____ Десятки _____ Единицы

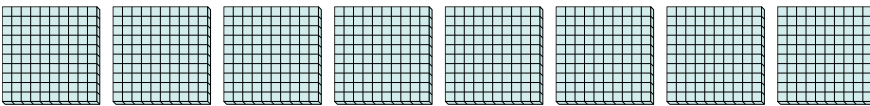


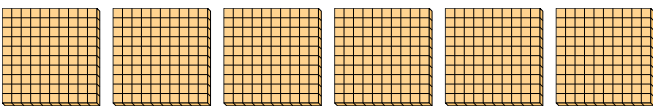
Используйте блоки для определения общего количества.

обр) 
 5 Сотни 50 Десятки 500 Единицы


1) 
 4 Сотни 40 Десятки 400 Единицы

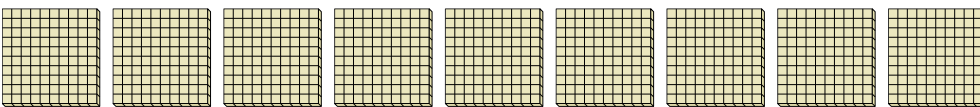
2) 
 7 Сотни 70 Десятки 700 Единицы

3) 
 8 Сотни 80 Десятки 800 Единицы

4) 
 6 Сотни 60 Десятки 600 Единицы

5) 
 2 Сотни 20 Десятки 200 Единицы

6) 
 3 Сотни 30 Десятки 300 Единицы

7) 
 9 Сотни 90 Десятки 900 Единицы

8) 
 1 Сотни 10 Десятки 100 Единицы

ОТВЕТЫ

обр	<u> 5 </u>	<u> 50 </u>	<u> 500 </u>
1.	<u> 4 </u>	<u> 40 </u>	<u> 400 </u>
2.	<u> 7 </u>	<u> 70 </u>	<u> 700 </u>
3.	<u> 8 </u>	<u> 80 </u>	<u> 800 </u>
4.	<u> 6 </u>	<u> 60 </u>	<u> 600 </u>
5.	<u> 2 </u>	<u> 20 </u>	<u> 200 </u>
6.	<u> 3 </u>	<u> 30 </u>	<u> 300 </u>
7.	<u> 9 </u>	<u> 90 </u>	<u> 900 </u>
8.	<u> 1 </u>	<u> 10 </u>	<u> 100 </u>