

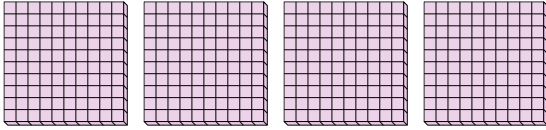


Используйте группы при ответе на вопрос.

ОТВЕТЫ

1) а. Сколько здесь групп 100?

б. Сколько всего малых блоков?

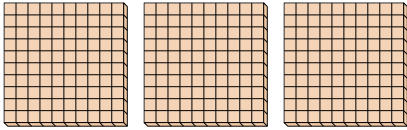


1а. _____

1б. _____

2) а. Сколько здесь групп 100?

б. Сколько всего малых блоков?




2а. _____

2б. _____

3) а. Сколько здесь групп 100?

б. Сколько всего малых блоков?

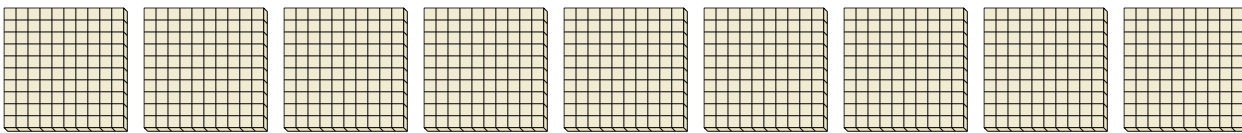


3а. _____

3б. _____

4) а. Сколько здесь групп 100?

б. Сколько всего малых блоков?



4а. _____

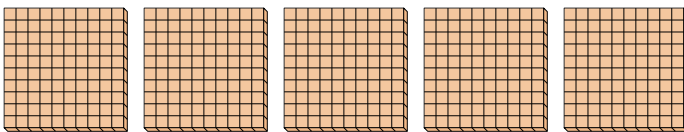
4б. _____

5а. _____

5б. _____

5) а. Сколько здесь групп 100?

б. Сколько всего малых блоков?



6а. _____

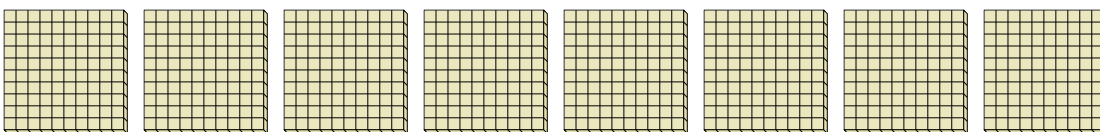
6б. _____

7а. _____

7б. _____


6) а. Сколько здесь групп 100?

б. Сколько всего малых блоков?



7) а. Сколько здесь групп 100?

б. Сколько всего малых блоков?



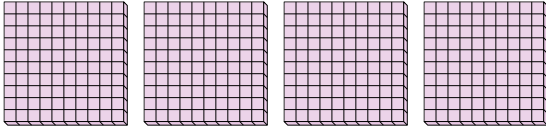


Используйте группы при ответе на вопрос.

ОТВЕТЫ

1) а. Сколько здесь групп 100?

б. Сколько всего малых блоков?

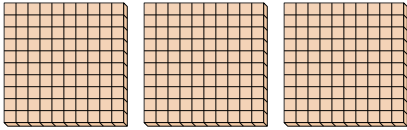


1a. 4

1b. 400

2) а. Сколько здесь групп 100?

б. Сколько всего малых блоков?




2a. 3

2b. 300

3) а. Сколько здесь групп 100?

б. Сколько всего малых блоков?

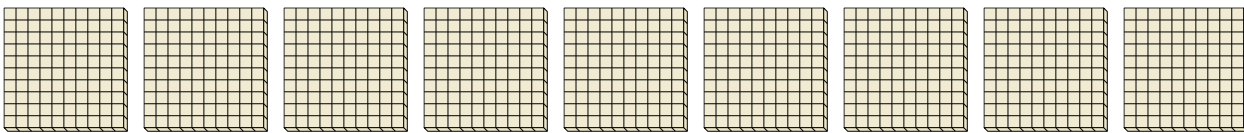


3a. 1

3b. 100

4) а. Сколько здесь групп 100?

б. Сколько всего малых блоков?

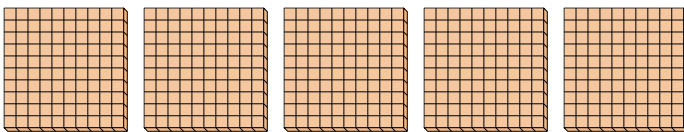


4a. 9

4b. 900

5) а. Сколько здесь групп 100?

б. Сколько всего малых блоков?

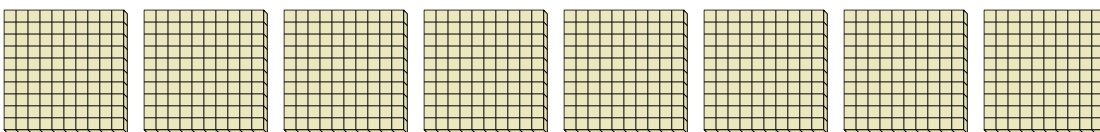


5a. 5

5b. 500

6) а. Сколько здесь групп 100?

б. Сколько всего малых блоков?




6a. 8

6b. 800

7) а. Сколько здесь групп 100?

б. Сколько всего малых блоков?



7a. 7

7b. 700