




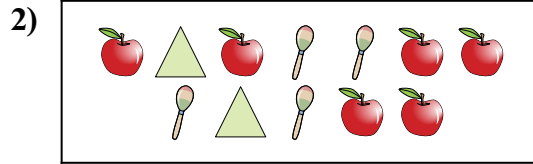
Сравните количество фигур.



Имеется больше или ?

A.


B.



Имеется больше или ?

A.


B.



Имеется больше или ?

A.


B.



Имеется больше или ?

A.

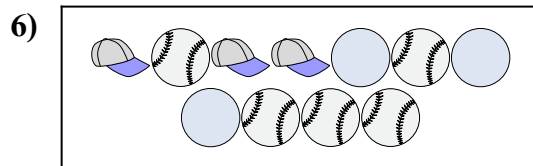
B.



Имеется больше или ?

A.

B.



Имеется меньше или ?

A.

B.

Ответы

1. _____

2. _____

3. _____


4. _____

5. _____

6. _____



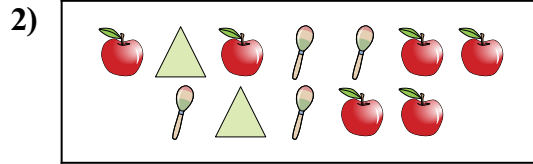
Сравните количество фигур.



Имеется больше или ?

A.


B.



Имеется больше или ?

A.


B.



Имеется больше или ?

A.


B.



Имеется больше или ?

A.

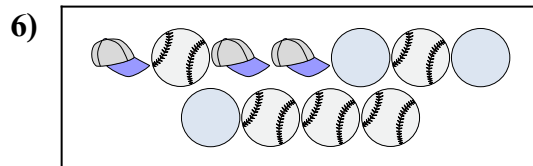
B.



Имеется больше или ?

A.

B.



Имеется меньше или ?

A.

B.

Ответы

1. А

2. А

3. В

4. А

5. В

6. В