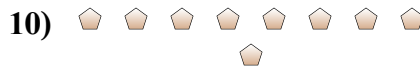
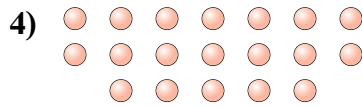
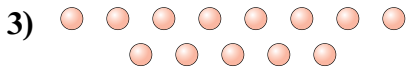




Определите, является ли число фигур четным или нечетным.



Отвeты

1. _____

2. _____

3. _____

4. _____

5. _____

6. _____

7. _____

8. _____

9. _____

10. _____



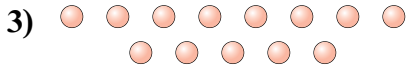
Определите, является ли число фигур четным или нечетным.



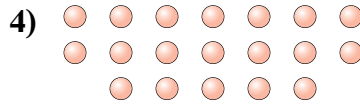
16



5



13



19



8



10



16



17



19



9

ОТВЕТЫ

1. Четное

2. Нечетное

3. Нечетное

4. Нечетное

5. Четное

6. Четное

7. Четное

8. Нечетное

9. Нечетное

10. Нечетное