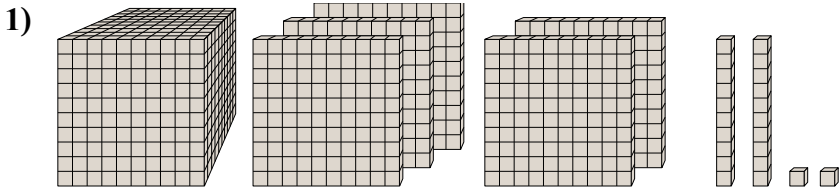
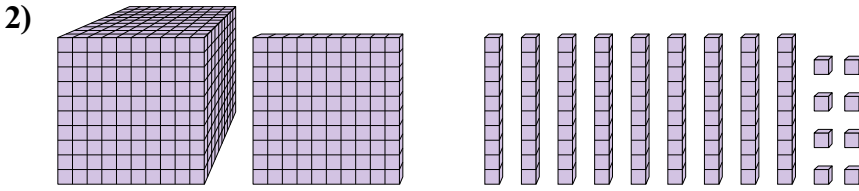




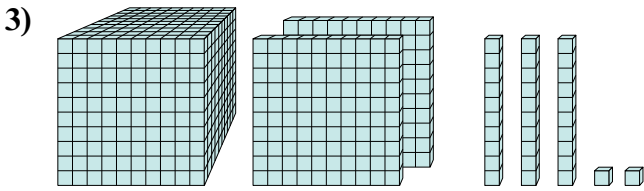
Решите каждое задание.



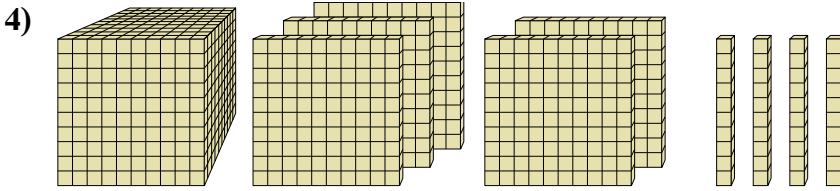
Какая цифра на месте сотен в данном числе?



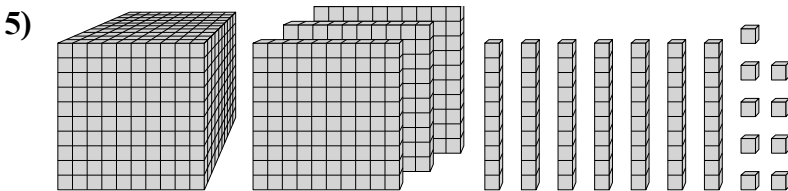
Какая цифра на месте тысячных в данном числе?



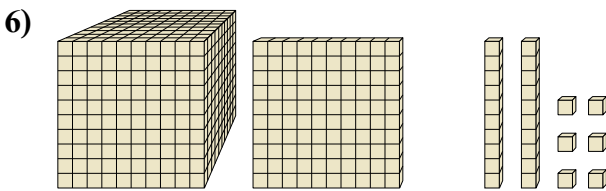
Какая цифра на месте десятков в данном числе?



Какая цифра на месте десятков в данном числе?



Какая цифра на месте единиц в данном числе?



Какая цифра на месте десятков в данном числе?

**Ответы**

1. \_\_\_\_\_

2. \_\_\_\_\_

3. \_\_\_\_\_

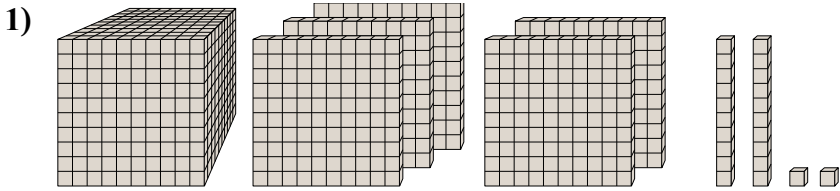
4. \_\_\_\_\_

5. \_\_\_\_\_

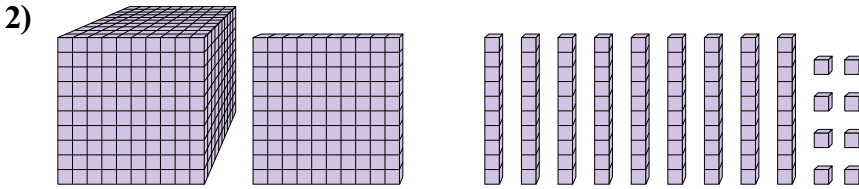
6. \_\_\_\_\_



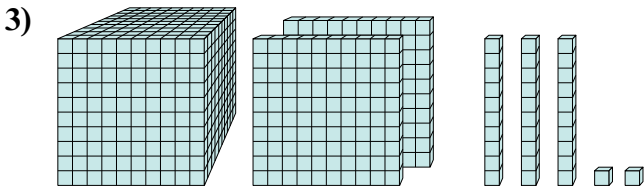
Решите каждое задание.



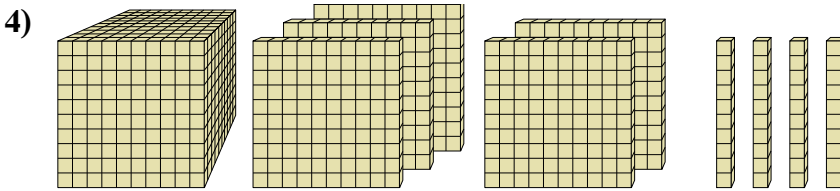
Какая цифра на месте сотен в данном числе?



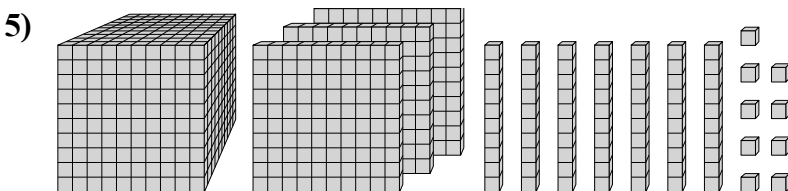
Какая цифра на месте тысячных в данном числе?



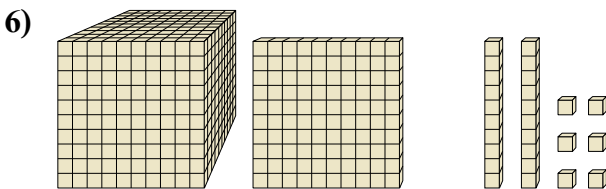
Какая цифра на месте десятков в данном числе?



Какая цифра на месте десятков в данном числе?



Какая цифра на месте единиц в данном числе?



Какая цифра на месте десятков в данном числе?

**Ответы**

1. 5

2. 1

3. 3

4. 4

5. 9

6. 2