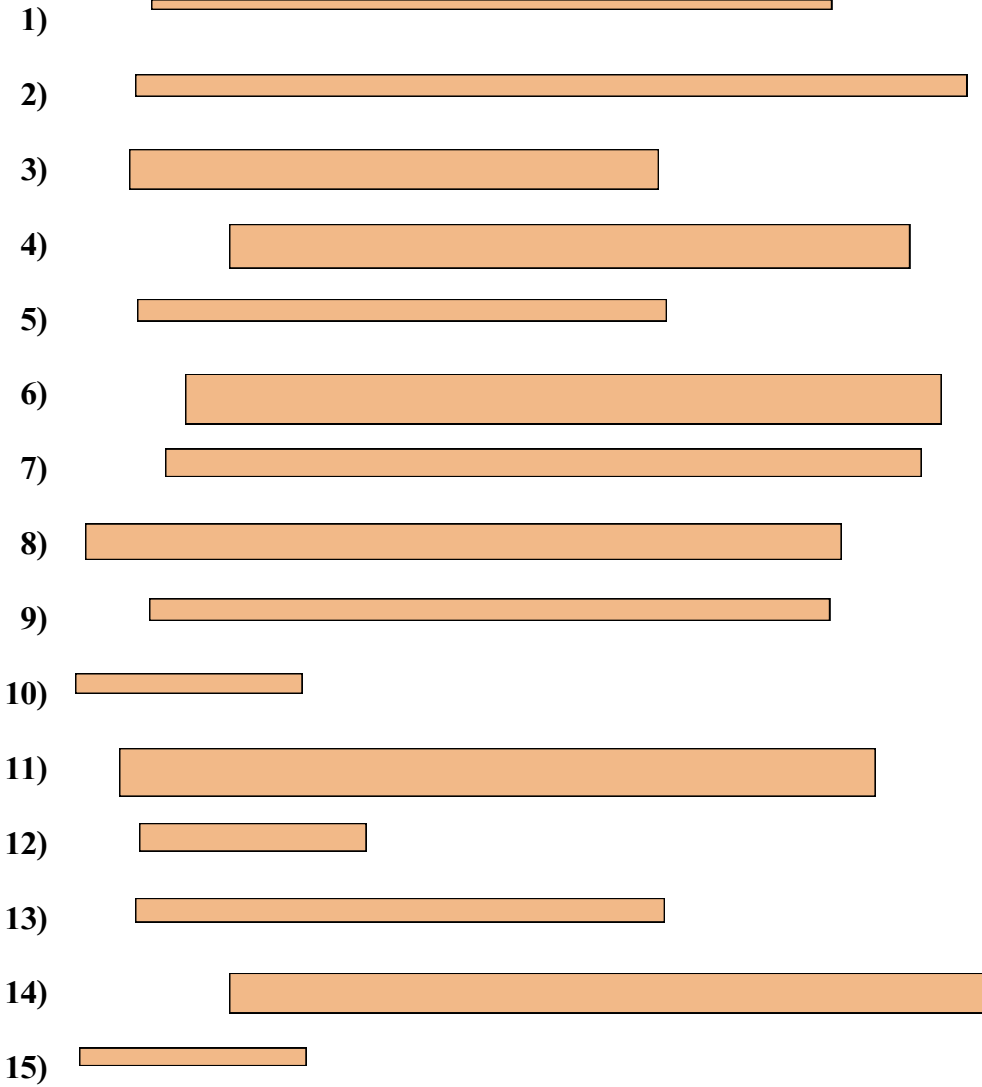




Измерьте каждую фигуру и затем сформируйте график, основанный на данной информации.



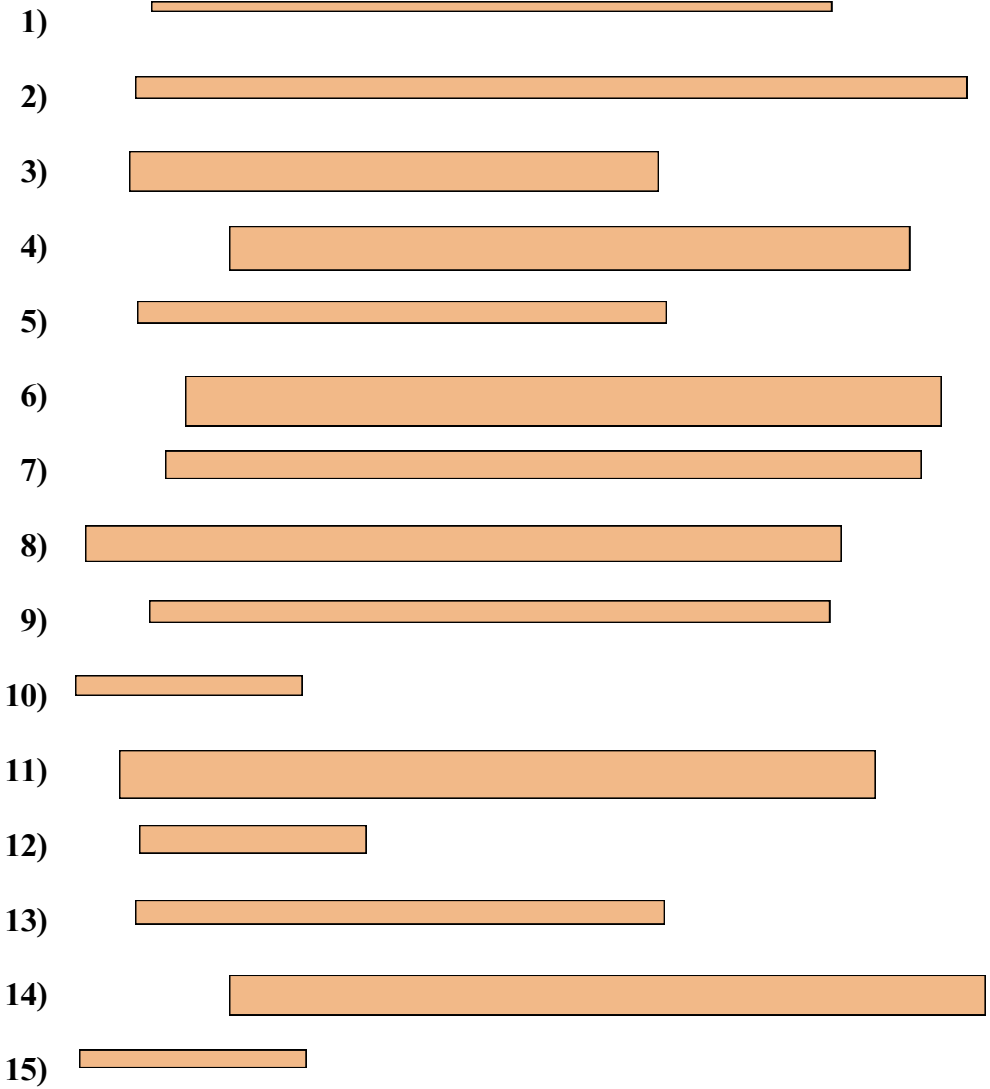
Линейный график

**Ответы**

- 1. \_\_\_\_\_
- 2. \_\_\_\_\_
- 3. \_\_\_\_\_
- 4. \_\_\_\_\_
- 5. \_\_\_\_\_
- 6. \_\_\_\_\_
- 7. \_\_\_\_\_
- 8. \_\_\_\_\_
- 9. \_\_\_\_\_
- 10. \_\_\_\_\_
- 11. \_\_\_\_\_
- 12. \_\_\_\_\_
- 13. \_\_\_\_\_
- 14. \_\_\_\_\_
- 15. \_\_\_\_\_



Измерьте каждую фигуру и затем сформируйте график, основанный на данной информации.



Линейный график

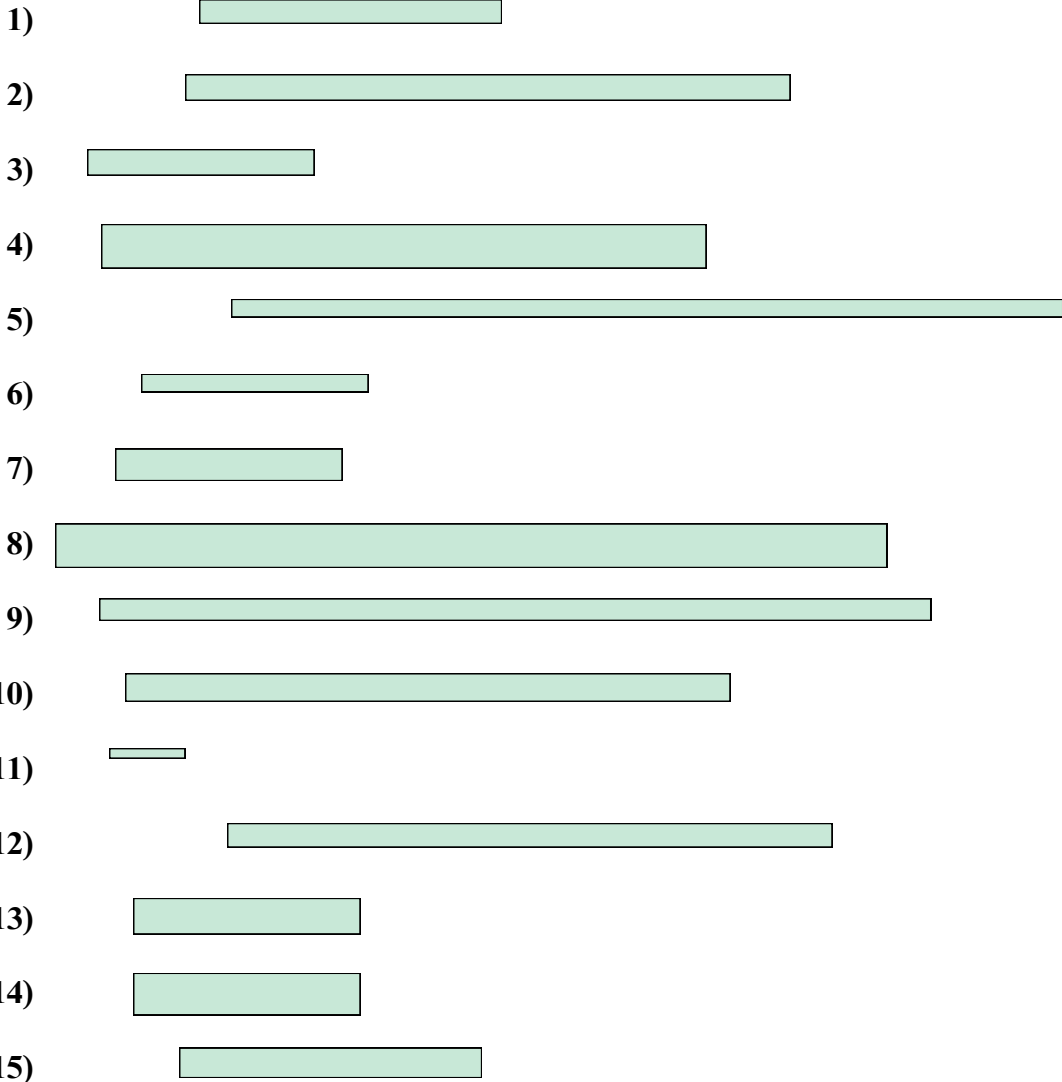
Ответы

- 1. 9
- 2. 11
- 3. 7
- 4. 9
- 5. 7
- 6. 10
- 7. 10
- 8. 10
- 9. 9
- 10. 3
- 11. 10
- 12. 3
- 13. 7
- 14. 10
- 15. 3

				x	
				x	
x	x	x	x	x	
x	x	x	x	x	
x	x	x	x	x	x
3	7	9	10	11	



Измерьте каждую фигуру и затем сформируйте график, основанный на данной информации.



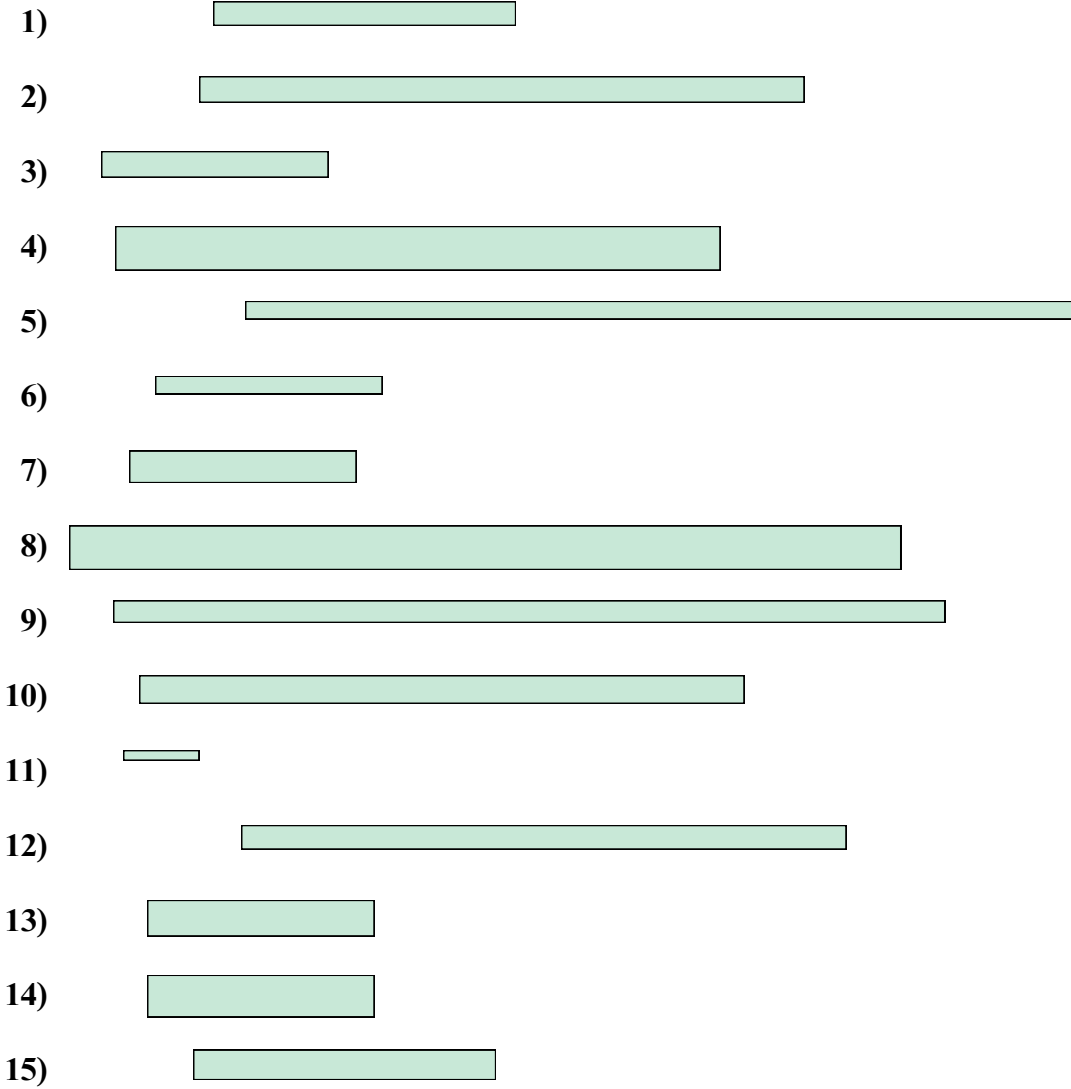
Линейный график

Ответы

- 1. \_\_\_\_\_
- 2. \_\_\_\_\_
- 3. \_\_\_\_\_
- 4. \_\_\_\_\_
- 5. \_\_\_\_\_
- 6. \_\_\_\_\_
- 7. \_\_\_\_\_
- 8. \_\_\_\_\_
- 9. \_\_\_\_\_
- 10. \_\_\_\_\_
- 11. \_\_\_\_\_
- 12. \_\_\_\_\_
- 13. \_\_\_\_\_
- 14. \_\_\_\_\_
- 15. \_\_\_\_\_



Измерьте каждую фигуру и затем сформируйте график, основанный на данной информации.



Линейный график

Ответы

- 1. 4
- 2. 8
- 3. 3
- 4. 8
- 5. 11
- 6. 3
- 7. 3
- 8. 11
- 9. 11
- 10. 8
- 11. 1
- 12. 8
- 13. 3
- 14. 3
- 15. 4

	x				
	x			x	
	x			x	x
	x	x		x	x
x	x	x		x	x
1	3	4		8	11



Измерьте каждую фигуру и затем сформируйте график, основанный на данной информации.

1)



2)



3)



4)




5)



6)



7)




8)



9)



10)



11)



12)



13)



14)



15)



Линейный график

Ответы

1. \_\_\_\_\_

2. \_\_\_\_\_

3. \_\_\_\_\_

4. \_\_\_\_\_

5. \_\_\_\_\_

6. \_\_\_\_\_

7. \_\_\_\_\_

8. \_\_\_\_\_

9. \_\_\_\_\_

10. \_\_\_\_\_

11. \_\_\_\_\_

12. \_\_\_\_\_

13. \_\_\_\_\_

14. \_\_\_\_\_

15. \_\_\_\_\_



Измерьте каждую фигуру и затем сформируйте график, основанный на данной информации.



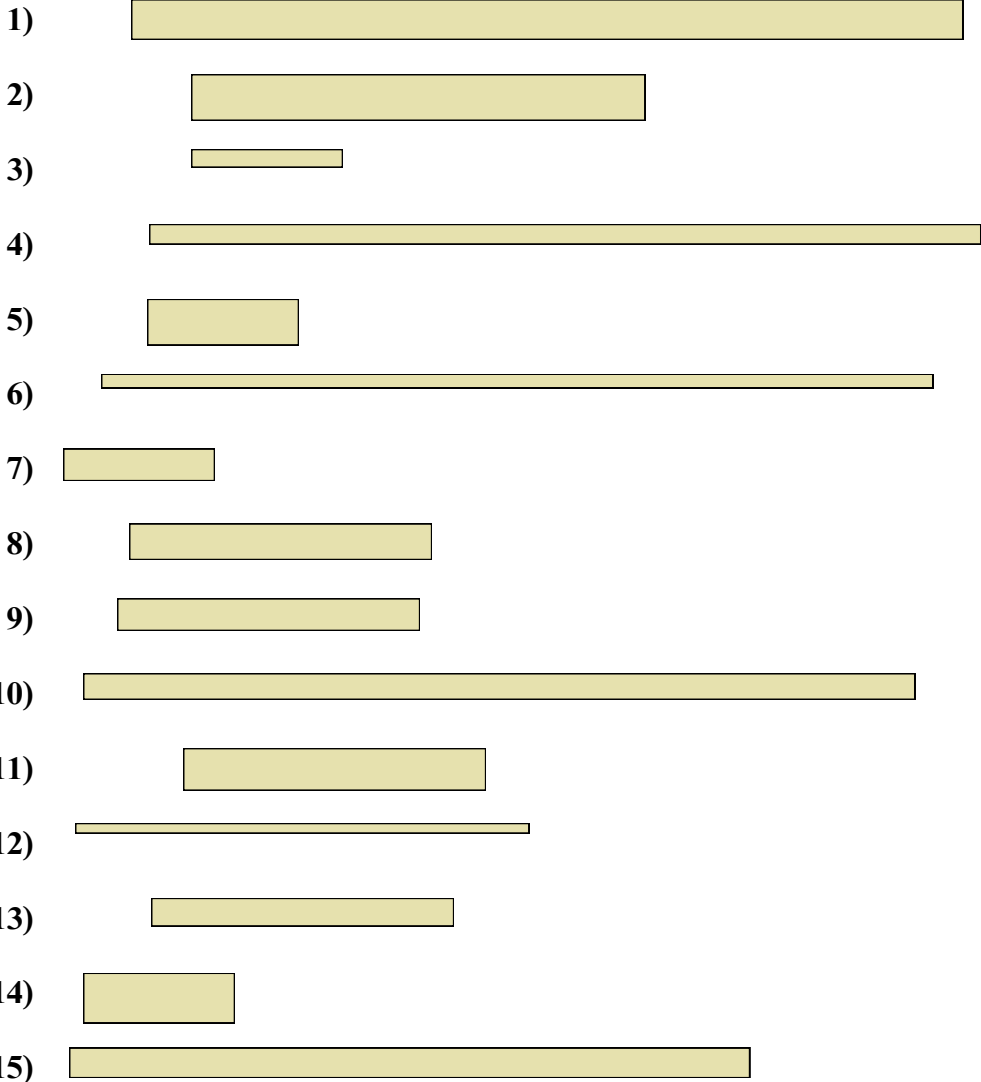
x	x	x		x
x	x	x	x	x
x	x	x	x	x
3	5	6	7	9

Ответы

1. 6
2. 3
3. 6
4. 7
5. 5
6. 5
7. 9
8. 3
9. 3
10. 7
11. 6
12. 9
13. 5
14. 9
15. 9



Измерьте каждую фигуру и затем сформируйте график, основанный на данной информации.



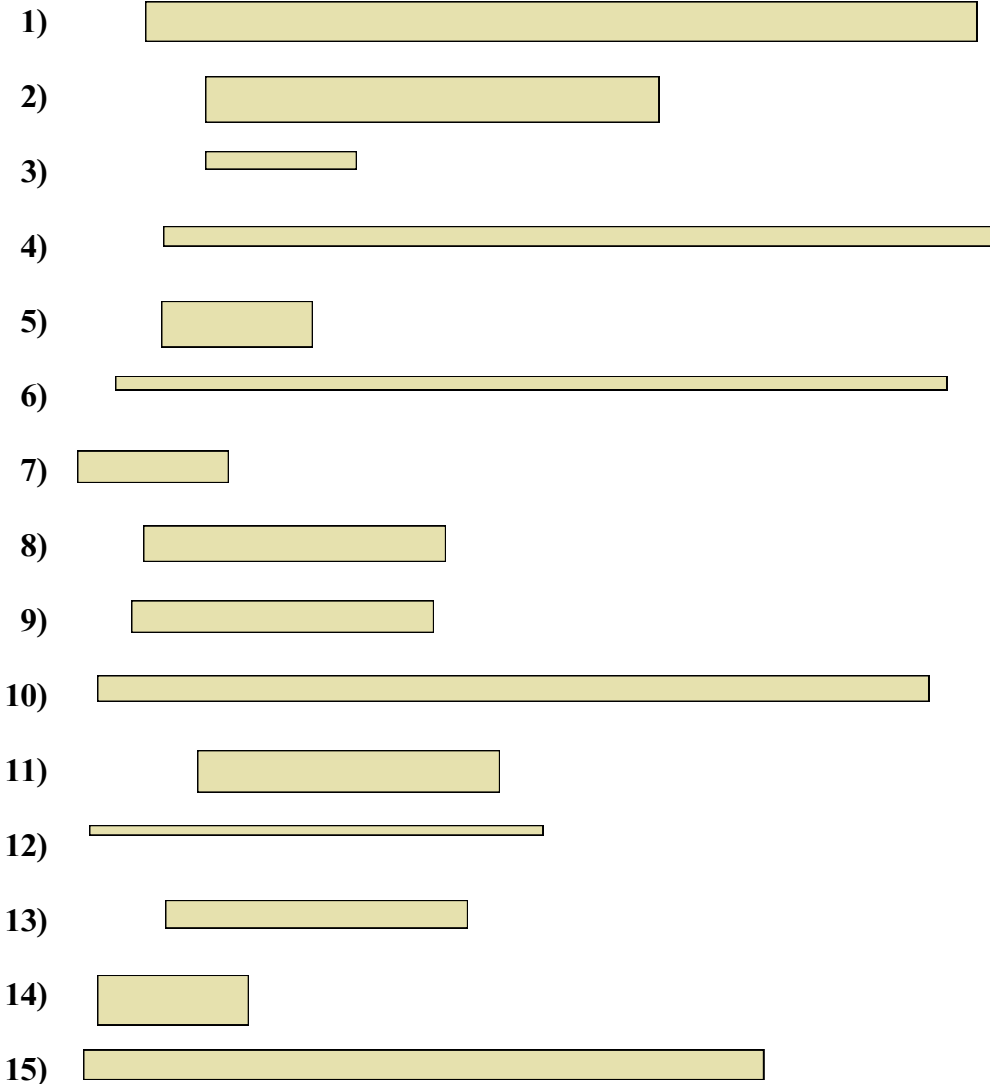
Линейный график

Ответы

- 1. \_\_\_\_\_
- 2. \_\_\_\_\_
- 3. \_\_\_\_\_
- 4. \_\_\_\_\_
- 5. \_\_\_\_\_
- 6. \_\_\_\_\_
- 7. \_\_\_\_\_
- 8. \_\_\_\_\_
- 9. \_\_\_\_\_
- 10. \_\_\_\_\_
- 11. \_\_\_\_\_
- 12. \_\_\_\_\_
- 13. \_\_\_\_\_
- 14. \_\_\_\_\_
- 15. \_\_\_\_\_



Измерьте каждую фигуру и затем сформируйте график, основанный на данной информации.



Линейный график

Ответы

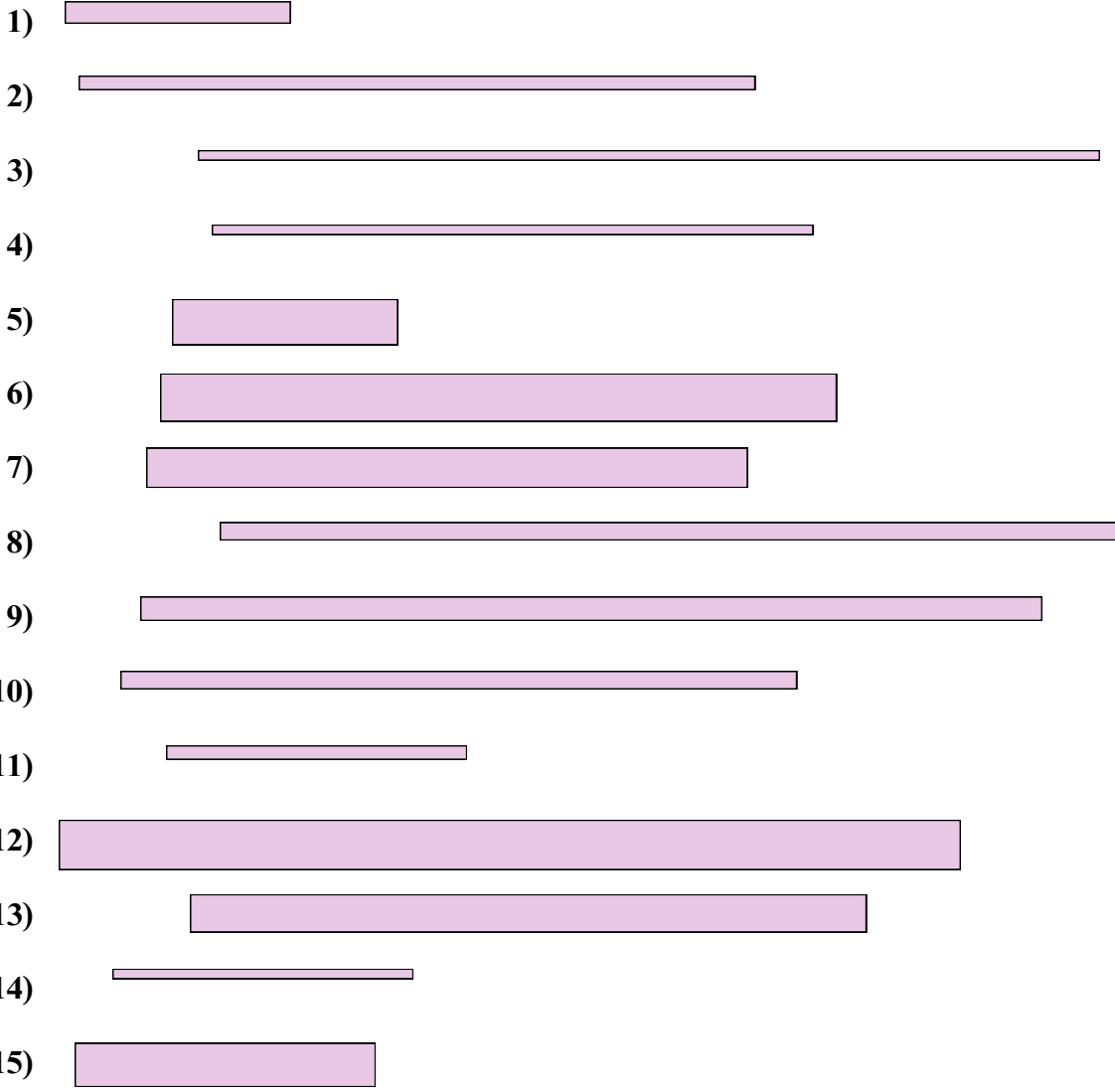
- 1. 11
- 2. 6
- 3. 2
- 4. 11
- 5. 2
- 6. 11
- 7. 2
- 8. 4
- 9. 4
- 10. 11
- 11. 4
- 12. 6
- 13. 4
- 14. 2
- 15. 9

x	x			x
x	x			x
x	x	x		x
x	x	x	x	x
2	4	6	9	11





Измерьте каждую фигуру и затем сформируйте график, основанный на данной информации.



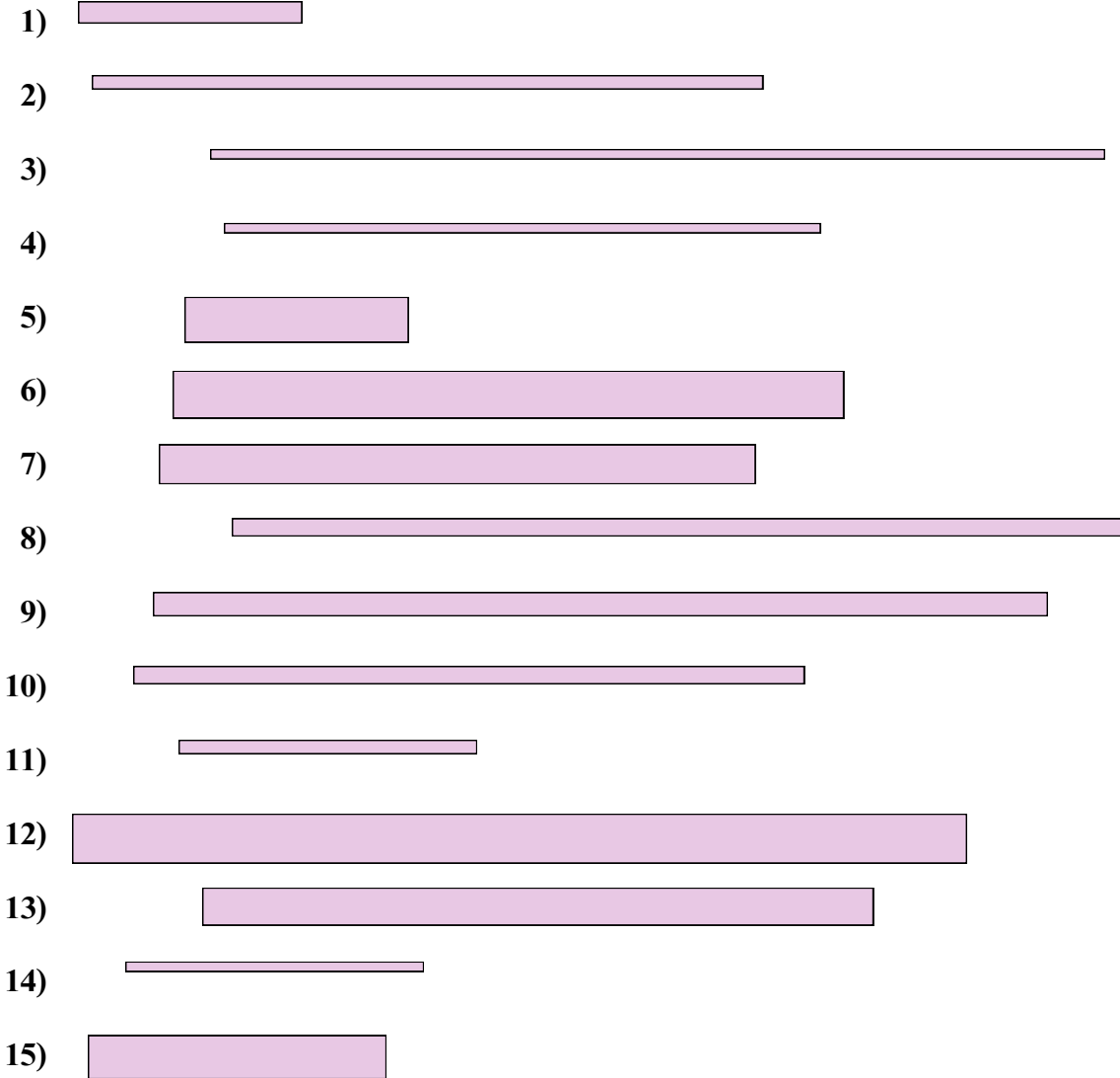
Линейный график

Ответы

- 1. \_\_\_\_\_
- 2. \_\_\_\_\_
- 3. \_\_\_\_\_
- 4. \_\_\_\_\_
- 5. \_\_\_\_\_
- 6. \_\_\_\_\_
- 7. \_\_\_\_\_
- 8. \_\_\_\_\_
- 9. \_\_\_\_\_
- 10. \_\_\_\_\_
- 11. \_\_\_\_\_
- 12. \_\_\_\_\_
- 13. \_\_\_\_\_
- 14. \_\_\_\_\_
- 15. \_\_\_\_\_



Измерьте каждую фигуру и затем сформируйте график, основанный на данной информации.



Линейный график

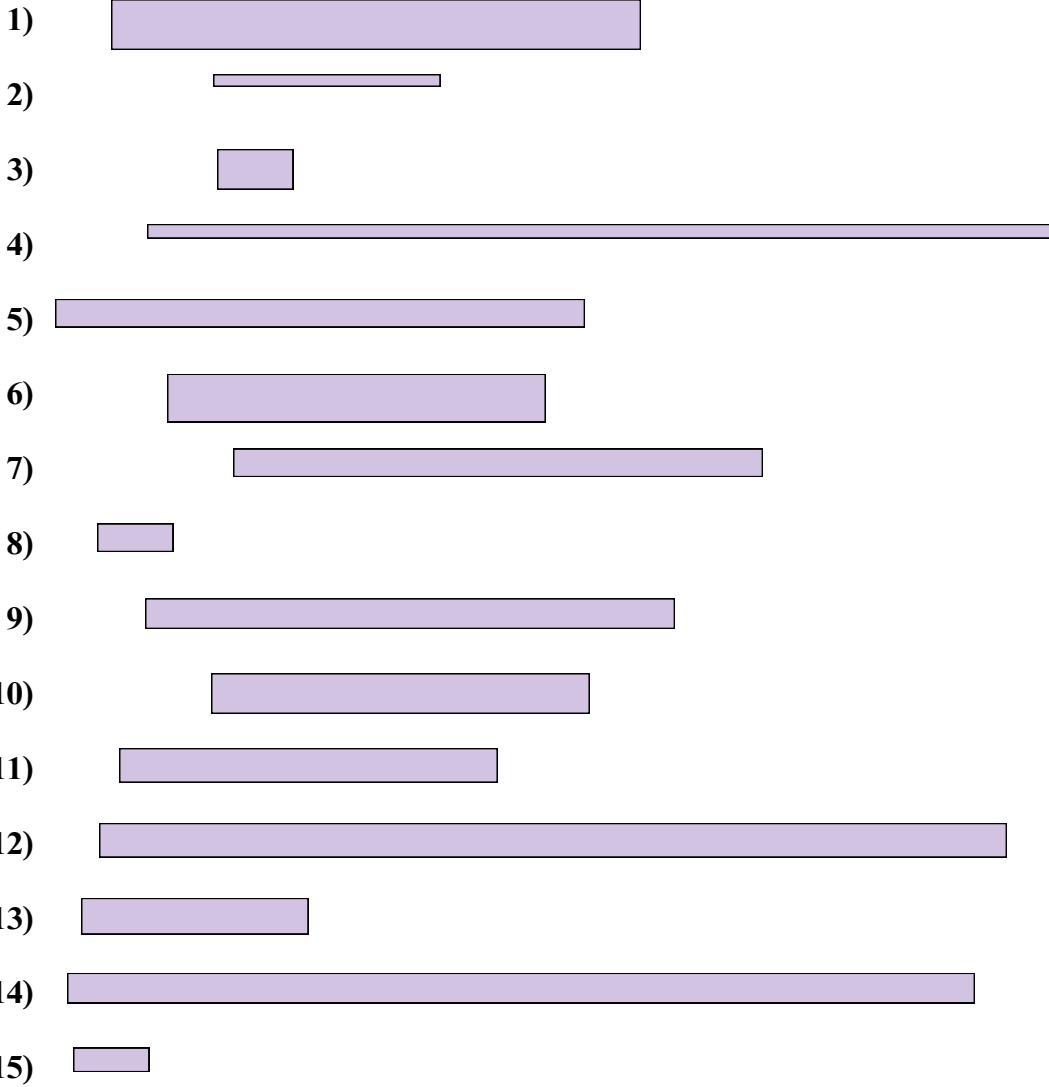
				x	x
				x	x
x	x	x	x	x	x
x	x	x	x	x	x
3	4	8	9	12	

Ответы

- 1. 3
- 2. 9
- 3. 12
- 4. 8
- 5. 3
- 6. 9
- 7. 8
- 8. 12
- 9. 12
- 10. 9
- 11. 4
- 12. 12
- 13. 9
- 14. 4
- 15. 4



Измерьте каждую фигуру и затем сформируйте график, основанный на данной информации.



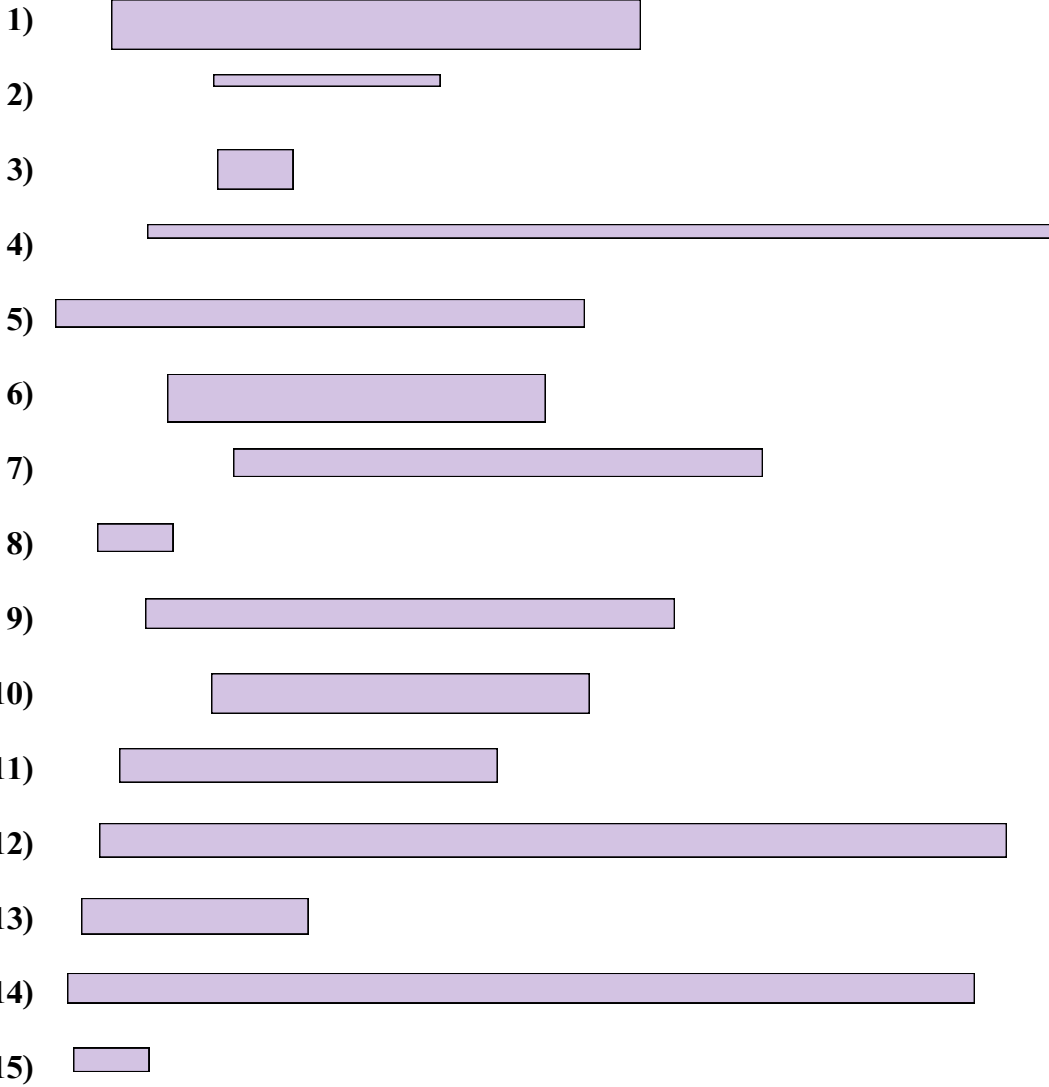
Линейный график

**Ответы**

- 1. \_\_\_\_\_
- 2. \_\_\_\_\_
- 3. \_\_\_\_\_
- 4. \_\_\_\_\_
- 5. \_\_\_\_\_
- 6. \_\_\_\_\_
- 7. \_\_\_\_\_
- 8. \_\_\_\_\_
- 9. \_\_\_\_\_
- 10. \_\_\_\_\_
- 11. \_\_\_\_\_
- 12. \_\_\_\_\_
- 13. \_\_\_\_\_
- 14. \_\_\_\_\_
- 15. \_\_\_\_\_



Измерьте каждую фигуру и затем сформируйте график, основанный на данной информации.



Линейный график

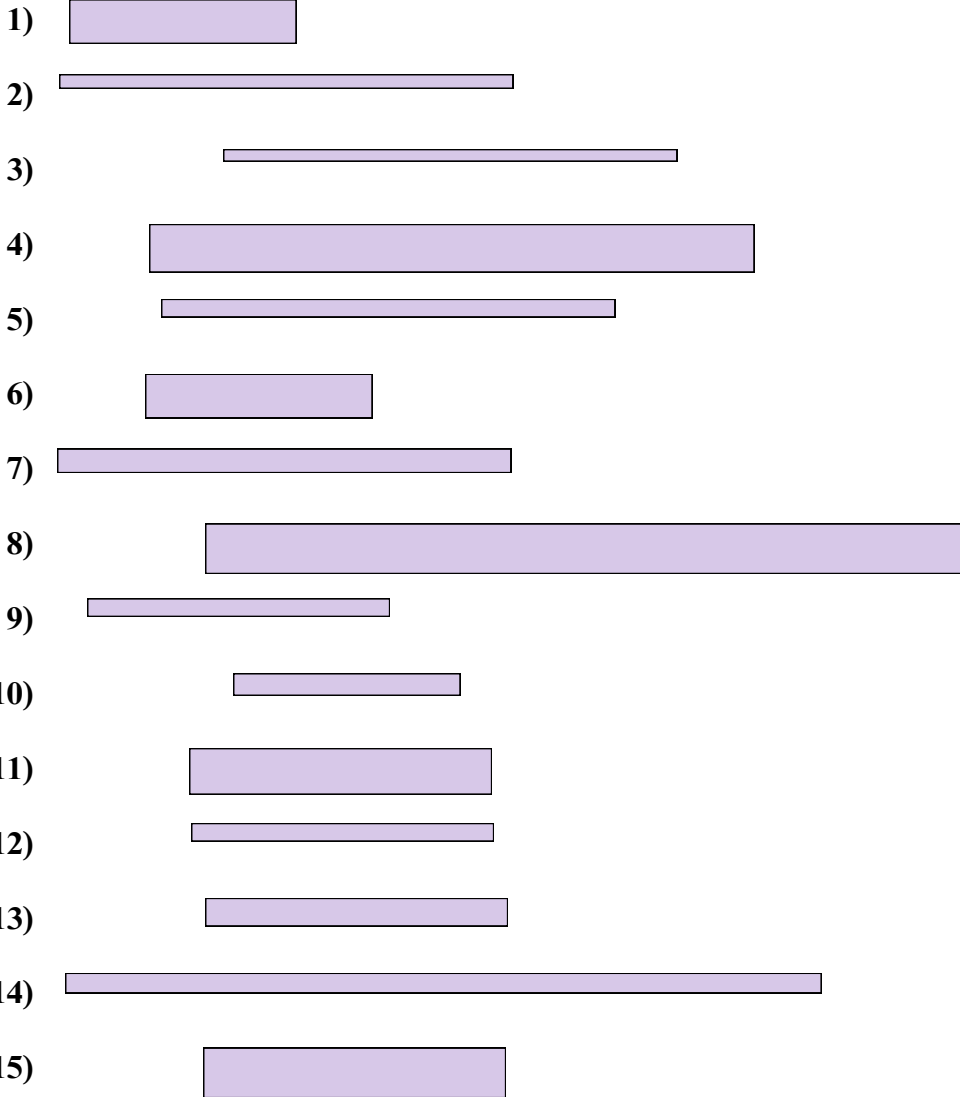
Ответы

- 1. 7
- 2. 3
- 3. 1
- 4. 12
- 5. 7
- 6. 5
- 7. 7
- 8. 1
- 9. 7
- 10. 5
- 11. 5
- 12. 12
- 13. 3
- 14. 12
- 15. 1

				X	
X			X	X	X
X	X		X	X	X
X	X		X	X	X
1	3		5	7	12



Измерьте каждую фигуру и затем сформируйте график, основанный на данной информации.



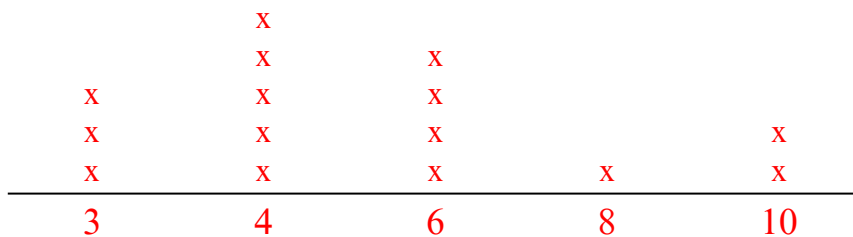
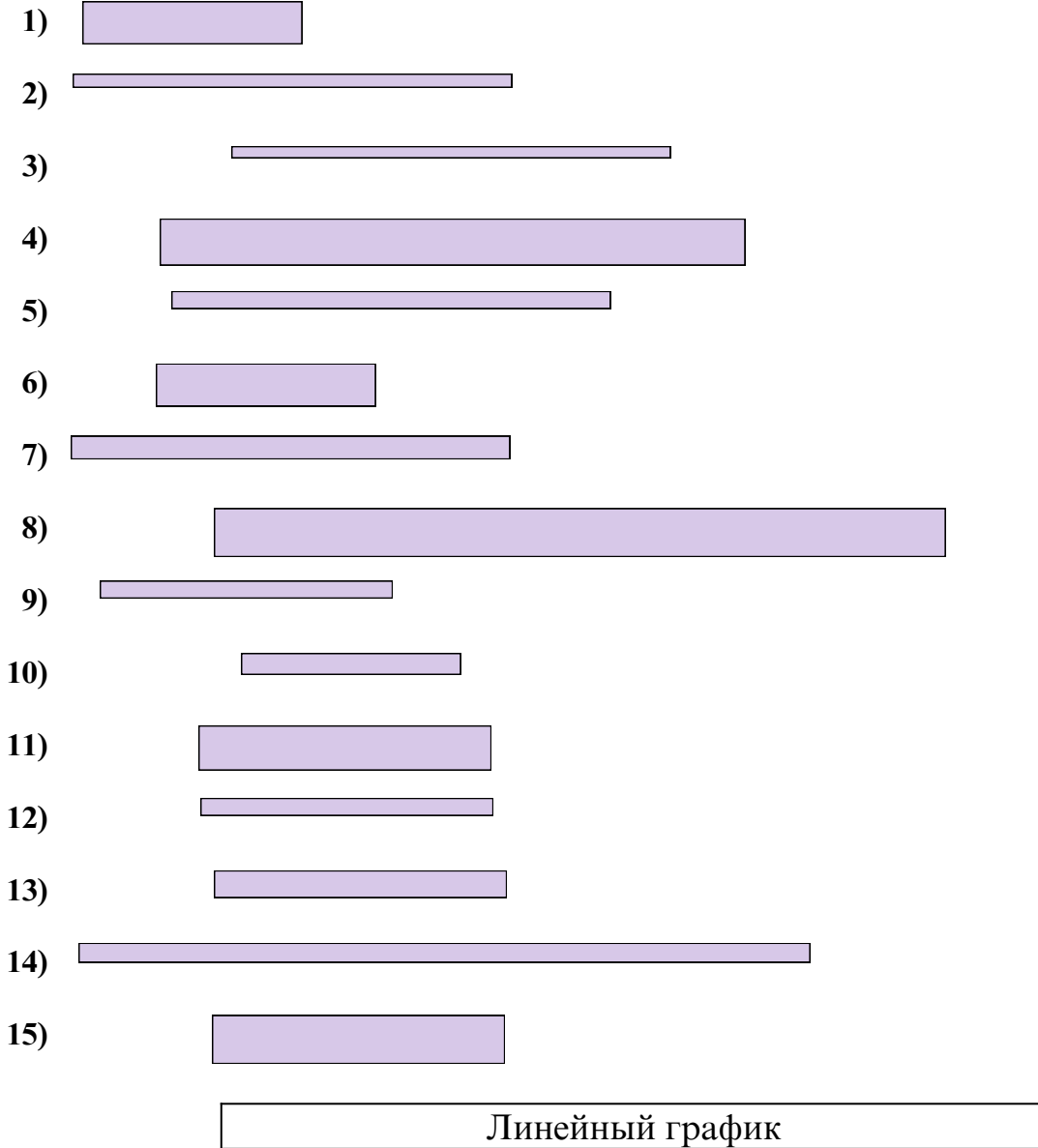
Линейный график

**Ответы**

- 1. \_\_\_\_\_
- 2. \_\_\_\_\_
- 3. \_\_\_\_\_
- 4. \_\_\_\_\_
- 5. \_\_\_\_\_
- 6. \_\_\_\_\_
- 7. \_\_\_\_\_
- 8. \_\_\_\_\_
- 9. \_\_\_\_\_
- 10. \_\_\_\_\_
- 11. \_\_\_\_\_
- 12. \_\_\_\_\_
- 13. \_\_\_\_\_
- 14. \_\_\_\_\_
- 15. \_\_\_\_\_



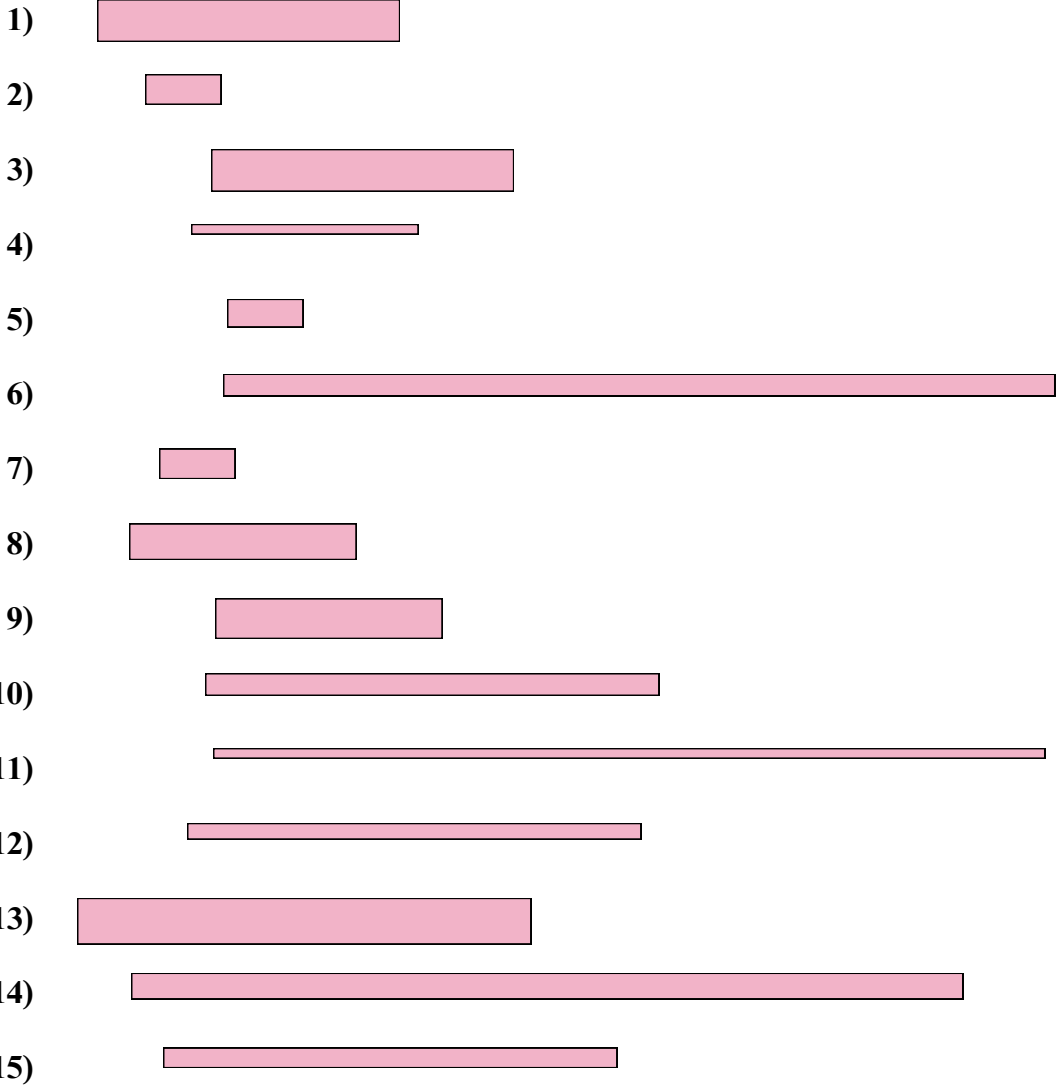
Измерьте каждую фигуру и затем сформируйте график, основанный на данной информации.

Ответы

1. 3
2. 6
3. 6
4. 8
5. 6
6. 3
7. 6
8. 10
9. 4
10. 3
11. 4
12. 4
13. 4
14. 10
15. 4



Измерьте каждую фигуру и затем сформируйте график, основанный на данной информации.



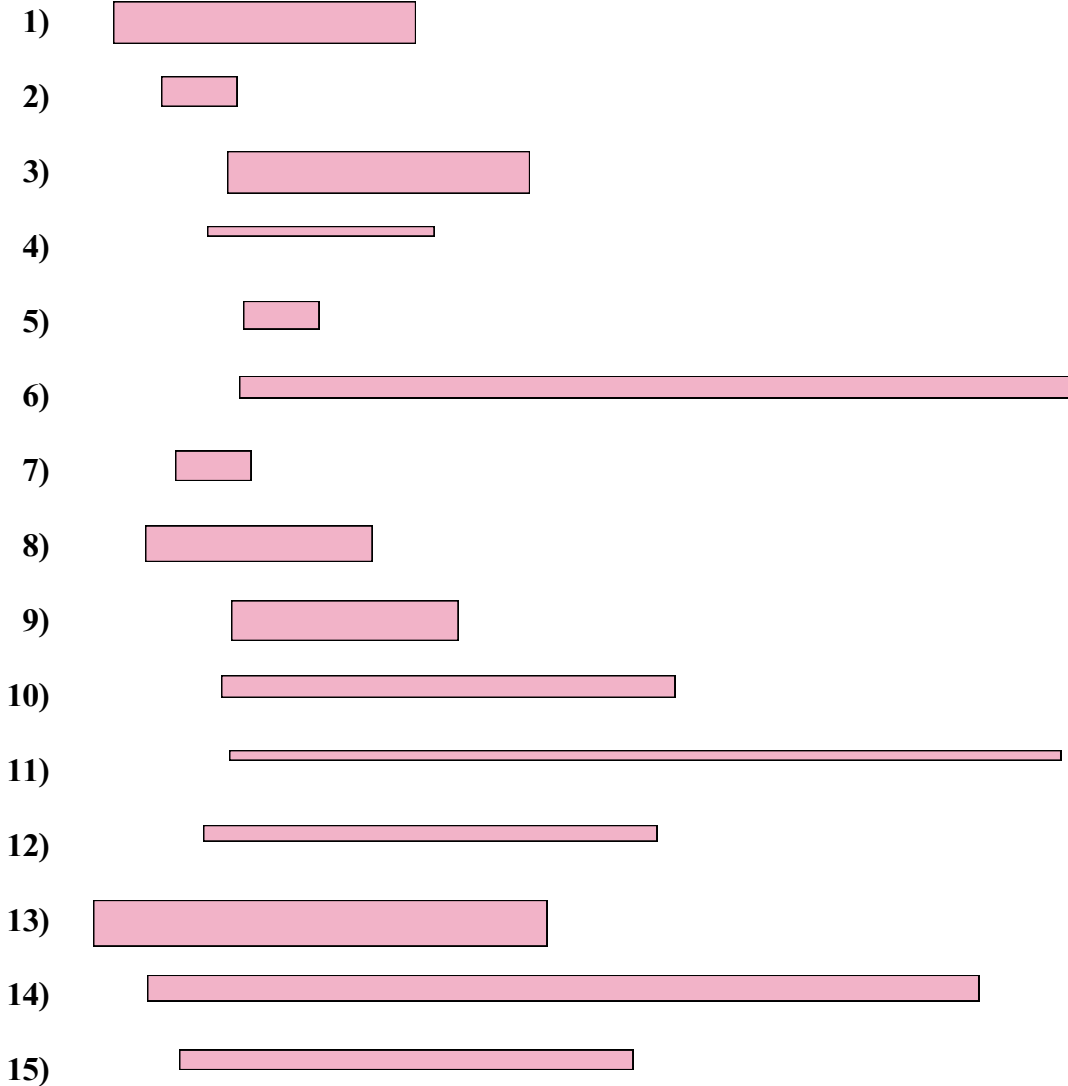
Линейный график

Ответы

- 1. \_\_\_\_\_
- 2. \_\_\_\_\_
- 3. \_\_\_\_\_
- 4. \_\_\_\_\_
- 5. \_\_\_\_\_
- 6. \_\_\_\_\_
- 7. \_\_\_\_\_
- 8. \_\_\_\_\_
- 9. \_\_\_\_\_
- 10. \_\_\_\_\_
- 11. \_\_\_\_\_
- 12. \_\_\_\_\_
- 13. \_\_\_\_\_
- 14. \_\_\_\_\_
- 15. \_\_\_\_\_



Измерьте каждую фигуру и затем сформируйте график, основанный на данной информации.



Линейный график

Ответы

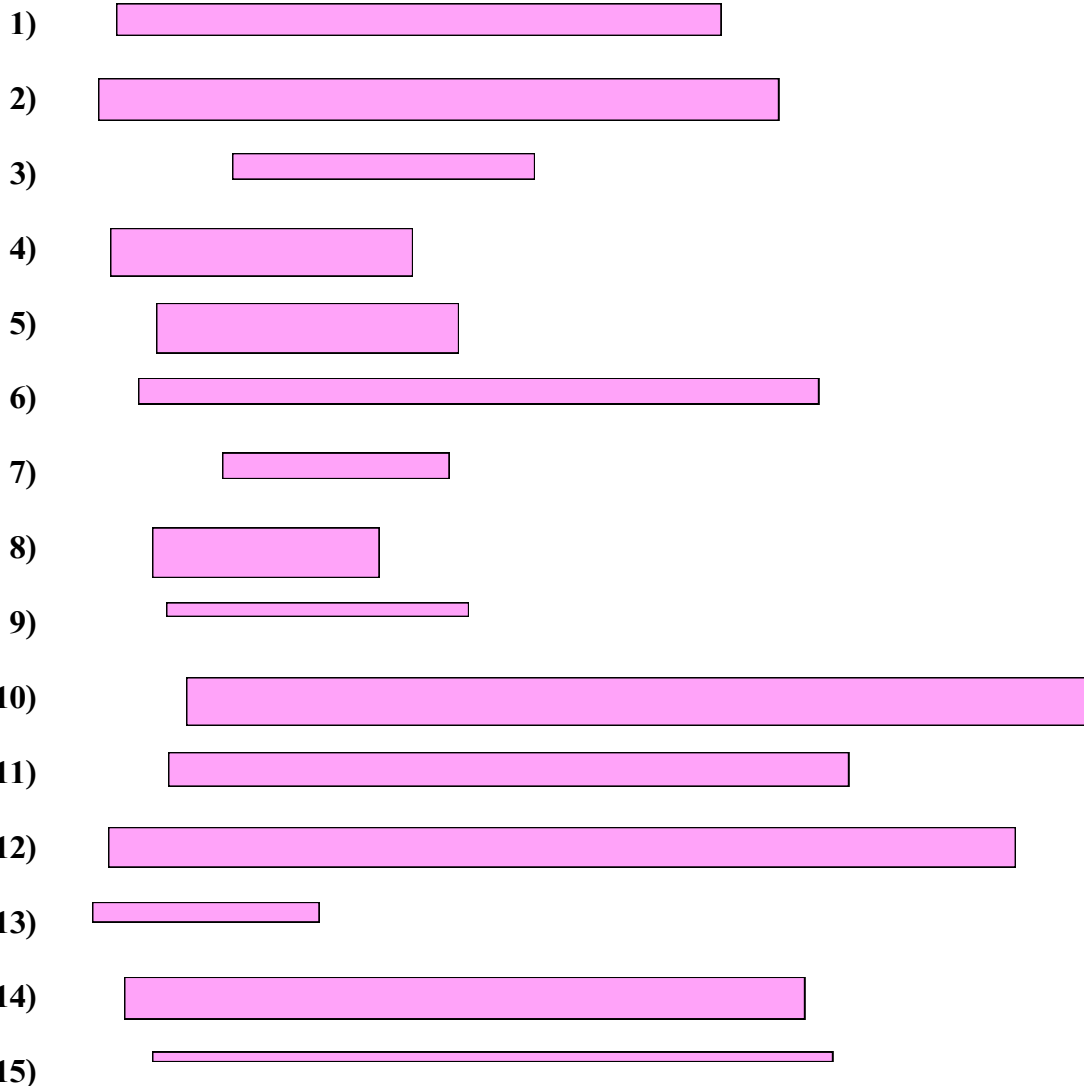
1. 4
2. 1
3. 4
4. 3
5. 1
6. 11
7. 1
8. 3
9. 3
10. 6
11. 11
12. 6
13. 6
14. 11
15. 6

			x	
x	x		x	x
x	x	x	x	x
x	x	x	x	x
1	3	4	6	11





Измерьте каждую фигуру и затем сформируйте график, основанный на данной информации.



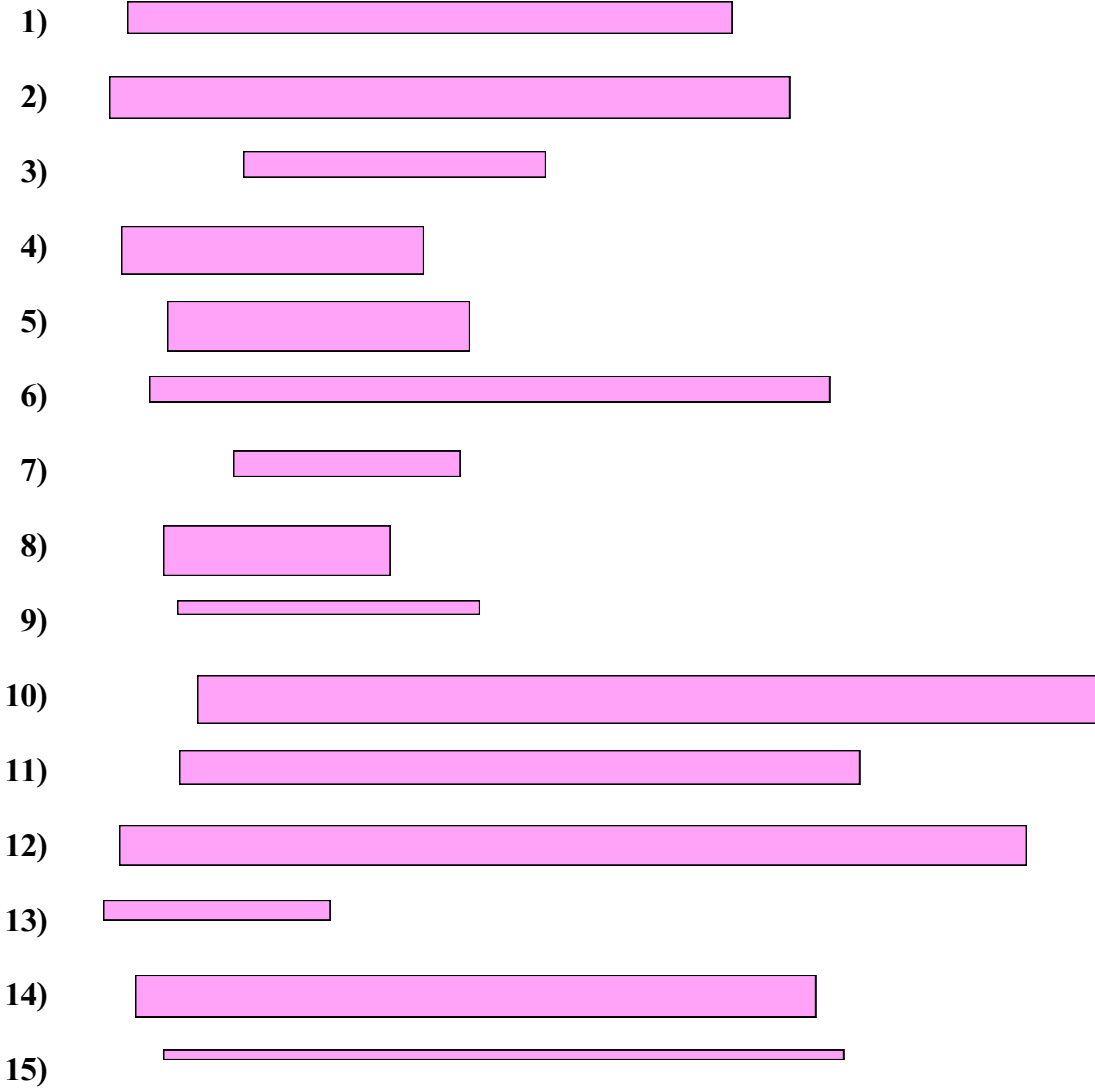
Линейный график

**Ответы**

- 1. \_\_\_\_\_
- 2. \_\_\_\_\_
- 3. \_\_\_\_\_
- 4. \_\_\_\_\_
- 5. \_\_\_\_\_
- 6. \_\_\_\_\_
- 7. \_\_\_\_\_
- 8. \_\_\_\_\_
- 9. \_\_\_\_\_
- 10. \_\_\_\_\_
- 11. \_\_\_\_\_
- 12. \_\_\_\_\_
- 13. \_\_\_\_\_
- 14. \_\_\_\_\_
- 15. \_\_\_\_\_



Измерьте каждую фигуру и затем сформируйте график, основанный на данной информации.



Линейный график

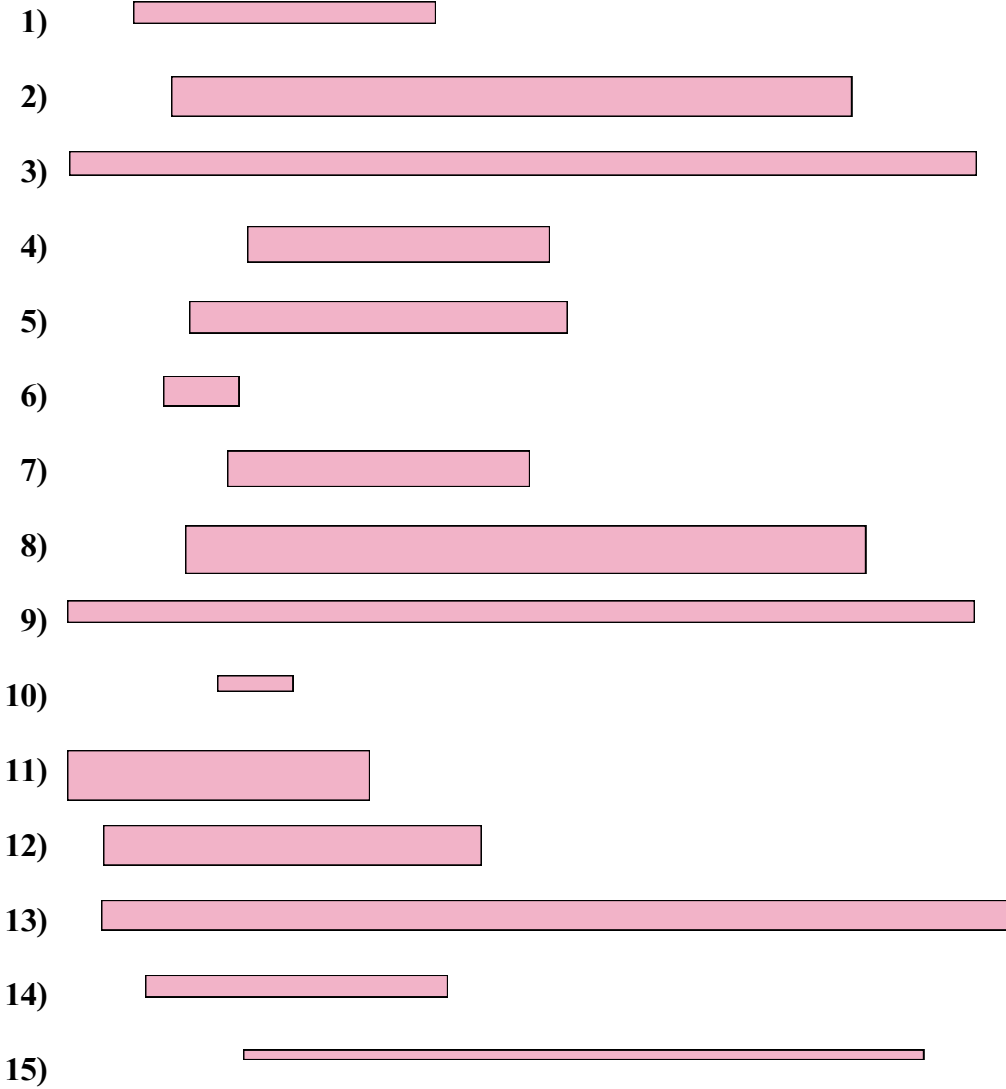
Ответы

- 1. 8
- 2. 9
- 3. 4
- 4. 4
- 5. 4
- 6. 9
- 7. 3
- 8. 3
- 9. 4
- 10. 12
- 11. 9
- 12. 12
- 13. 3
- 14. 9
- 15. 9

				x	
				x	
x	x			x	
x	x			x	x
x	x	x		x	x
3	4	8		9	12



Измерьте каждую фигуру и затем сформируйте график, основанный на данной информации.



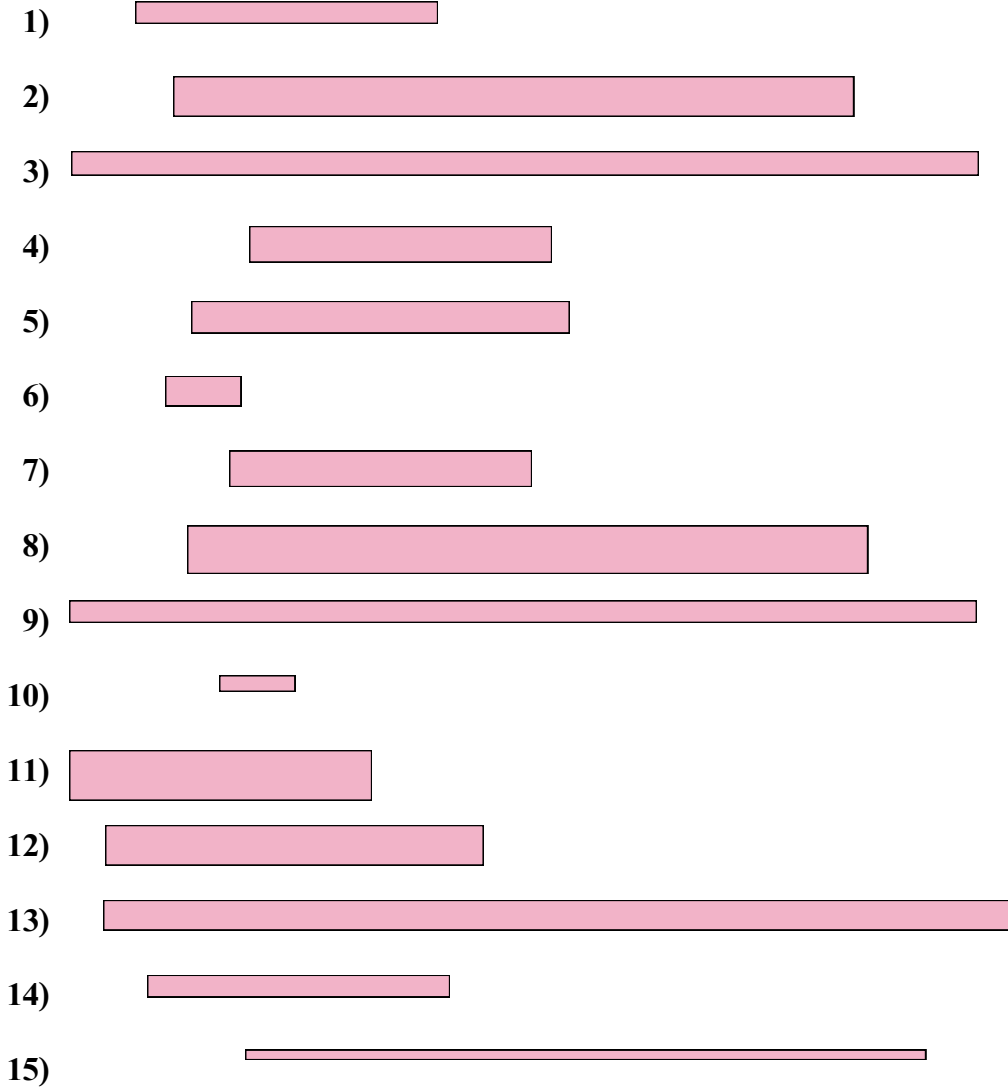
Линейный график

Ответы

- 1. \_\_\_\_\_
- 2. \_\_\_\_\_
- 3. \_\_\_\_\_
- 4. \_\_\_\_\_
- 5. \_\_\_\_\_
- 6. \_\_\_\_\_
- 7. \_\_\_\_\_
- 8. \_\_\_\_\_
- 9. \_\_\_\_\_
- 10. \_\_\_\_\_
- 11. \_\_\_\_\_
- 12. \_\_\_\_\_
- 13. \_\_\_\_\_
- 14. \_\_\_\_\_
- 15. \_\_\_\_\_



Измерьте каждую фигуру и затем сформируйте график, основанный на данной информации.



Линейный график

			x		
			x		
			x	x	x
x			x	x	x
x			x	x	x
1	4	5	9	12	

Ответы

1. 4
2. 9
3. 12
4. 4
5. 5
6. 1
7. 4
8. 9
9. 12
10. 1
11. 4
12. 5
13. 12
14. 4
15. 9