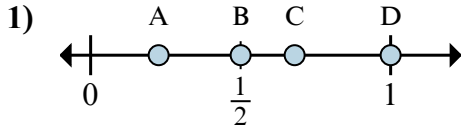
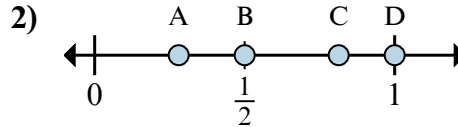




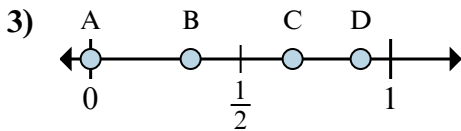
Определите под какой буквой находится правильный ответ по положению дроби на цифровой прямой.



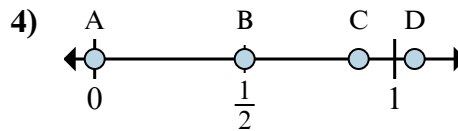
- 1a) Какая буква наиболее точно показывает  $\frac{1}{2}$ ?  
 1b) Какая буква наиболее точно показывает  $\frac{2}{2}$ ?



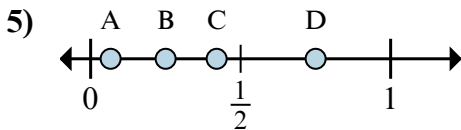
- 2a) Какая буква наиболее точно показывает  $\frac{4}{4}$ ?  
 2b) Какая буква наиболее точно показывает  $\frac{2}{4}$ ?



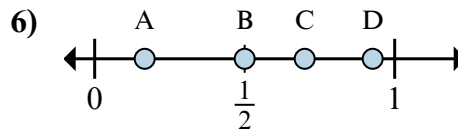
- 3a) Какая буква наиболее точно показывает  $\frac{0}{3}$ ?  
 3b) Какая буква наиболее точно показывает  $\frac{1}{3}$ ?



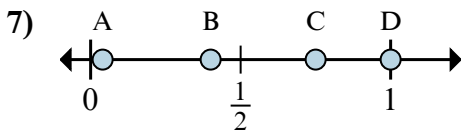
- 4a) Какая буква наиболее точно показывает  $\frac{0}{8}$ ?  
 4b) Какая буква наиболее точно показывает  $\frac{4}{8}$ ?



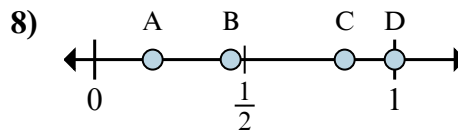
- 5a) Какая буква наиболее точно показывает  $\frac{3}{4}$ ?  
 5b) Какая буква наиболее точно показывает  $\frac{1}{4}$ ?



- 6a) Какая буква наиболее точно показывает  $\frac{3}{6}$ ?  
 6b) Какая буква наиболее точно показывает  $\frac{1}{6}$ ?



- 7a) Какая буква наиболее точно показывает  $\frac{6}{8}$ ?  
 7b) Какая буква наиболее точно показывает  $\frac{8}{8}$ ?



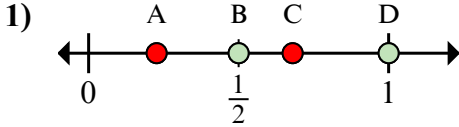
- 8a) Какая буква наиболее точно показывает  $\frac{5}{6}$ ?  
 8b) Какая буква наиболее точно показывает  $\frac{6}{6}$ ?

Ответы

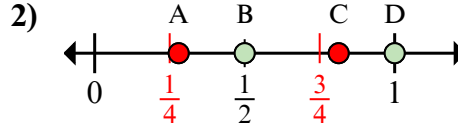
- 1a. \_\_\_\_\_  
 1b. \_\_\_\_\_  
 2a. \_\_\_\_\_  
 2b. \_\_\_\_\_  
 3a. \_\_\_\_\_  
 3b. \_\_\_\_\_  
 4a. \_\_\_\_\_  
 4b. \_\_\_\_\_  
 5a. \_\_\_\_\_  
 5b. \_\_\_\_\_  
 6a. \_\_\_\_\_  
 6b. \_\_\_\_\_  
 7a. \_\_\_\_\_  
 7b. \_\_\_\_\_  
 8a. \_\_\_\_\_  
 8b. \_\_\_\_\_



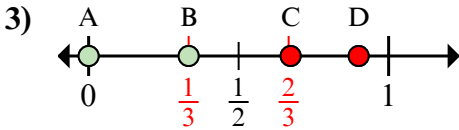
Определите под какой буквой находится правильный ответ по положению дроби на цифровой прямой.



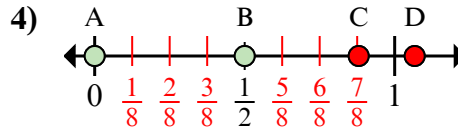
- 1a) Какая буква наиболее точно показывает  $\frac{1}{2}$ ?  
1b) Какая буква наиболее точно показывает  $\frac{2}{2}$ ?



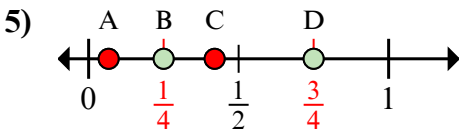
- 2a) Какая буква наиболее точно показывает  $\frac{4}{4}$ ?  
2b) Какая буква наиболее точно показывает  $\frac{2}{4}$ ?



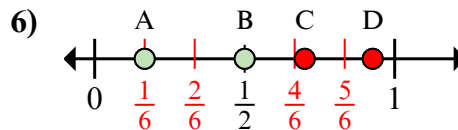
- 3a) Какая буква наиболее точно показывает  $\frac{0}{3}$ ?  
3b) Какая буква наиболее точно показывает  $\frac{1}{3}$ ?



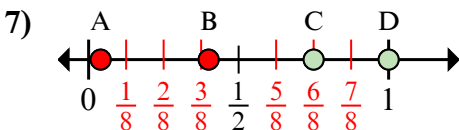
- 4a) Какая буква наиболее точно показывает  $\frac{0}{8}$ ?  
4b) Какая буква наиболее точно показывает  $\frac{4}{8}$ ?



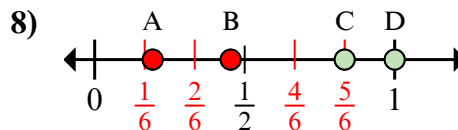
- 5a) Какая буква наиболее точно показывает  $\frac{3}{4}$ ?  
5b) Какая буква наиболее точно показывает  $\frac{1}{4}$ ?



- 6a) Какая буква наиболее точно показывает  $\frac{3}{6}$ ?  
6b) Какая буква наиболее точно показывает  $\frac{1}{6}$ ?



- 7a) Какая буква наиболее точно показывает  $\frac{6}{8}$ ?  
7b) Какая буква наиболее точно показывает  $\frac{8}{8}$ ?



- 8a) Какая буква наиболее точно показывает  $\frac{5}{6}$ ?  
8b) Какая буква наиболее точно показывает  $\frac{6}{6}$ ?

Ответы

1a. B

1b. D

2a. D

2b. B

3a. A

3b. B

4a. A

4b. B

5a. D

5b. B

6a. B

6b. A

7a. C

7b. D

8a. C

8b. D