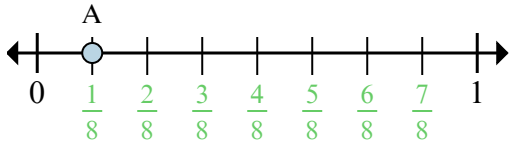
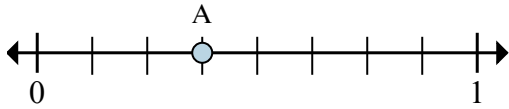




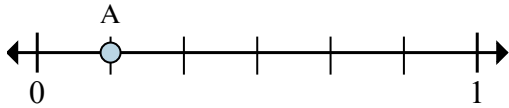
Определите под какой буквой находится верное расположение дроби.



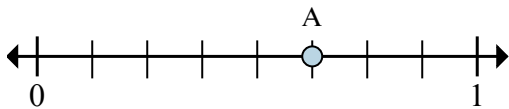
- обр)** На сколько частей разделена данная числовая прямая?
обр) Каково местоположение А (написанного как дробь)?



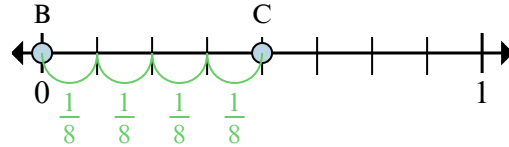
- 1a)** На сколько частей разделена данная числовая прямая?
1b) Каково местоположение А (написанного как дробь)?



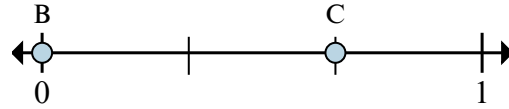
- 3a)** На сколько частей разделена данная числовая прямая?
3b) Каково местоположение А (написанного как дробь)?



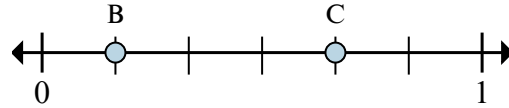
- 5a)** На сколько частей разделена данная числовая прямая?
5b) Каково местоположение А (написанного как дробь)?



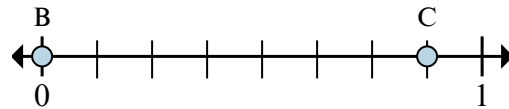
- обр)** Каково значение 1 на числовой прямой, написанного как дробь?
обр) Каково расстояние на числовой прямой между В и С is (написанного как дробь)?



- 2a)** Каково значение 0 на числовой прямой, написанного как дробь?
2b) Каково расстояние на числовой прямой между В и С is (написанного как дробь)?



- 4a)** Каково значение 1 на числовой прямой, написанного как дробь?
4b) Каково расстояние на числовой прямой между В и С is (написанного как дробь)?



- 6a)** Каково значение 0 на числовой прямой, написанного как дробь?
6b) Каково расстояние на числовой прямой между В и С is (написанного как дробь)?

Ответы

обр 8

обр 1/8

обр 8/8

обр 4/8

1a. _____

1b. _____

2a. _____

2b. _____

3a. _____

3b. _____

4a. _____

4b. _____

5a. _____

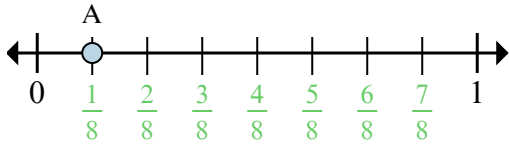
5b. _____

6a. _____

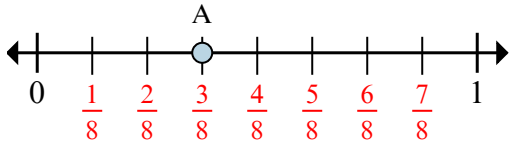
6b. _____



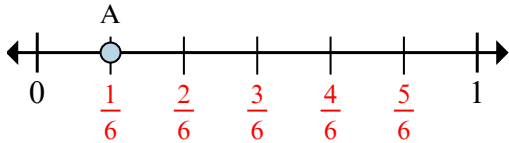
Определите под какой буквой находится верное расположение дроби.



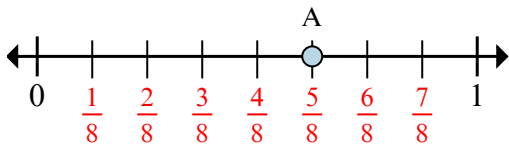
- обр)** На сколько частей разделена данная числовая прямая?
обр) Каково местоположение А (написанного как дробь)?



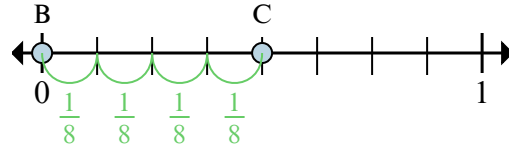
- 1a)** На сколько частей разделена данная числовая прямая?
1b) Каково местоположение А (написанного как дробь)?



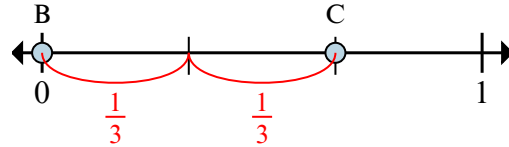
- 3a)** На сколько частей разделена данная числовая прямая?
3b) Каково местоположение А (написанного как дробь)?



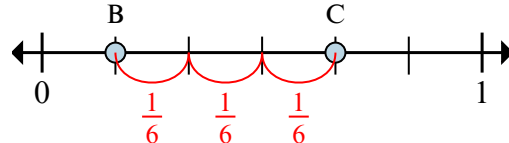
- 5a)** На сколько частей разделена данная числовая прямая?
5b) Каково местоположение А (написанного как дробь)?



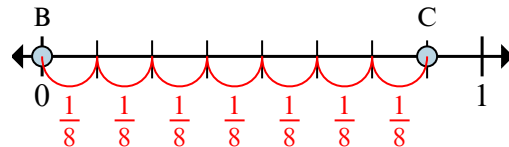
- обр)** Каково значение 1 на числовой прямой, написанного как дробь?
обр) Каково расстояние на числовой прямой между В и С is (написанного как дробь)?



- 2a)** Каково значение 0 на числовой прямой, написанного как дробь?
2b) Каково расстояние на числовой прямой между В и С is (написанного как дробь)?



- 4a)** Каково значение 1 на числовой прямой, написанного как дробь?
4b) Каково расстояние на числовой прямой между В и С is (написанного как дробь)?



- 6a)** Каково значение 0 на числовой прямой, написанного как дробь?
6b) Каково расстояние на числовой прямой между В и С is (написанного как дробь)?

Ответы

обр 8

обр 1/8

обр 8/8

обр 4/8

1a. 8

1b. 3/8

2a. 0/3

2b. 2/3

3a. 6

3b. 1/6

4a. 6/6

4b. 3/6

5a. 8

5b. 5/8

6a. 0/8

6b. 7/8