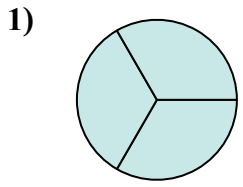


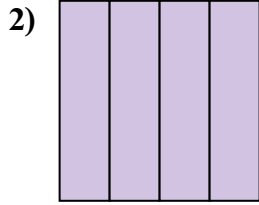


Определите под какой буквой находятся соответствующие дроби.

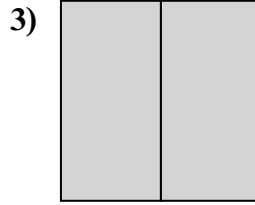
ОТВЕТЫ



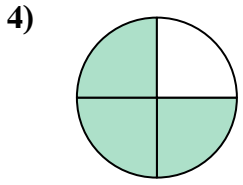
- A. одна треть
- B. три четвертых
- C. одна вторая



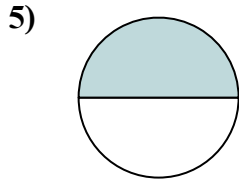
- A. одна четвертая
- B. две четвертых
- C. четыре четвертых



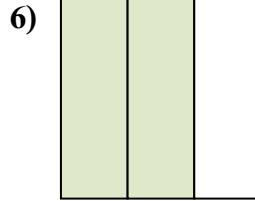
- A. две половины
- B. одна треть
- C. три четвертых



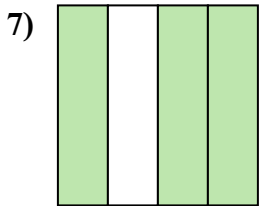
- A. две половины
- B. две третьих
- C. три четвертых



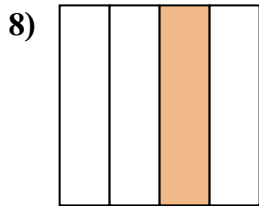
- A. половина
- B. две трети
- C. три четвертых



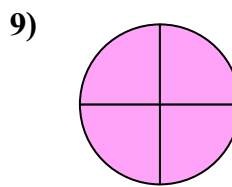
- A. две третьих
- B. три четвертых
- C. одна третья



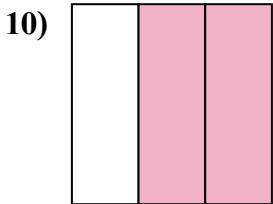
- A. одна четвертая
- B. четыре четверти
- C. три четверти



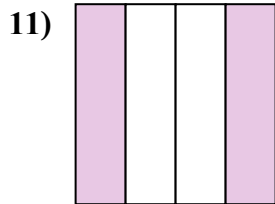
- A. две трети
- B. одна вторая
- C. одна четверть



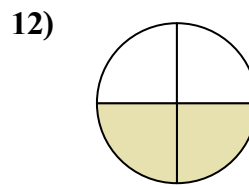
- A. четыре четверти
- B. половина
- C. одна треть



- A. две трети
- B. две вторых
- C. три четвертых



- A. две четверти
- B. две вторых
- C. одна четвертая



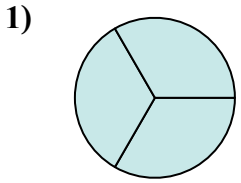
- A. одна треть
- B. две третьих
- C. две четверти

- 1. _____
- 2. _____
- 3. _____
- 4. _____
- 5. _____
- 6. _____
- 7. _____
- 8. _____
- 9. _____
- 10. _____
- 11. _____
- 12. _____

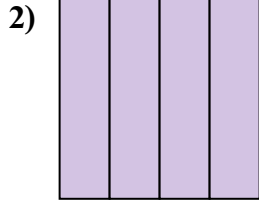


Определите под какой буквой находятся соответствующие дроби.

ОТВЕТЫ



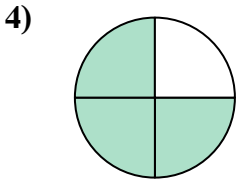
- A. одна треть
- В. три четвертых
- С. одна вторая



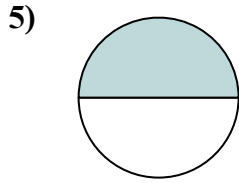
- A. одна четвертая
- В. две четвертых
- С. четыре четвертых



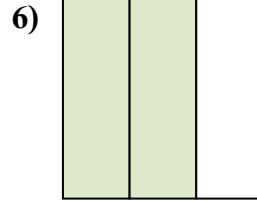
- A. две половины
- В. одна треть
- С. три четвертых



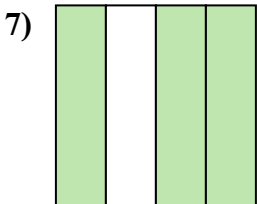
- A. две половины
- В. две третих
- С. три четвертых



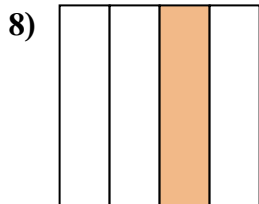
- A. половина
- В. две трети
- С. три четвертых



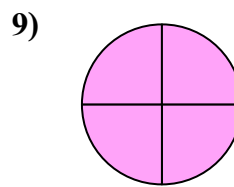
- A. две третих
- В. три четвертых
- С. одна третья



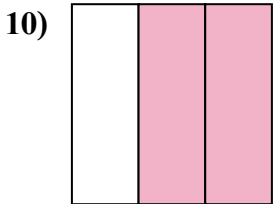
- A. одна четвертая
- В. четыре четверти
- С. три четверти



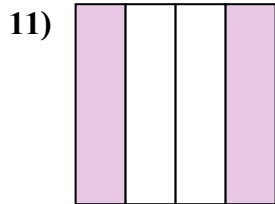
- A. две трети
- В. одна вторая
- С. одна четверть



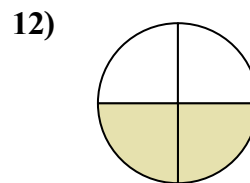
- A. четыре четверти
- В. половина
- С. одна треть



- A. две трети
- В. две вторых
- С. три четвертых



- A. две четверти
- В. две вторых
- С. одна четвертая



- A. одна треть
- В. две третих
- С. две четверти

- 1. В
- 2. С
- 3. А
- 4. С
- 5. А
- 6. А
- 7. С
- 8. С
- 9. А
- 10. А
- 11. А
- 12. С