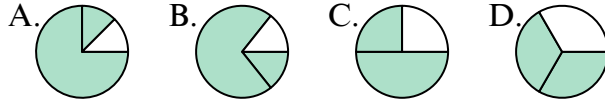




Определите под какой буквой находятся соответствующие дроби.

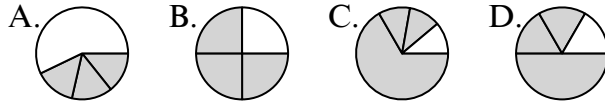
**ОТВЕТЫ**

1) Под какой буквой выражена  $\frac{2}{3}$ ?



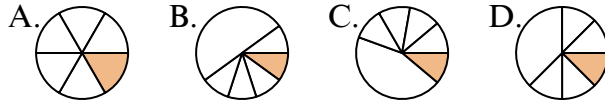
1. \_\_\_\_\_

2) Под какой буквой выражена  $\frac{3}{4}$ ?



2. \_\_\_\_\_

3) Под какой буквой выражена  $\frac{1}{6}$ ?



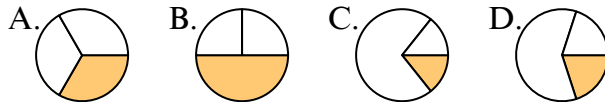
4. \_\_\_\_\_

4) Под какой буквой выражена  $\frac{7}{8}$ ?



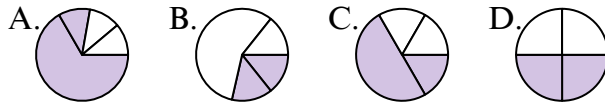
5. \_\_\_\_\_

5) Под какой буквой выражена  $\frac{1}{3}$ ?



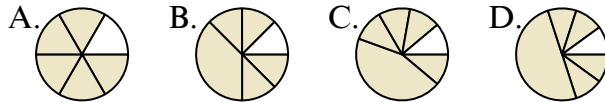
7. \_\_\_\_\_

6) Под какой буквой выражена  $\frac{2}{4}$ ?



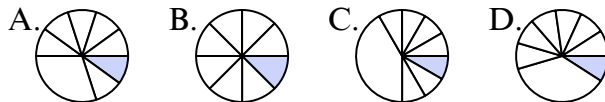
9. \_\_\_\_\_

7) Под какой буквой выражена  $\frac{5}{6}$ ?



10. \_\_\_\_\_

8) Под какой буквой выражена  $\frac{1}{8}$ ?

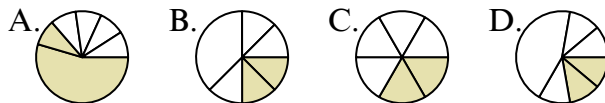


12. \_\_\_\_\_

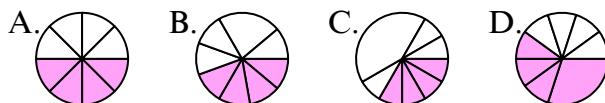
9) Под какой буквой выражена  $\frac{1}{4}$ ?



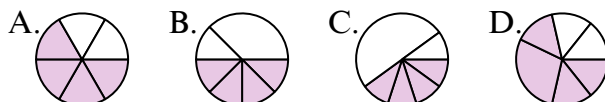
10) Под какой буквой выражена  $\frac{2}{6}$ ?



11) Под какой буквой выражена  $\frac{4}{8}$ ?


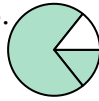
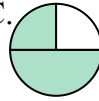
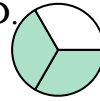


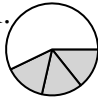
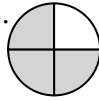

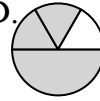
12) Под какой буквой выражена  $\frac{4}{6}$ ?

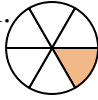

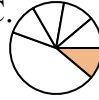
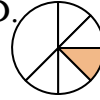


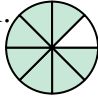

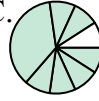




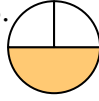
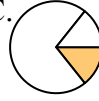

Определите под какой буквой находятся соответствующие дроби.


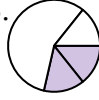
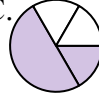
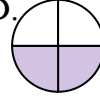
1) Под какой буквой выражена  $\frac{2}{3}$ ? A.  B.  C.  D. 

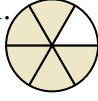
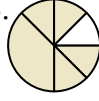


2) Под какой буквой выражена  $\frac{3}{4}$ ? A.  B.  C.  D. 

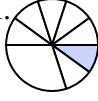
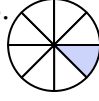
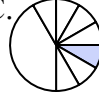
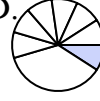
3) Под какой буквой выражена  $\frac{1}{6}$ ? A.  B.  C.  D. 



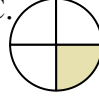

4) Под какой буквой выражена  $\frac{7}{8}$ ? A.  B.  C.  D. 


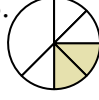


5) Под какой буквой выражена  $\frac{1}{3}$ ? A.  B.  C.  D. 

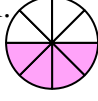

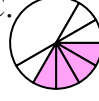
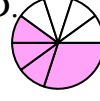
6) Под какой буквой выражена  $\frac{2}{4}$ ? A.  B.  C.  D. 





7) Под какой буквой выражена  $\frac{5}{6}$ ? A.  B.  C.  D. 

8) Под какой буквой выражена  $\frac{1}{8}$ ? A.  B.  C.  D. 

9) Под какой буквой выражена  $\frac{1}{4}$ ? A.  B.  C.  D. 

10) Под какой буквой выражена  $\frac{2}{6}$ ? A.  B.  C.  D. 

11) Под какой буквой выражена  $\frac{4}{8}$ ? A.  B.  C.  D. 

12) Под какой буквой выражена  $\frac{4}{6}$ ? A.  B.  C.  D. 

**ОТВЕТЫ**

1.     **D**
2.     **B**
3.     **A**
4.     **A**
5.     **A**
6.     **D**
7.     **A**
8.     **B**
9.     **C**
10.     **C**
11.     **A**
12.     **A**