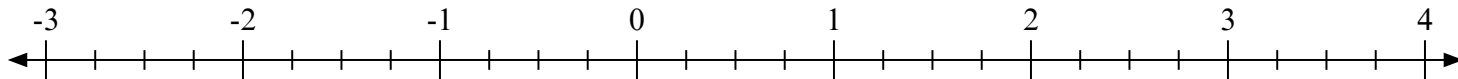
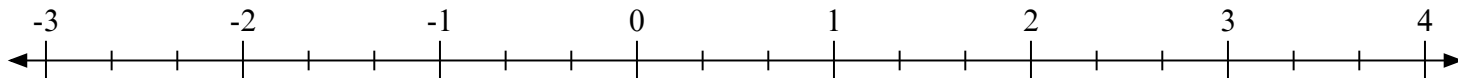
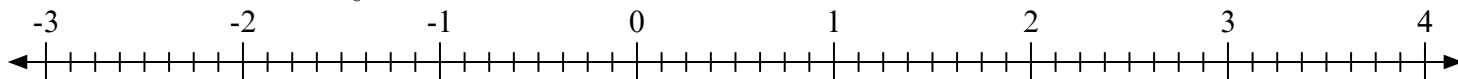
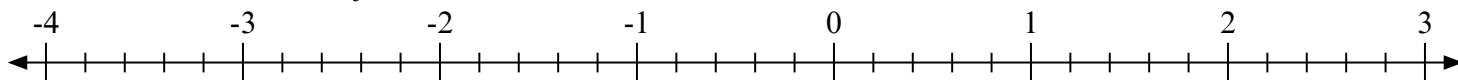
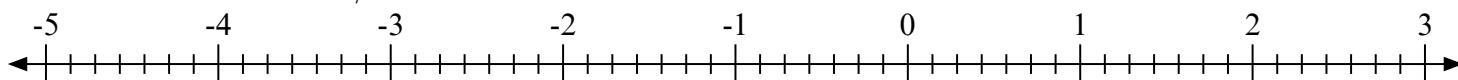
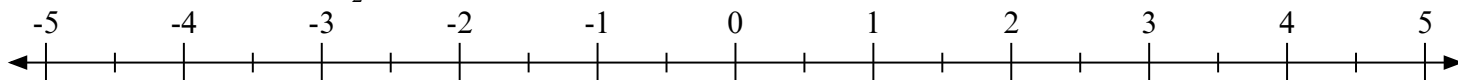
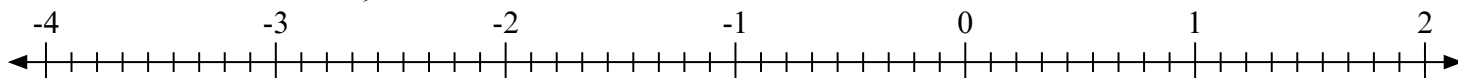
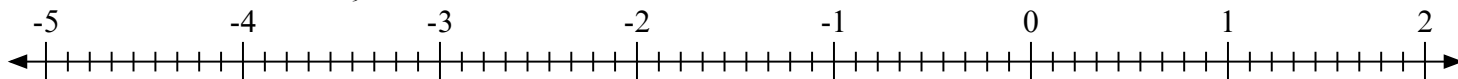
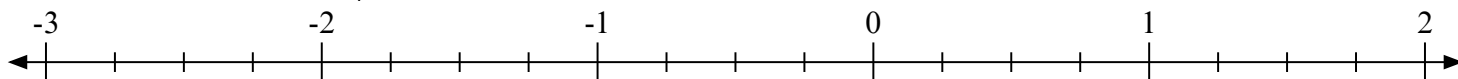


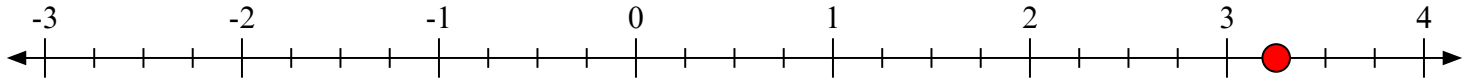
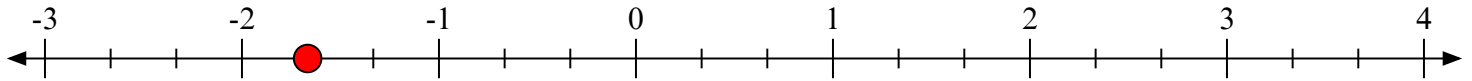
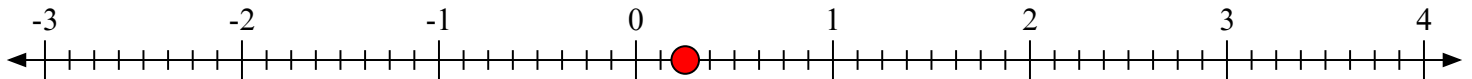
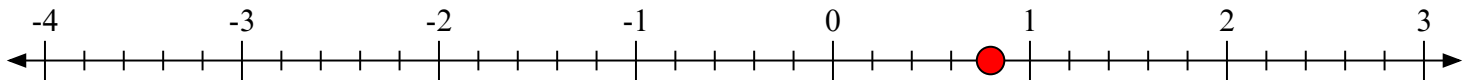
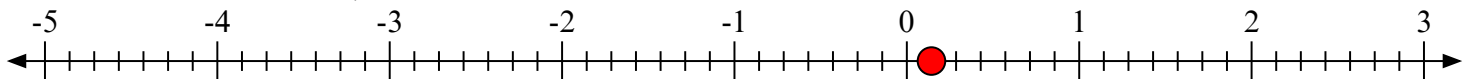
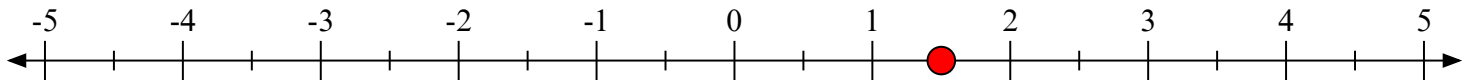
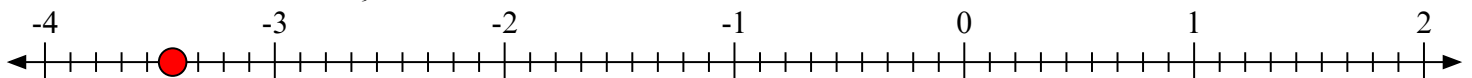
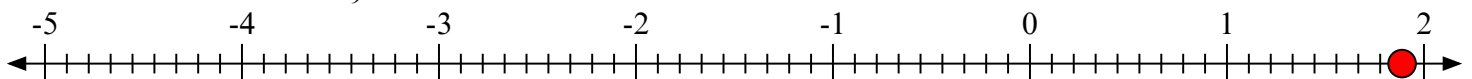


Отметьте каждое местоположение.

1) Отметьте положение  $3\frac{1}{4}$ 2) Отметьте положение  $-1\frac{2}{3}$ 3) Отметьте положение  $0\frac{2}{8}$ 4) Отметьте положение  $0\frac{4}{5}$ 5) Отметьте положение  $0\frac{1}{7}$ 6) Отметьте положение  $1\frac{1}{2}$ 7) Отметьте положение  $-3\frac{4}{9}$ 8) Отметьте положение  $1\frac{8}{9}$ 9) Отметьте положение  $0\frac{3}{4}$ 



Отметьте каждое местоположение.

1) Отметьте положение  $3\frac{1}{4}$ 2) Отметьте положение  $-1\frac{2}{3}$ 3) Отметьте положение  $0\frac{2}{8}$ 4) Отметьте положение  $0\frac{4}{5}$ 5) Отметьте положение  $0\frac{1}{7}$ 6) Отметьте положение  $1\frac{1}{2}$ 7) Отметьте положение  $-3\frac{4}{9}$ 8) Отметьте положение  $1\frac{8}{9}$ 9) Отметьте положение  $0\frac{3}{4}$ 