





Решите каждую задачу.

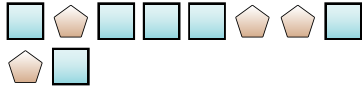
обр) Выразите звезды в виде дроби от всего множества.




1) Выразите круги в виде дроби от всего множества.



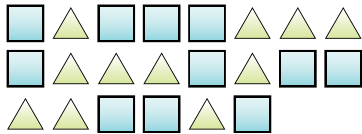
2) Выразите квадраты в виде дроби от всего множества.



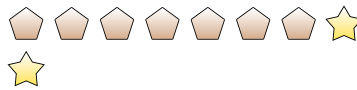
3) Выразите сердечки в виде дроби от всего множества.



4) Выразите треугольники в виде дроби от всего множества.



5) Выразите звезды в виде дроби от всего множества.



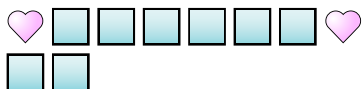
6) Выразите звезды в виде дроби от всего множества.



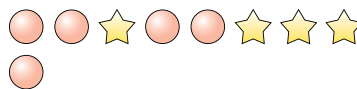
7) Выразите пятиугольники в виде дроби от всего множества.




8) Выразите квадраты в виде дроби от всего множества.



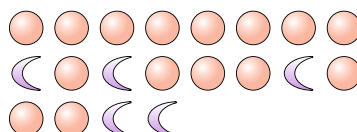
9) Выразите круги в виде дроби от всего множества.



10) Выразите треугольники в виде дроби от всего множества.



11) Выразите месяцы в виде дроби от всего множества.

Ответы

обр.  $\frac{12}{16}$

1.  $\frac{2}{13}$

2.  $\frac{6}{10}$

3.  $\frac{13}{21}$

4.  $\frac{11}{22}$

5.  $\frac{2}{9}$

6.  $\frac{4}{7}$

7.  $\frac{4}{17}$

8.  $\frac{8}{10}$

9.  $\frac{5}{9}$

10.  $\frac{4}{18}$

11.  $\frac{5}{20}$