

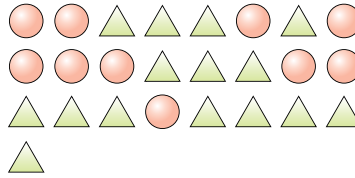


Решите каждую задачу.

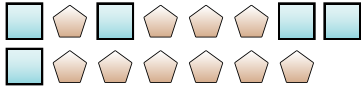
обр) Выразите звезды в виде дроби от всего множества.



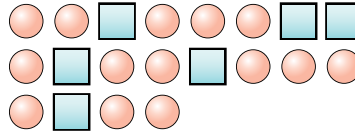
1) Выразите круги в виде дроби от всего множества.



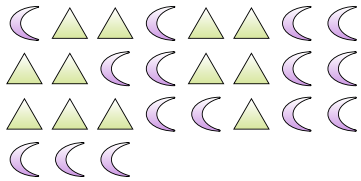
2) Выразите квадраты в виде дроби от всего множества.



3) Выразите круги в виде дроби от всего множества.



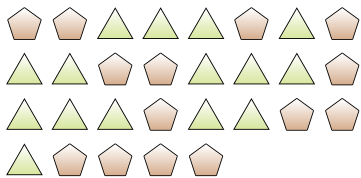
4) Выразите треугольники в виде дроби от всего множества.



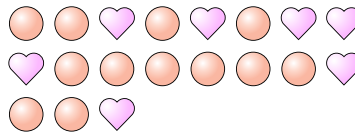
5) Выразите звезды в виде дроби от всего множества.



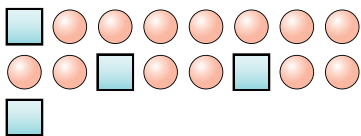
6) Выразите треугольники в виде дроби от всего множества.



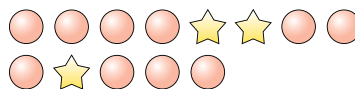
7) Выразите сердечки в виде дроби от всего множества.



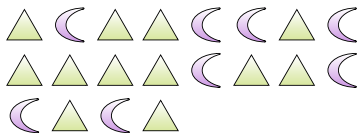
8) Выразите квадраты в виде дроби от всего множества.



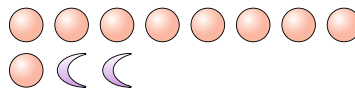
9) Выразите круги в виде дроби от всего множества.



10) Выразите треугольники в виде дроби от всего множества.



11) Выразите месяца в виде дроби от всего множества.

**Ответы**обр. $\frac{10}{21}$

1. _____

2. _____

3. _____

4. _____

5. _____

6. _____

7. _____

8. _____

9. _____

10. _____

11. _____

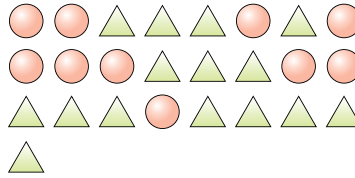


Решите каждую задачу.

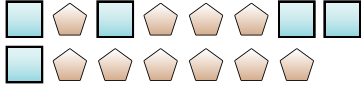
обр) Выразите звезды в виде дроби от всего множества.



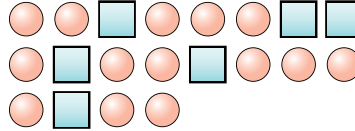
1) Выразите круги в виде дроби от всего множества.



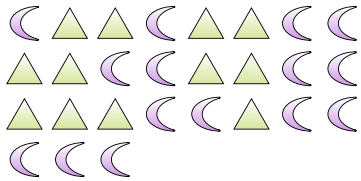
2) Выразите квадраты в виде дроби от всего множества.



3) Выразите круги в виде дроби от всего множества.



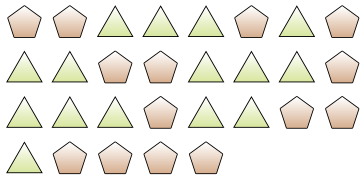
4) Выразите треугольники в виде дроби от всего множества.



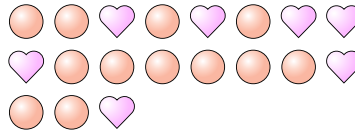
5) Выразите звезды в виде дроби от всего множества.



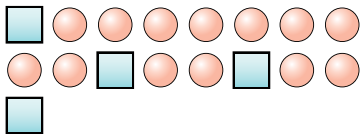
6) Выразите треугольники в виде дроби от всего множества.



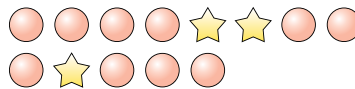
7) Выразите сердечки в виде дроби от всего множества.



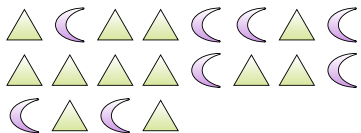
8) Выразите квадраты в виде дроби от всего множества.



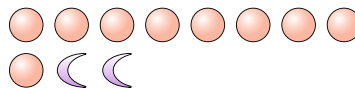
9) Выразите круги в виде дроби от всего множества.



10) Выразите треугольники в виде дроби от всего множества.



11) Выразите месяцы в виде дроби от всего множества.



Ответы

обр. $\frac{10}{21}$

1. $\frac{10}{25}$

2. $\frac{5}{15}$

3. $\frac{14}{20}$

4. $\frac{12}{27}$

5. $\frac{14}{17}$

6. $\frac{15}{29}$

7. $\frac{7}{19}$

8. $\frac{4}{17}$

9. $\frac{10}{13}$

10. $\frac{12}{20}$

11. $\frac{2}{11}$