



Решите задачу, путем обозначения дробей. Первая для Вас обозначена.

Ответы

1) $3 : \frac{1}{6} = ?$ Это то же самое, что: Сколько $\frac{1}{6}$ в 3 целых?

1 целых	1 целых	1 целых
<input type="checkbox"/>	<input type="checkbox"/>	<input type="checkbox"/>

2) $2 : \frac{1}{4} =$

1 целых	1 целых
<input type="checkbox"/>	<input type="checkbox"/>

3) $5 : \frac{1}{6} =$

1 целых	1 целых	1 целых	1 целых	1 целых
<input type="checkbox"/>	<input type="checkbox"/>	<input type="checkbox"/>	<input type="checkbox"/>	<input type="checkbox"/>

4) $6 : \frac{1}{6} =$

1 целых	1 целых	1 целых	1 целых	1 целых	1 целых
<input type="checkbox"/>	<input type="checkbox"/>	<input type="checkbox"/>	<input type="checkbox"/>	<input type="checkbox"/>	<input type="checkbox"/>

5) $4 : \frac{1}{4} =$

1 целых	1 целых	1 целых	1 целых
<input type="checkbox"/>	<input type="checkbox"/>	<input type="checkbox"/>	<input type="checkbox"/>

6) $5 : \frac{1}{2} =$

1 целых	1 целых	1 целых	1 целых	1 целых
<input type="checkbox"/>	<input type="checkbox"/>	<input type="checkbox"/>	<input type="checkbox"/>	<input type="checkbox"/>

7) $6 : \frac{1}{3} =$

1 целых	1 целых	1 целых	1 целых	1 целых	1 целых
<input type="checkbox"/>	<input type="checkbox"/>	<input type="checkbox"/>	<input type="checkbox"/>	<input type="checkbox"/>	<input type="checkbox"/>

8) $4 : \frac{1}{2} =$

1 целых	1 целых	1 целых	1 целых
<input type="checkbox"/>	<input type="checkbox"/>	<input type="checkbox"/>	<input type="checkbox"/>

9) $6 : \frac{1}{4} =$

1 целых	1 целых	1 целых	1 целых	1 целых	1 целых
<input type="checkbox"/>	<input type="checkbox"/>	<input type="checkbox"/>	<input type="checkbox"/>	<input type="checkbox"/>	<input type="checkbox"/>

10) $3 : \frac{1}{4} =$

1 целых	1 целых	1 целых
<input type="checkbox"/>	<input type="checkbox"/>	<input type="checkbox"/>

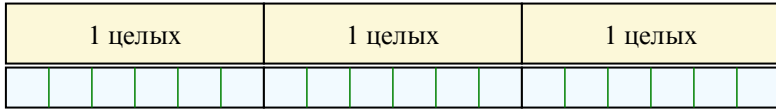
1. _____
2. _____
3. _____
4. _____
5. _____
6. _____
7. _____
8. _____
9. _____
10. _____



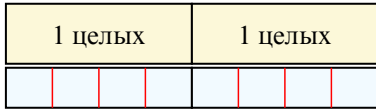
Решите задачу, путем обозначения дробей. Первая для Вас обозначена.

Ответы

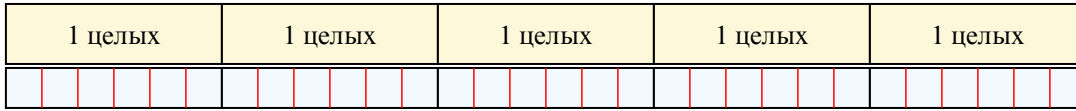
1) $3 : \frac{1}{6} = ?$ Это то же самое, что: Сколько $\frac{1}{6}$ в 3 целых?



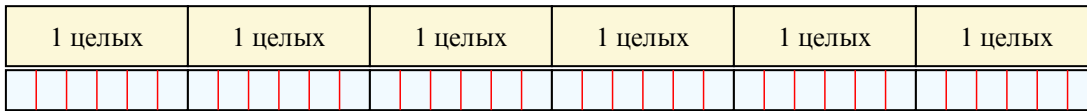
2) $2 : \frac{1}{4} = ?$ Это то же самое, что: Сколько $\frac{1}{4}$ в 2 целых?




3) $5 : \frac{1}{6} = ?$ Это то же самое, что: Сколько $\frac{1}{6}$ в 5 целых?



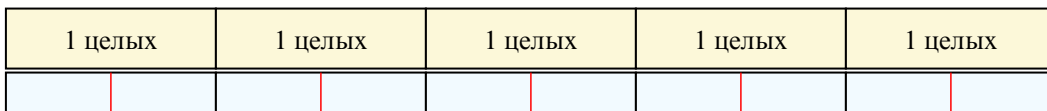
4) $6 : \frac{1}{6} = ?$ Это то же самое, что: Сколько $\frac{1}{6}$ в 6 целых?



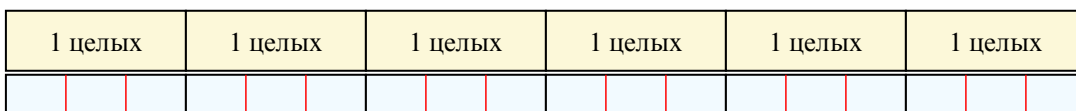
5) $4 : \frac{1}{4} = ?$ Это то же самое, что: Сколько $\frac{1}{4}$ в 4 целых?




6) $5 : \frac{1}{2} = ?$ Это то же самое, что: Сколько $\frac{1}{2}$ в 5 целых?



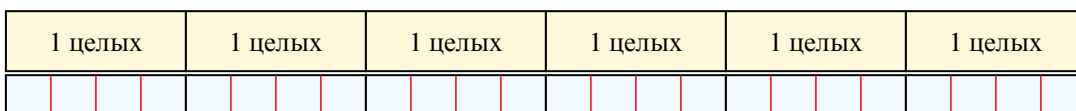
7) $6 : \frac{1}{3} = ?$ Это то же самое, что: Сколько $\frac{1}{3}$ в 6 целых?



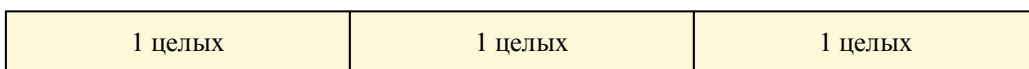
8) $4 : \frac{1}{2} = ?$ Это то же самое, что: Сколько $\frac{1}{2}$ в 4 целых?



9) $6 : \frac{1}{4} = ?$ Это то же самое, что: Сколько $\frac{1}{4}$ в 6 целых?



10) $3 : \frac{1}{4} = ?$ Это то же самое, что: Сколько $\frac{1}{4}$ в 3 целых?



1. 18
2. 8
3. 30
4. 36
5. 16
6. 10
7. 18
8. 8
9. 24
10. 12