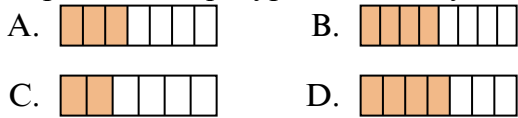




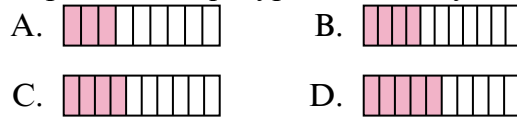
Определите под какой буквой находится правильный ответ.

Ответы

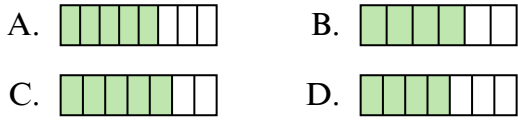
1) Какая из представленных ниже закрашенных фигур соответствует $3/7$?



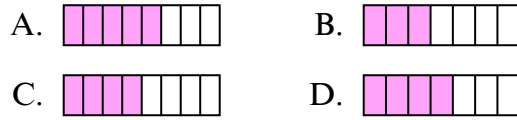
2) Какая из представленных ниже закрашенных фигур соответствует $4/10$?



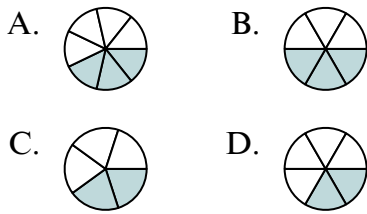
3) Какая из представленных ниже закрашенных фигур соответствует $5/7$?



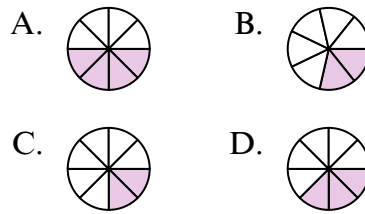
4) Какая из представленных ниже закрашенных фигур соответствует $4/8$?



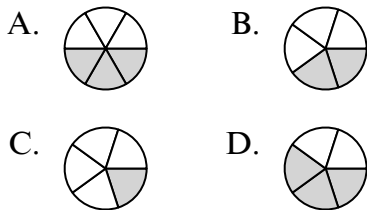
5) Какая из представленных ниже закрашенных фигур соответствует $2/6$?



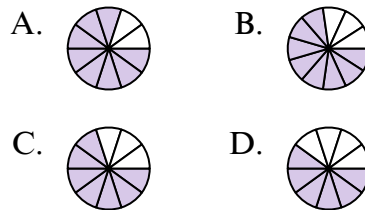
6) Какая из представленных ниже закрашенных фигур соответствует $3/8$?



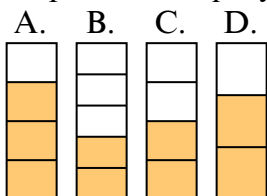
7) Какая из представленных ниже закрашенных фигур соответствует $2/5$?



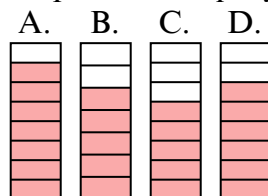
8) Какая из представленных ниже закрашенных фигур соответствует $7/10$?



9) Какая из представленных ниже закрашенных фигур соответствует $2/4$?



10) Какая из представленных ниже закрашенных фигур соответствует $6/8$?

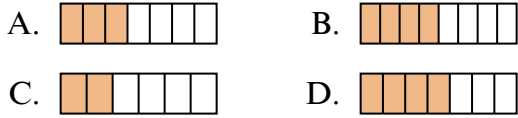


1. _____
2. _____
3. _____
4. _____
5. _____
6. _____
7. _____
8. _____
9. _____
10. _____

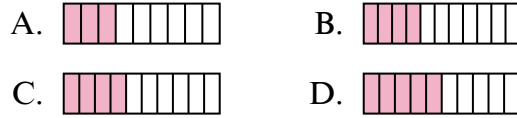


Определите под какой буквой находится правильный ответ.

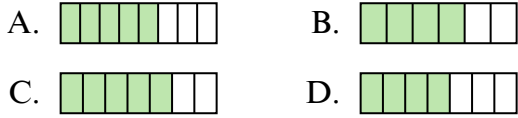
1) Какая из представленных ниже закрашенных фигур соответствует $3/7$?



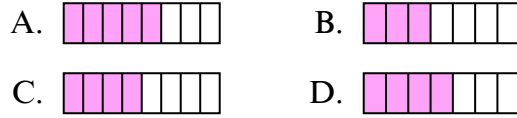
2) Какая из представленных ниже закрашенных фигур соответствует $4/10$?



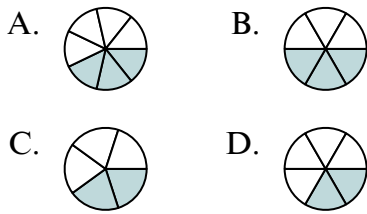
3) Какая из представленных ниже закрашенных фигур соответствует $5/7$?



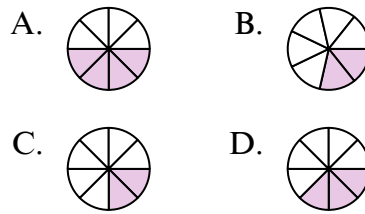
4) Какая из представленных ниже закрашенных фигур соответствует $4/8$?



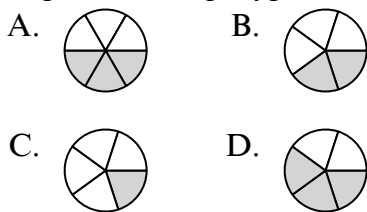
5) Какая из представленных ниже закрашенных фигур соответствует $2/6$?



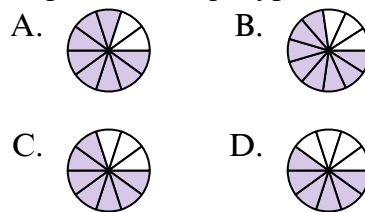
6) Какая из представленных ниже закрашенных фигур соответствует $3/8$?



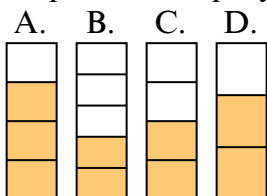
7) Какая из представленных ниже закрашенных фигур соответствует $2/5$?



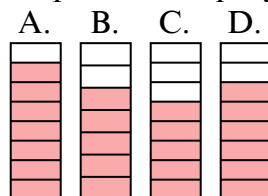
8) Какая из представленных ниже закрашенных фигур соответствует $7/10$?



9) Какая из представленных ниже закрашенных фигур соответствует $2/4$?



10) Какая из представленных ниже закрашенных фигур соответствует $6/8$?



ОТВЕТЫ

1. **A**
2. **C**
3. **C**
4. **C**
5. **D**
6. **D**
7. **B**
8. **C**
9. **C**
10. **D**