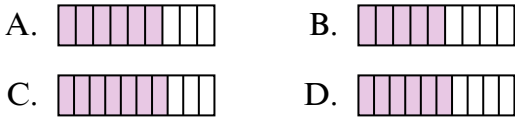


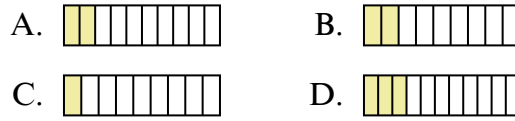


Определите под какой буквой находится правильный ответ.

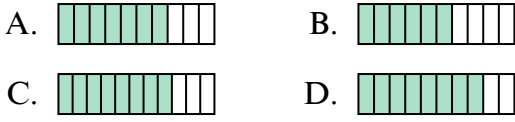
1) Какая из представленных ниже закрашенных фигур соответствует $6/10$?



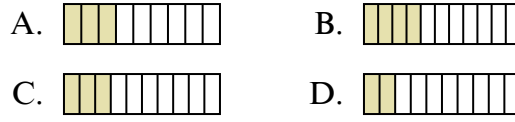
2) Какая из представленных ниже закрашенных фигур соответствует $2/10$?



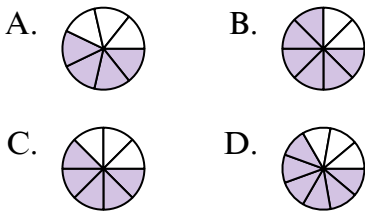
3) Какая из представленных ниже закрашенных фигур соответствует $7/10$?



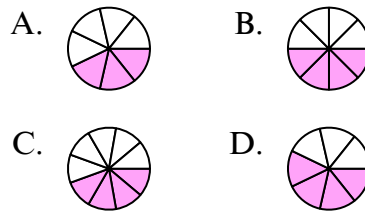
4) Какая из представленных ниже закрашенных фигур соответствует $3/10$?



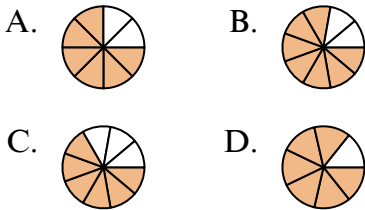
5) Какая из представленных ниже закрашенных фигур соответствует $5/8$?



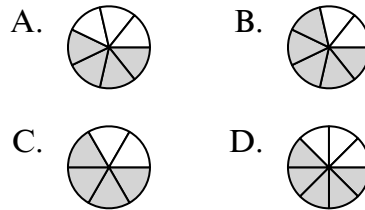
6) Какая из представленных ниже закрашенных фигур соответствует $4/8$?



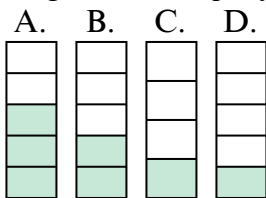
7) Какая из представленных ниже закрашенных фигур соответствует $6/8$?



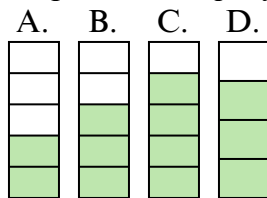
8) Какая из представленных ниже закрашенных фигур соответствует $4/7$?



9) Какая из представленных ниже закрашенных фигур соответствует $2/5$?



10) Какая из представленных ниже закрашенных фигур соответствует $3/5$?



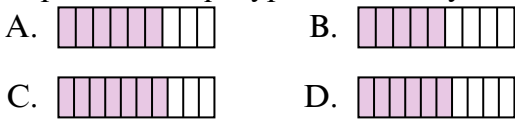
ОТВЕТЫ

1. _____
2. _____
3. _____
4. _____
5. _____
6. _____
7. _____
8. _____
9. _____
10. _____

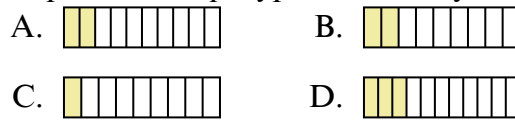


Определите под какой буквой находится правильный ответ.

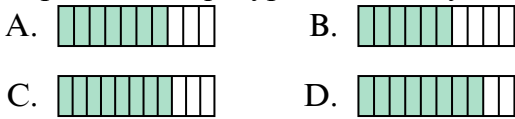
1) Какая из представленных ниже закрашенных фигур соответствует $6/10$?



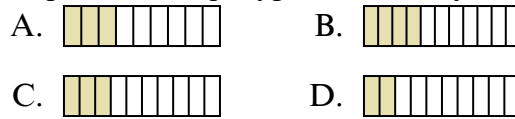
2) Какая из представленных ниже закрашенных фигур соответствует $2/10$?



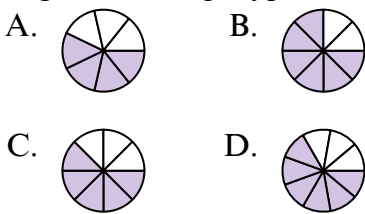
3) Какая из представленных ниже закрашенных фигур соответствует $7/10$?



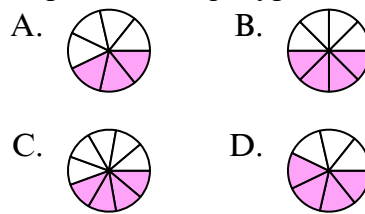
4) Какая из представленных ниже закрашенных фигур соответствует $3/10$?



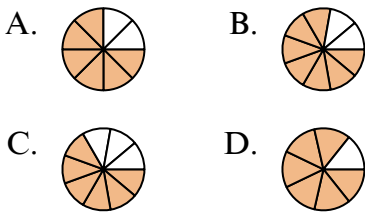
5) Какая из представленных ниже закрашенных фигур соответствует $5/8$?



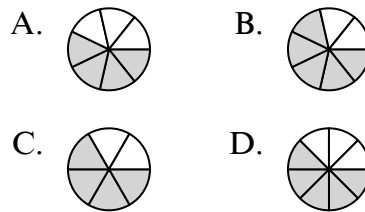
6) Какая из представленных ниже закрашенных фигур соответствует $4/8$?



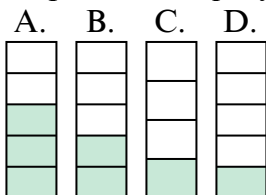
7) Какая из представленных ниже закрашенных фигур соответствует $6/8$?



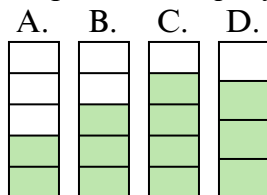
8) Какая из представленных ниже закрашенных фигур соответствует $4/7$?



9) Какая из представленных ниже закрашенных фигур соответствует $2/5$?



10) Какая из представленных ниже закрашенных фигур соответствует $3/5$?



ОТВЕТЫ

1. **D**
2. **A**
3. **A**
4. **C**
5. **C**
6. **B**
7. **A**
8. **A**
9. **B**
10. **B**