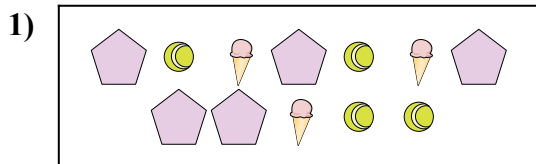

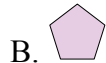




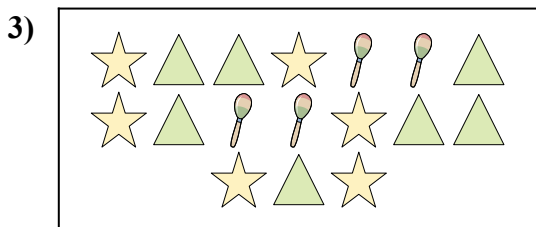
Сравните количество фигур.




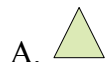
Имеется меньше или ?




Имеется больше или ?



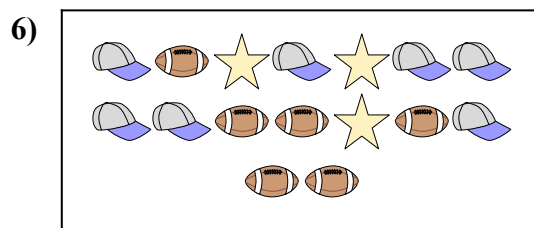
Имеется меньше или ?



Имеется меньше или ?



Имеется меньше или ?



Имеется меньше или ?



ОТВЕТЫ

1. _____

2. _____

3. _____

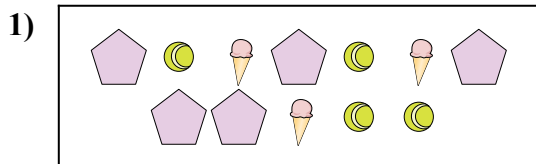
4. _____

5. _____


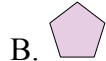
6. _____



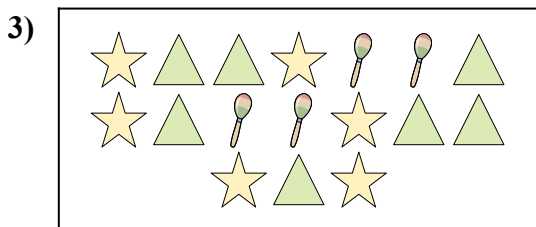
Сравните количество фигур.




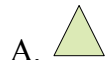
Имеется меньше или ?




Имеется больше или ?



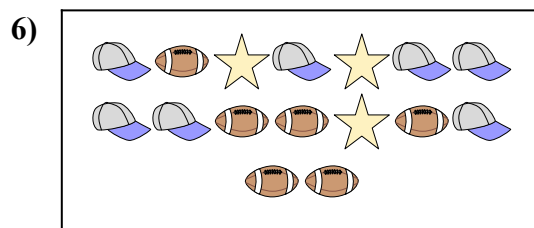
Имеется меньше или ?



Имеется меньше или ?



Имеется меньше или ?



Имеется меньше или ?



ОТВЕТЫ

1. **A**

2. **A**

3. **B**

4. **B**

5. **A**

6. **B**