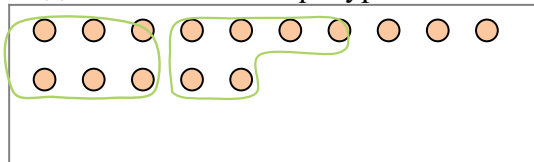


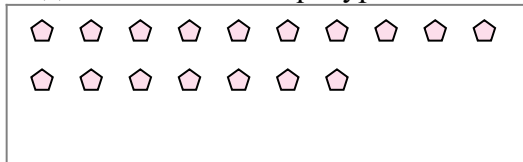


Используйте примеры, чтобы ответить на вопрос.

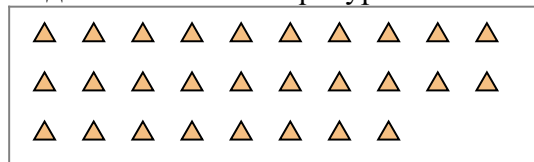
обр) Ниже находится 15 фигур(ы).  
Сколько групп по 6 можно из них выделить? Сколько фигур останется?



1) Ниже находится 17 фигур(ы).  
Сколько групп по 2 можно из них выделить? Сколько фигур останется?



2) Ниже находится 28 фигур(ы).  
Сколько групп по 2 можно из них выделить? Сколько фигур останется?




3) Ниже находится 11 фигур(ы).  
Сколько групп по 9 можно из них выделить? Сколько фигур останется?



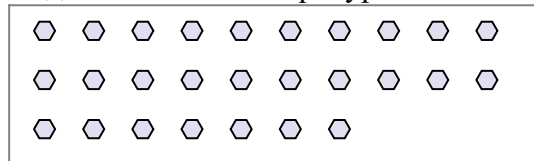
4) Ниже находится 22 фигур(ы).  
Сколько групп по 6 можно из них выделить? Сколько фигур останется?



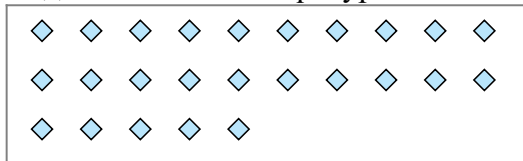
5) Ниже находится 24 фигур(ы).  
Сколько групп по 5 можно из них выделить? Сколько фигур останется?



6) Ниже находится 27 фигур(ы).  
Сколько групп по 2 можно из них выделить? Сколько фигур останется?



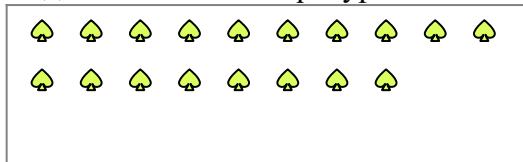
7) Ниже находится 25 фигур(ы).  
Сколько групп по 4 можно из них выделить? Сколько фигур останется?



8) Ниже находится 28 фигур(ы).  
Сколько групп по 4 можно из них выделить? Сколько фигур останется?



9) Ниже находится 18 фигур(ы).  
Сколько групп по 2 можно из них выделить? Сколько фигур останется?



**Ответы**

обр. 2

обр. 3

1a. \_\_\_\_\_

1b. \_\_\_\_\_

2a. \_\_\_\_\_

2b. \_\_\_\_\_

3a. \_\_\_\_\_

3b. \_\_\_\_\_

4a. \_\_\_\_\_

4b. \_\_\_\_\_

5a. \_\_\_\_\_

5b. \_\_\_\_\_

6a. \_\_\_\_\_

6b. \_\_\_\_\_

7a. \_\_\_\_\_

7b. \_\_\_\_\_

8a. \_\_\_\_\_

8b. \_\_\_\_\_

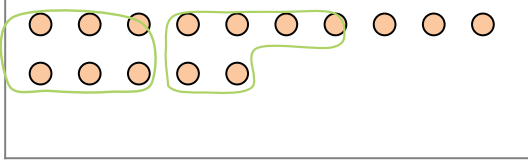
9a. \_\_\_\_\_

9b. \_\_\_\_\_

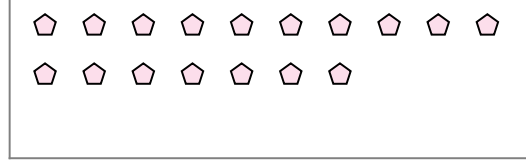


Используйте примеры, чтобы ответить на вопрос.


обр) Ниже находится 15 фигур(ы).  
Сколько групп по 6 можно из них выделить? Сколько фигур останется?




1) Ниже находится 17 фигур(ы).  
Сколько групп по 2 можно из них выделить? Сколько фигур останется?



2) Ниже находится 28 фигур(ы).  
Сколько групп по 2 можно из них выделить? Сколько фигур останется?




3) Ниже находится 11 фигур(ы).  
Сколько групп по 9 можно из них выделить? Сколько фигур останется?



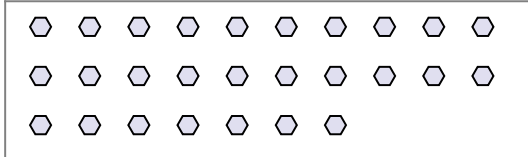
4) Ниже находится 22 фигур(ы).  
Сколько групп по 6 можно из них выделить? Сколько фигур останется?



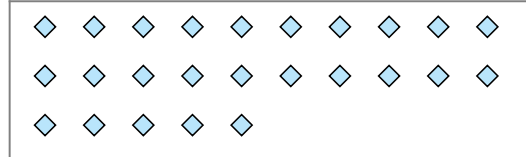
5) Ниже находится 24 фигур(ы).  
Сколько групп по 5 можно из них выделить? Сколько фигур останется?



6) Ниже находится 27 фигур(ы).  
Сколько групп по 2 можно из них выделить? Сколько фигур останется?




7) Ниже находится 25 фигур(ы).  
Сколько групп по 4 можно из них выделить? Сколько фигур останется?



8) Ниже находится 28 фигур(ы).  
Сколько групп по 4 можно из них выделить? Сколько фигур останется?



9) Ниже находится 18 фигур(ы).  
Сколько групп по 2 можно из них выделить? Сколько фигур останется?



**Ответы**

обр. 2

1) обр. 3

2) 1a. 8

1b. 1

2a. 14

2b. 0

3a. 1

3b. 2

4a. 3

4b. 4

5a. 4

5b. 4

6a. 13

6b. 1

7a. 6

7b. 1

8a. 7

8b. 0

9a. 9

9b. 0