

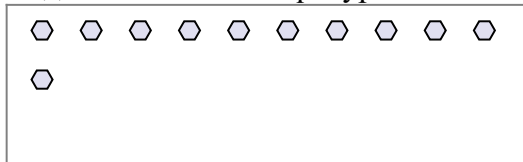


Используйте примеры, чтобы ответить на вопрос.

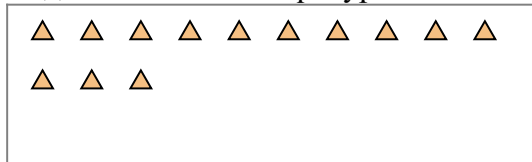
обр) Ниже находится 15 фигур(ы).  
Сколько групп по 6 можно из них выделить? Сколько фигур останется?



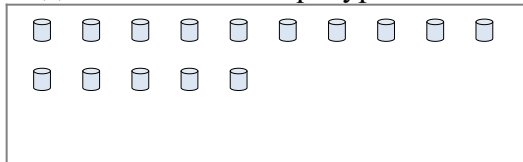
1) Ниже находится 11 фигур(ы).  
Сколько групп по 4 можно из них выделить? Сколько фигур останется?




2) Ниже находится 13 фигур(ы).  
Сколько групп по 5 можно из них выделить? Сколько фигур останется?



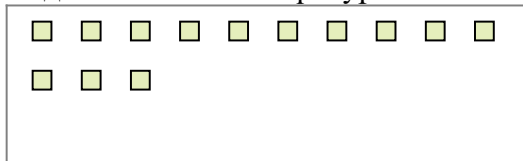
3) Ниже находится 15 фигур(ы).  
Сколько групп по 6 можно из них выделить? Сколько фигур останется?




4) Ниже находится 13 фигур(ы).  
Сколько групп по 2 можно из них выделить? Сколько фигур останется?



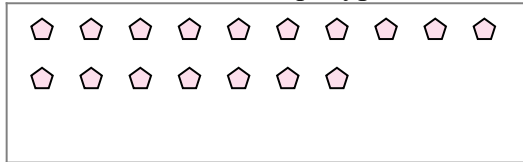
5) Ниже находится 13 фигур(ы).  
Сколько групп по 5 можно из них выделить? Сколько фигур останется?



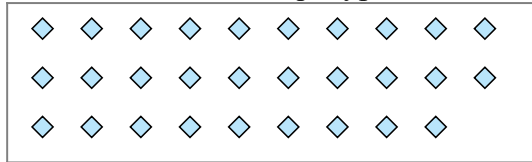
6) Ниже находится 30 фигур(ы).  
Сколько групп по 5 можно из них выделить? Сколько фигур останется?



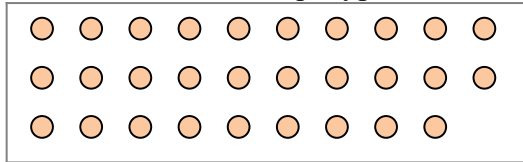
7) Ниже находится 17 фигур(ы).  
Сколько групп по 7 можно из них выделить? Сколько фигур останется?



8) Ниже находится 29 фигур(ы).  
Сколько групп по 9 можно из них выделить? Сколько фигур останется?



9) Ниже находится 29 фигур(ы).  
Сколько групп по 9 можно из них выделить? Сколько фигур останется?



**ОТВЕТЫ**

обр. 2

обр. 3

1a. \_\_\_\_\_

1b. \_\_\_\_\_

2a. \_\_\_\_\_

2b. \_\_\_\_\_

3a. \_\_\_\_\_

3b. \_\_\_\_\_

4a. \_\_\_\_\_

4b. \_\_\_\_\_

5a. \_\_\_\_\_

5b. \_\_\_\_\_

6a. \_\_\_\_\_

6b. \_\_\_\_\_

7a. \_\_\_\_\_

7b. \_\_\_\_\_

8a. \_\_\_\_\_

8b. \_\_\_\_\_

9a. \_\_\_\_\_

9b. \_\_\_\_\_

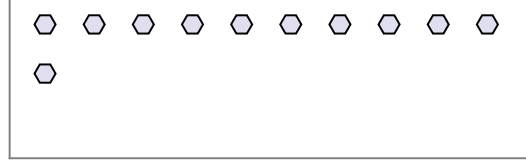


Используйте примеры, чтобы ответить на вопрос.

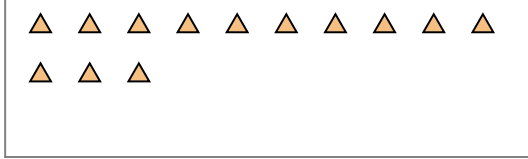
обр) Ниже находится 15 фигур(ы).  
Сколько групп по 6 можно из них выделить? Сколько фигур останется?



1) Ниже находится 11 фигур(ы).  
Сколько групп по 4 можно из них выделить? Сколько фигур останется?




2) Ниже находится 13 фигур(ы).  
Сколько групп по 5 можно из них выделить? Сколько фигур останется?



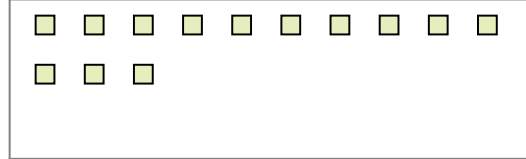
3) Ниже находится 15 фигур(ы).  
Сколько групп по 6 можно из них выделить? Сколько фигур останется?




4) Ниже находится 13 фигур(ы).  
Сколько групп по 2 можно из них выделить? Сколько фигур останется?



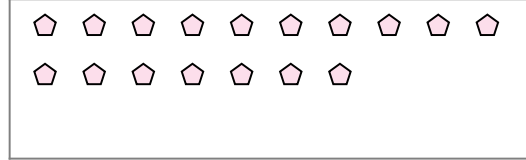
5) Ниже находится 13 фигур(ы).  
Сколько групп по 5 можно из них выделить? Сколько фигур останется?



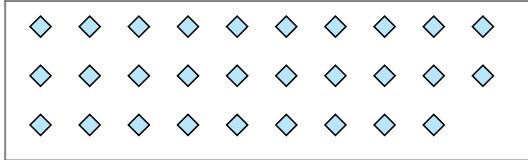
6) Ниже находится 30 фигур(ы).  
Сколько групп по 5 можно из них выделить? Сколько фигур останется?



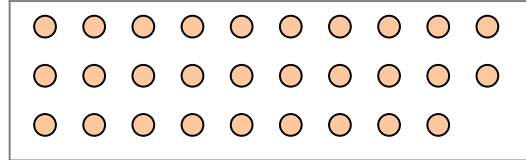
7) Ниже находится 17 фигур(ы).  
Сколько групп по 7 можно из них выделить? Сколько фигур останется?



8) Ниже находится 29 фигур(ы).  
Сколько групп по 9 можно из них выделить? Сколько фигур останется?



9) Ниже находится 29 фигур(ы).  
Сколько групп по 9 можно из них выделить? Сколько фигур останется?



Ответы

обр. 2

обр. 3

1a. 2

1b. 3

2a. 2

2b. 3

3a. 2

3b. 3

4a. 6

4b. 1

5a. 2

5b. 3

6a. 6

6b. 0

7a. 2

7b. 3

8a. 3

8b. 2

9a. 3

9b. 2