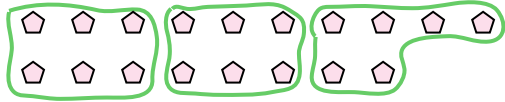





Используйте фигуры, чтобы получить ответ на вопрос.

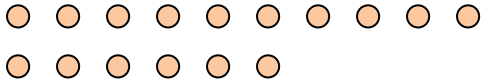
обр) Сколько групп по 6 вы можете выделить из 18 данных фигур?



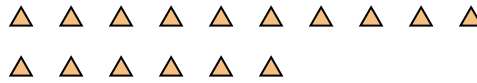
1) Сколько групп по 8 вы можете выделить из 40 данных фигур?




2) Сколько групп по 8 вы можете выделить из 16 данных фигур?



3) Сколько групп по 8 вы можете выделить из 16 данных фигур?



4) Сколько групп по 7 вы можете выделить из 35 данных фигур?



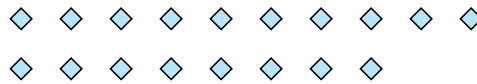
5) Сколько групп по 3 вы можете выделить из 21 данных фигур?



6) Сколько групп по 7 вы можете выделить из 14 данных фигур?




7) Сколько групп по 6 вы можете выделить из 18 данных фигур?



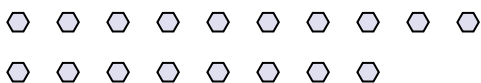
8) Сколько групп по 7 вы можете выделить из 14 данных фигур?



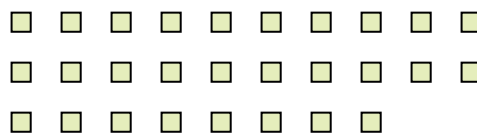
9) Сколько групп по 8 вы можете выделить из 24 данных фигур?



10) Сколько групп по 3 вы можете выделить из 18 данных фигур?



11) Сколько групп по 4 вы можете выделить из 28 данных фигур?



Ответы

обр.	<u>3</u>
1.	<u>5</u>
2.	<u>2</u>
3.	<u>2</u>
4.	<u>5</u>
5.	<u>7</u>
6.	<u>2</u>
7.	<u>3</u>
8.	<u>2</u>
9.	<u>3</u>
10.	<u>6</u>
11.	<u>7</u>