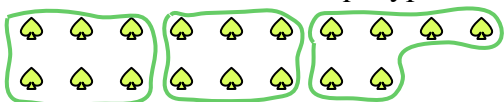




Используйте фигуры, чтобы получить ответ на вопрос.

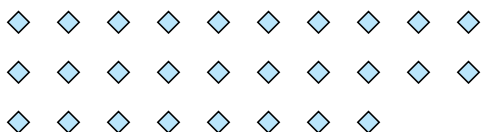
Ех) Сколько групп по 6 вы можете выделить из 18 данных фигур?




1) Сколько групп по 4 вы можете выделить из 40 данных фигур?



2) Сколько групп по 4 вы можете выделить из 28 данных фигур?



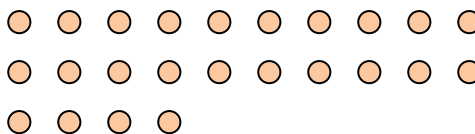
3) Сколько групп по 4 вы можете выделить из 36 данных фигур?



4) Сколько групп по 3 вы можете выделить из 9 данных фигур?




5) Сколько групп по 8 вы можете выделить из 24 данных фигур?



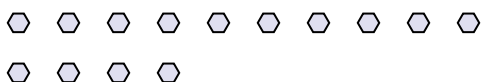
6) Сколько групп по 3 вы можете выделить из 15 данных фигур?




7) Сколько групп по 7 вы можете выделить из 28 данных фигур?



8) Сколько групп по 7 вы можете выделить из 14 данных фигур?



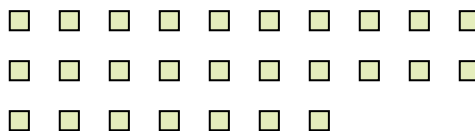
9) Сколько групп по 3 вы можете выделить из 39 данных фигур?



10) Сколько групп по 7 вы можете выделить из 14 данных фигур?



11) Сколько групп по 9 вы можете выделить из 27 данных фигур?



**Ответы**

Ех. 3

1. \_\_\_\_\_

2. \_\_\_\_\_

3. \_\_\_\_\_

4. \_\_\_\_\_

5. \_\_\_\_\_

6. \_\_\_\_\_

7. \_\_\_\_\_

8. \_\_\_\_\_

9. \_\_\_\_\_

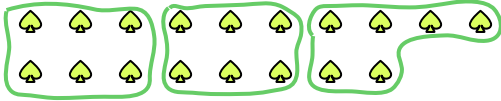
10. \_\_\_\_\_

11. \_\_\_\_\_



Используйте фигуры, чтобы получить ответ на вопрос.

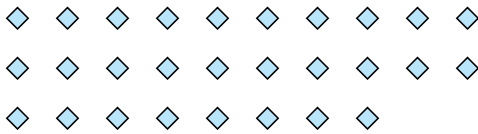
Ех) Сколько групп по 6 вы можете выделить из 18 данных фигур?




1) Сколько групп по 4 вы можете выделить из 40 данных фигур?



2) Сколько групп по 4 вы можете выделить из 28 данных фигур?



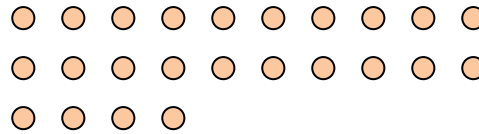
3) Сколько групп по 4 вы можете выделить из 36 данных фигур?



4) Сколько групп по 3 вы можете выделить из 9 данных фигур?




5) Сколько групп по 8 вы можете выделить из 24 данных фигур?



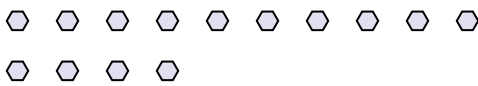
6) Сколько групп по 3 вы можете выделить из 15 данных фигур?




7) Сколько групп по 7 вы можете выделить из 28 данных фигур?



8) Сколько групп по 7 вы можете выделить из 14 данных фигур?



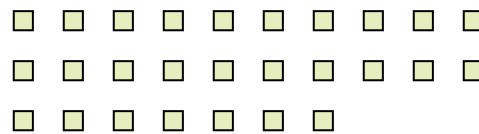
9) Сколько групп по 3 вы можете выделить из 39 данных фигур?



10) Сколько групп по 7 вы можете выделить из 14 данных фигур?



11) Сколько групп по 9 вы можете выделить из 27 данных фигур?



Ответы

Ех. 3

1. 10

2. 7

3. 9

4. 3

5. 3

6. 5

7. 4

8. 2

9. 13

10. 2

11. 3