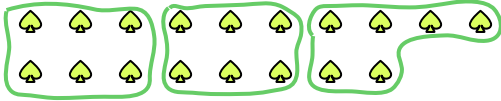






Используйте фигуры, чтобы получить ответ на вопрос.

Ех) Сколько групп по 6 вы можете выделить из 18 данных фигур?



1) Сколько групп по 2 вы можете выделить из 4 данных фигур?



2) Сколько групп по 9 вы можете выделить из 27 данных фигур?



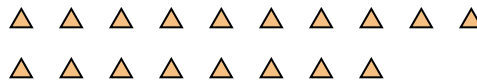
3) Сколько групп по 7 вы можете выделить из 35 данных фигур?



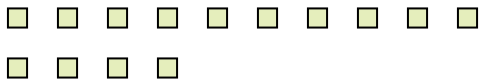
4) Сколько групп по 6 вы можете выделить из 12 данных фигур?



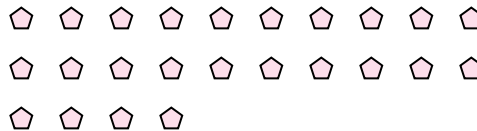
5) Сколько групп по 9 вы можете выделить из 18 данных фигур?



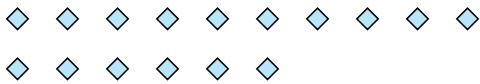
6) Сколько групп по 7 вы можете выделить из 14 данных фигур?



7) Сколько групп по 8 вы можете выделить из 24 данных фигур?



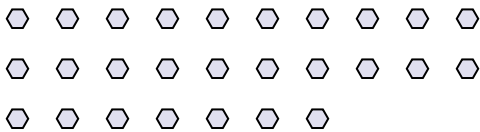
8) Сколько групп по 8 вы можете выделить из 16 данных фигур?



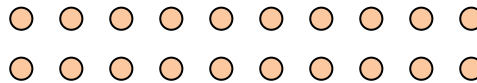
9) Сколько групп по 6 вы можете выделить из 30 данных фигур?



10) Сколько групп по 9 вы можете выделить из 27 данных фигур?



11) Сколько групп по 2 вы можете выделить из 20 данных фигур?



Ответы

Ех. 3

1. 2

2. 3

3. 5

4. 2

5. 2

6. 2

7. 3

8. 2

9. 5

10. 3

11. 10