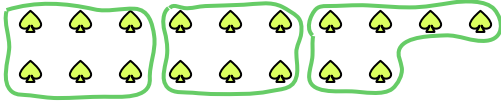





Используйте фигуры, чтобы получить ответ на вопрос.

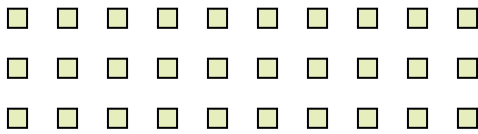
Ex) Сколько групп по 6 вы можете выделить из 18 данных фигур?



1) Сколько групп по 8 вы можете выделить из 40 данных фигур?



2) Сколько групп по 6 вы можете выделить из 30 данных фигур?



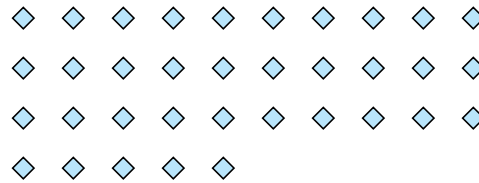
3) Сколько групп по 9 вы можете выделить из 27 данных фигур?



4) Сколько групп по 2 вы можете выделить из 10 данных фигур?



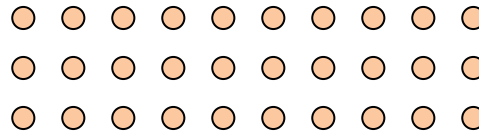
5) Сколько групп по 7 вы можете выделить из 35 данных фигур?



6) Сколько групп по 8 вы можете выделить из 40 данных фигур?




7) Сколько групп по 6 вы можете выделить из 30 данных фигур?



8) Сколько групп по 2 вы можете выделить из 10 данных фигур?



9) Сколько групп по 8 вы можете выделить из 24 данных фигур?



10) Сколько групп по 8 вы можете выделить из 16 данных фигур?



11) Сколько групп по 9 вы можете выделить из 27 данных фигур?



Ответы

Ex. 3

1. _____

2. _____

3. _____

4. _____

5. _____

6. _____

7. _____

8. _____

9. _____

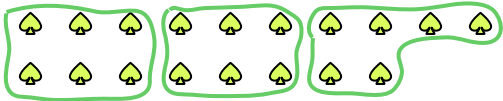
10. _____

11. _____




Используйте фигуры, чтобы получить ответ на вопрос.

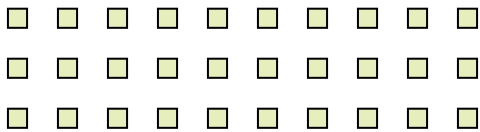
Ex) Сколько групп по 6 вы можете выделить из 18 данных фигур?



1) Сколько групп по 8 вы можете выделить из 40 данных фигур?



2) Сколько групп по 6 вы можете выделить из 30 данных фигур?



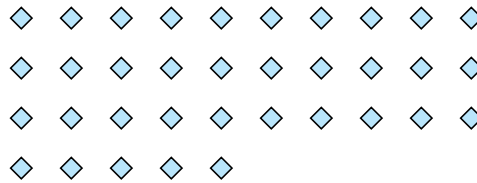
3) Сколько групп по 9 вы можете выделить из 27 данных фигур?



4) Сколько групп по 2 вы можете выделить из 10 данных фигур?



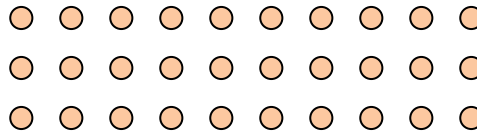
5) Сколько групп по 7 вы можете выделить из 35 данных фигур?



6) Сколько групп по 8 вы можете выделить из 40 данных фигур?




7) Сколько групп по 6 вы можете выделить из 30 данных фигур?



8) Сколько групп по 2 вы можете выделить из 10 данных фигур?



9) Сколько групп по 8 вы можете выделить из 24 данных фигур?



10) Сколько групп по 8 вы можете выделить из 16 данных фигур?



11) Сколько групп по 9 вы можете выделить из 27 данных фигур?



Ответы

Ex. 3

1. 5

2. 5

3. 3

4. 5

5. 5

6. 5

7. 5

8. 5

9. 3

10. 2

11. 3