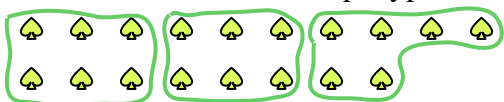




Используйте фигуры, чтобы получить ответ на вопрос.

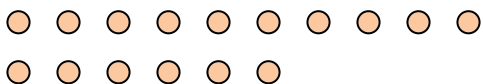
Ех) Сколько групп по 6 вы можете выделить из 18 данных фигур?



1) Сколько групп по 5 вы можете выделить из 20 данных фигур?




2) Сколько групп по 8 вы можете выделить из 16 данных фигур?



3) Сколько групп по 8 вы можете выделить из 16 данных фигур?




4) Сколько групп по 5 вы можете выделить из 25 данных фигур?



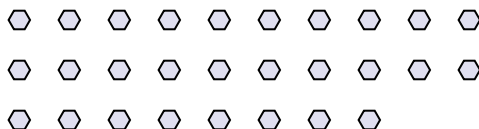
5) Сколько групп по 6 вы можете выделить из 18 данных фигур?



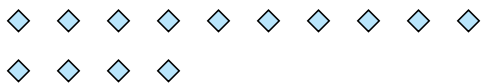
6) Сколько групп по 5 вы можете выделить из 40 данных фигур?




7) Сколько групп по 7 вы можете выделить из 28 данных фигур?




8) Сколько групп по 7 вы можете выделить из 14 данных фигур?



9) Сколько групп по 2 вы можете выделить из 24 данных фигур?



10) Сколько групп по 9 вы можете выделить из 36 данных фигур?



11) Сколько групп по 7 вы можете выделить из 35 данных фигур?



Ответы

Ех. 3

1. _____

2. _____

3. _____

4. _____

5. _____

6. _____

7. _____

8. _____

9. _____

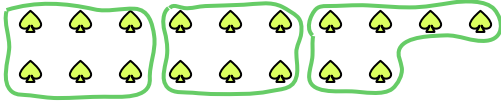
10. _____

11. _____



Используйте фигуры, чтобы получить ответ на вопрос.

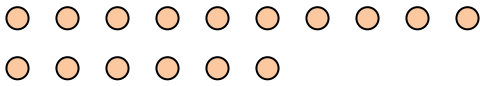
Ex) Сколько групп по 6 вы можете выделить из 18 данных фигур?




1) Сколько групп по 5 вы можете выделить из 20 данных фигур?




2) Сколько групп по 8 вы можете выделить из 16 данных фигур?




3) Сколько групп по 8 вы можете выделить из 16 данных фигур?



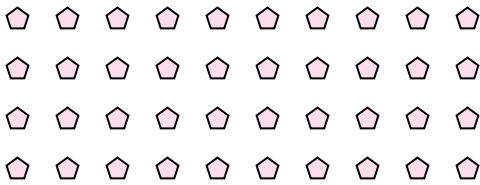
4) Сколько групп по 5 вы можете выделить из 25 данных фигур?



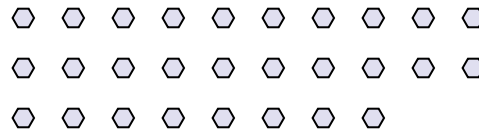
5) Сколько групп по 6 вы можете выделить из 18 данных фигур?



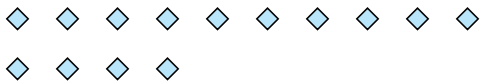
6) Сколько групп по 5 вы можете выделить из 40 данных фигур?



7) Сколько групп по 7 вы можете выделить из 28 данных фигур?




8) Сколько групп по 7 вы можете выделить из 14 данных фигур?



9) Сколько групп по 2 вы можете выделить из 24 данных фигур?



10) Сколько групп по 9 вы можете выделить из 36 данных фигур?



11) Сколько групп по 7 вы можете выделить из 35 данных фигур?



Ответы

Ex. 3

1. 4

2. 2

3. 2

4. 5

5. 3

6. 8

7. 4

8. 2

9. 12

10. 4

11. 5