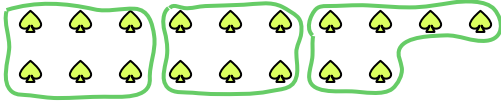





Используйте фигуры, чтобы получить ответ на вопрос.

Ех) Сколько групп по 6 вы можете выделить из 18 данных фигур?



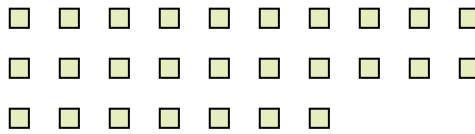
1) Сколько групп по 9 вы можете выделить из 36 данных фигур?



2) Сколько групп по 7 вы можете выделить из 14 данных фигур?



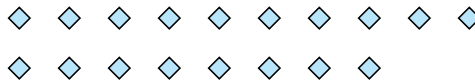
3) Сколько групп по 9 вы можете выделить из 27 данных фигур?




4) Сколько групп по 5 вы можете выделить из 40 данных фигур?




5) Сколько групп по 9 вы можете выделить из 18 данных фигур?



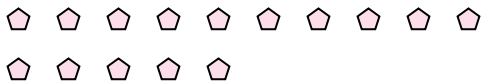
6) Сколько групп по 6 вы можете выделить из 24 данных фигур?



7) Сколько групп по 3 вы можете выделить из 27 данных фигур?



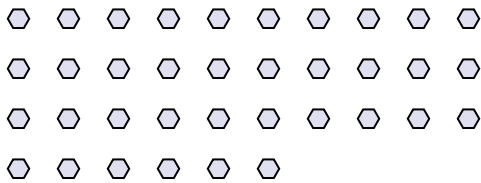
8) Сколько групп по 3 вы можете выделить из 15 данных фигур?



9) Сколько групп по 5 вы можете выделить из 25 данных фигур?



10) Сколько групп по 9 вы можете выделить из 36 данных фигур?



11) Сколько групп по 4 вы можете выделить из 24 данных фигур?



Ответы

Ех. 3

1. _____

2. _____

3. _____

4. _____

5. _____

6. _____

7. _____

8. _____

9. _____

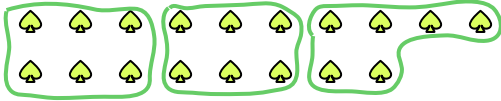
10. _____

11. _____




Используйте фигуры, чтобы получить ответ на вопрос.

Ех) Сколько групп по 6 вы можете выделить из 18 данных фигур?



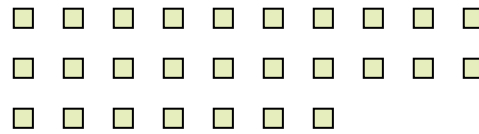
1) Сколько групп по 9 вы можете выделить из 36 данных фигур?



2) Сколько групп по 7 вы можете выделить из 14 данных фигур?



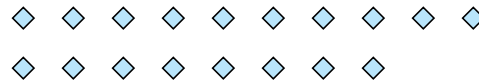
3) Сколько групп по 9 вы можете выделить из 27 данных фигур?




4) Сколько групп по 5 вы можете выделить из 40 данных фигур?




5) Сколько групп по 9 вы можете выделить из 18 данных фигур?



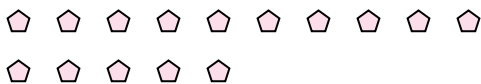
6) Сколько групп по 6 вы можете выделить из 24 данных фигур?



7) Сколько групп по 3 вы можете выделить из 27 данных фигур?



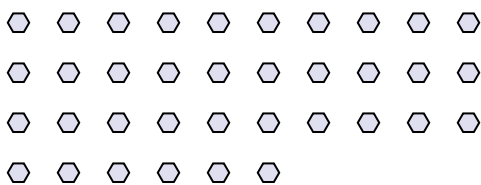
8) Сколько групп по 3 вы можете выделить из 15 данных фигур?



9) Сколько групп по 5 вы можете выделить из 25 данных фигур?



10) Сколько групп по 9 вы можете выделить из 36 данных фигур?



11) Сколько групп по 4 вы можете выделить из 24 данных фигур?



Ответы

Ex. 3

1. 4

2. 2

3. 3

4. 8

5. 2

6. 4

7. 9

8. 5

9. 5

10. 4

11. 6