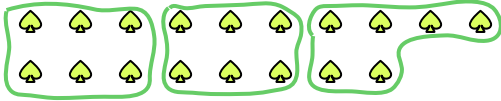







Используйте фигуры, чтобы получить ответ на вопрос.

Ex) Сколько групп по 6 вы можете выделить из 18 данных фигур?



1) Сколько групп по 5 вы можете выделить из 15 данных фигур?



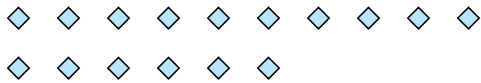
2) Сколько групп по 9 вы можете выделить из 27 данных фигур?



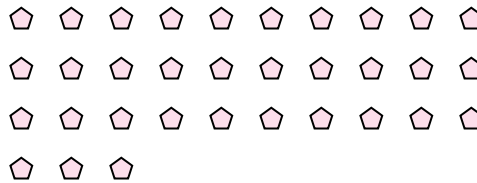
3) Сколько групп по 6 вы можете выделить из 18 данных фигур?




4) Сколько групп по 8 вы можете выделить из 16 данных фигур?



5) Сколько групп по 3 вы можете выделить из 33 данных фигур?



6) Сколько групп по 7 вы можете выделить из 28 данных фигур?



7) Сколько групп по 2 вы можете выделить из 40 данных фигур?




8) Сколько групп по 2 вы можете выделить из 12 данных фигур?



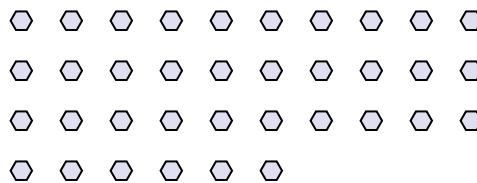
9) Сколько групп по 7 вы можете выделить из 14 данных фигур?



10) Сколько групп по 4 вы можете выделить из 40 данных фигур?



11) Сколько групп по 2 вы можете выделить из 36 данных фигур?



Ответы

Ex. 3

1. 3

2. 3

3. 3

4. 2

5. 11

6. 4

7. 20

8. 6

9. 2

10. 10

11. 18