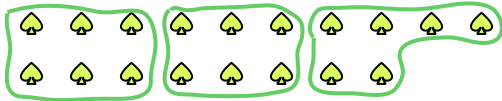






Используйте фигуры, чтобы получить ответ на вопрос.


Ex) Сколько групп по 6 вы можете выделить из 18 данных фигур?




1) Сколько групп по 6 вы можете выделить из 12 данных фигур?



2) Сколько групп по 6 вы можете выделить из 24 данных фигур?



3) Сколько групп по 7 вы можете выделить из 35 данных фигур?



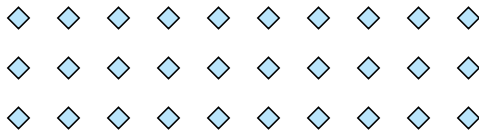
4) Сколько групп по 2 вы можете выделить из 16 данных фигур?



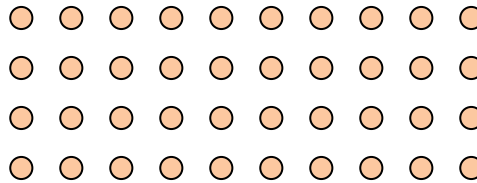
5) Сколько групп по 5 вы можете выделить из 15 данных фигур?



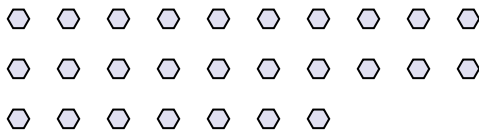
6) Сколько групп по 6 вы можете выделить из 30 данных фигур?



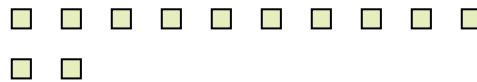
7) Сколько групп по 8 вы можете выделить из 40 данных фигур?



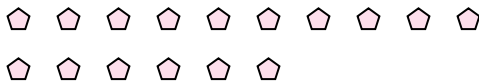
8) Сколько групп по 9 вы можете выделить из 27 данных фигур?




9) Сколько групп по 6 вы можете выделить из 12 данных фигур?



10) Сколько групп по 4 вы можете выделить из 16 данных фигур?



11) Сколько групп по 6 вы можете выделить из 30 данных фигур?



Ответы

Ex. 3

1. 2

2. 4

3. 5

4. 8

5. 3

6. 5

7. 5

8. 3

9. 2

10. 4

11. 5