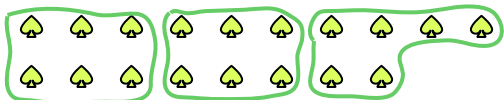





Используйте фигуры, чтобы получить ответ на вопрос.

Ex) Сколько групп по 6 вы можете выделить из 18 данных фигур?



1) Сколько групп по 2 вы можете выделить из 38 данных фигур?




2) Сколько групп по 6 вы можете выделить из 18 данных фигур?



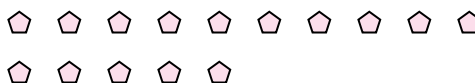
3) Сколько групп по 2 вы можете выделить из 14 данных фигур?




4) Сколько групп по 6 вы можете выделить из 36 данных фигур?



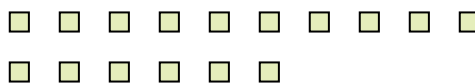
5) Сколько групп по 5 вы можете выделить из 15 данных фигур?




6) Сколько групп по 8 вы можете выделить из 32 данных фигур?



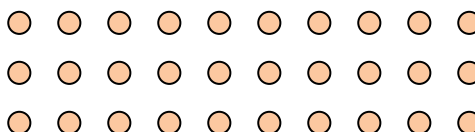
7) Сколько групп по 8 вы можете выделить из 16 данных фигур?




8) Сколько групп по 7 вы можете выделить из 21 данных фигур?



9) Сколько групп по 5 вы можете выделить из 30 данных фигур?



10) Сколько групп по 4 вы можете выделить из 36 данных фигур?



11) Сколько групп по 2 вы можете выделить из 12 данных фигур?



Ответы

Ex. 3

1. \_\_\_\_\_

2. \_\_\_\_\_

3. \_\_\_\_\_

4. \_\_\_\_\_

5. \_\_\_\_\_

6. \_\_\_\_\_

7. \_\_\_\_\_

8. \_\_\_\_\_

9. \_\_\_\_\_

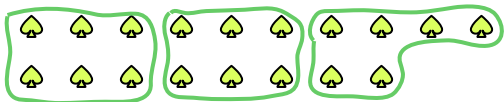
10. \_\_\_\_\_

11. \_\_\_\_\_




Используйте фигуры, чтобы получить ответ на вопрос.

Ex) Сколько групп по 6 вы можете выделить из 18 данных фигур?



1) Сколько групп по 2 вы можете выделить из 38 данных фигур?



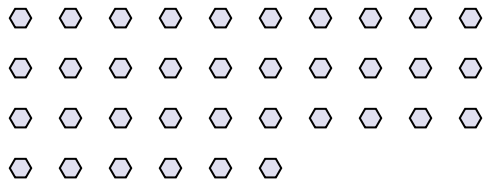
2) Сколько групп по 6 вы можете выделить из 18 данных фигур?



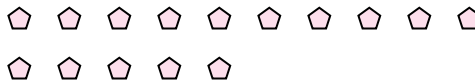
3) Сколько групп по 2 вы можете выделить из 14 данных фигур?




4) Сколько групп по 6 вы можете выделить из 36 данных фигур?



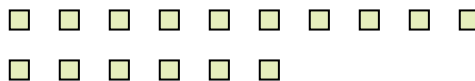
5) Сколько групп по 5 вы можете выделить из 15 данных фигур?



6) Сколько групп по 8 вы можете выделить из 32 данных фигур?



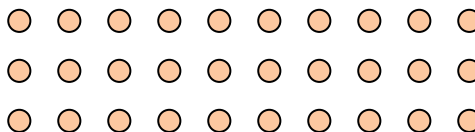
7) Сколько групп по 8 вы можете выделить из 16 данных фигур?




8) Сколько групп по 7 вы можете выделить из 21 данных фигур?



9) Сколько групп по 5 вы можете выделить из 30 данных фигур?



10) Сколько групп по 4 вы можете выделить из 36 данных фигур?



11) Сколько групп по 2 вы можете выделить из 12 данных фигур?



Ответы

Ex. 3

1. 19

2. 3

3. 7

4. 6

5. 3

6. 4

7. 2

8. 3

9. 6

10. 9

11. 6